


## Meten 15A

**Eiland:** Rekenen met omtrek  
**Leerdoel:** Teken van een omtrek op hokjes




**Opgave 1** Teken een vierkant met een omtrek van 8 meter.




= 1 m

**Opgave 2** Teken twee verschillende figuren met een omtrek van 16 meter.



= 1 m


**Opgave 3** Teken een rechthoek met een omtrek van 12 meter.



= 1 m


**Opgave 4** Teken een figuur met een omtrek van 14 meter.

*Het mag geen vierkant of rechthoek zijn.*



= 1 m

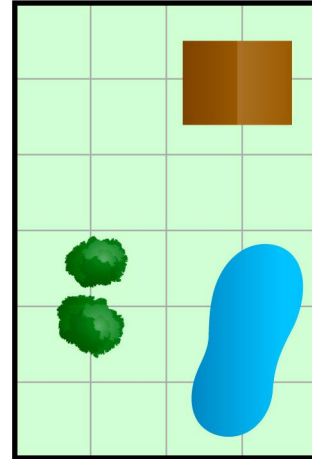
**Opgave 5** Teken een rechthoek met een omtrek van 18 meter.



—| = 1 m

**Opgave 6** De omtrek van het hek is 18 meter. Teken het hek.

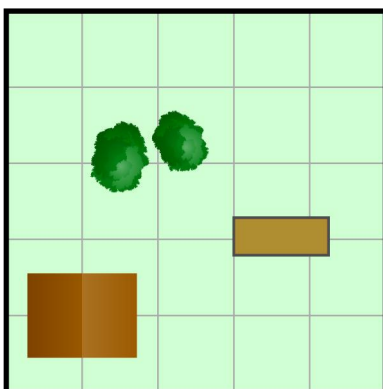
Henk wil een hek plaatsen in zijn tuin. Dit wil hij om zijn bomen en huis heen maar niet om zijn vijver.



—| = 1 m


**Opgave 7** De omtrek van het hek is 14 meter. Teken het hek.

Boer Harm wil een hek plaatsen om zijn weiland. Dit wil hij om de voederbakken en de bomen, maar niet om de schuur.



—| = 1 m

**Opgave 8** Teken drie verschillende figuren met een omtrek van 16 meter.



—| = 1 m