

Meetkunde 20B

Eiland: Lijnen

Leerdoel: Tekenen van loodrechte lijnen

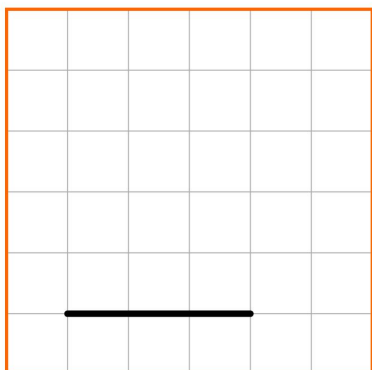


Geodriehoek

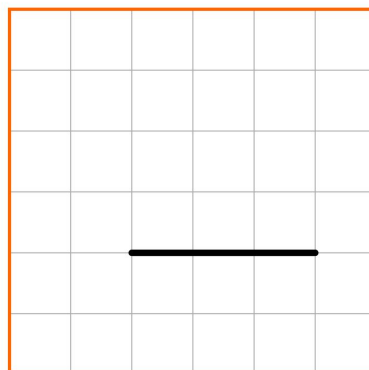


Potlood

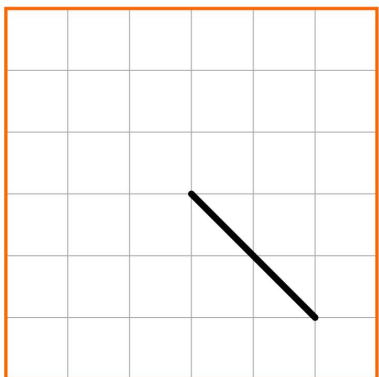
Opgave 1 Teken een loodrechte lijn op deze lijn.



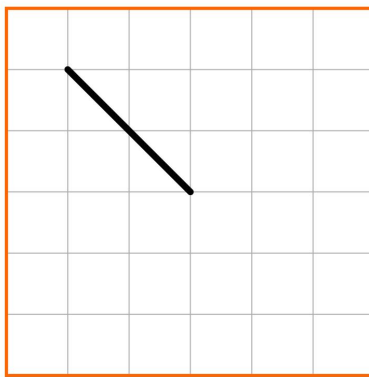
Opgave 2 Teken een loodrechte lijn op deze lijn.



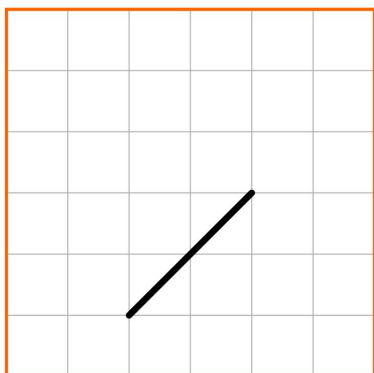
Opgave 3 Teken een loodrechte lijn op deze lijn.




Opgave 4 Teken een loodrechte lijn op deze lijn.




Opgave 5 Teken twee loodrechte lijnen op deze lijn.




Opgave 6 Teken een loodrechte lijn op deze lijn.



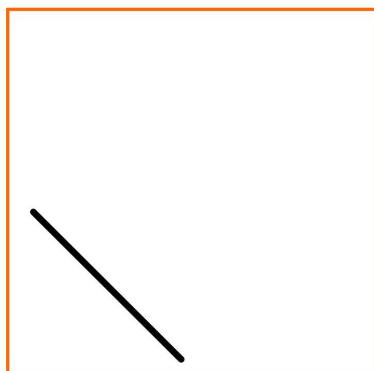
Opgave 7 Teken twee loodrechte lijnen op deze lijn.



Opgave 8 Teken twee loodrechte lijnen op deze lijn.



Opgave 9 Teken twee loodrechte lijnen op deze lijn.



Opgave 10 Teken twee loodrechte lijnen op deze lijn.

