

Meten 17A



Eiland: Berekenen van oppervlakte

Doel: Berekenen van een oppervlakte met schaal via opmeten

Opgave 1 Wat is de oppervlakte van het toilet?

_____ m²

Opgave 2 Wat is de oppervlakte van de speelkamer?

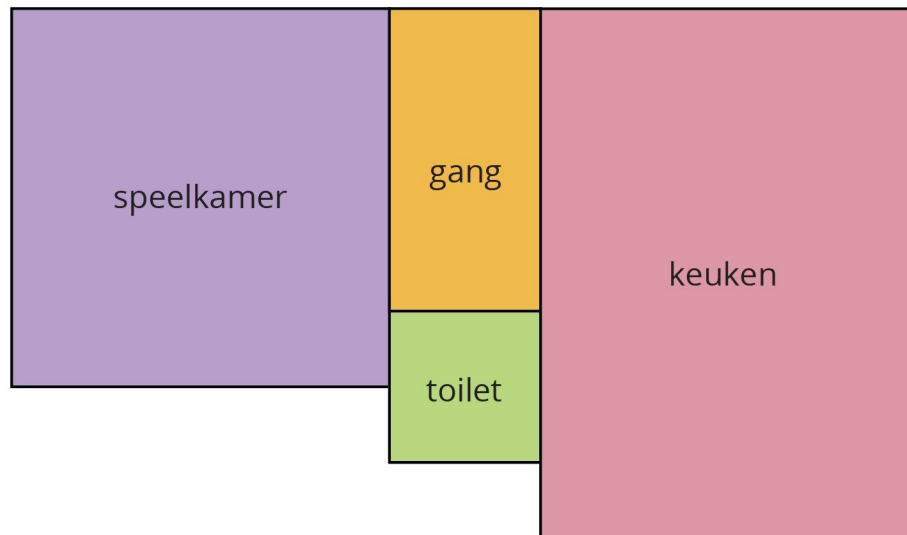
_____ m²


Opgave 3 Wat is de oppervlakte van de gang?

_____ m²

Opgave 4 Wat is de oppervlakte van de keuken?


_____ m²



 = 1 m

Opgave 5 Wat is de oppervlakte?

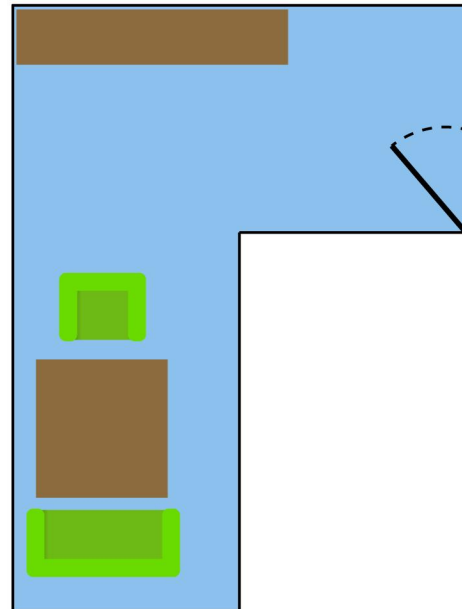
_____ km²



| | = 1 km


Opgave 6 Wat is de oppervlakte?

_____ m²



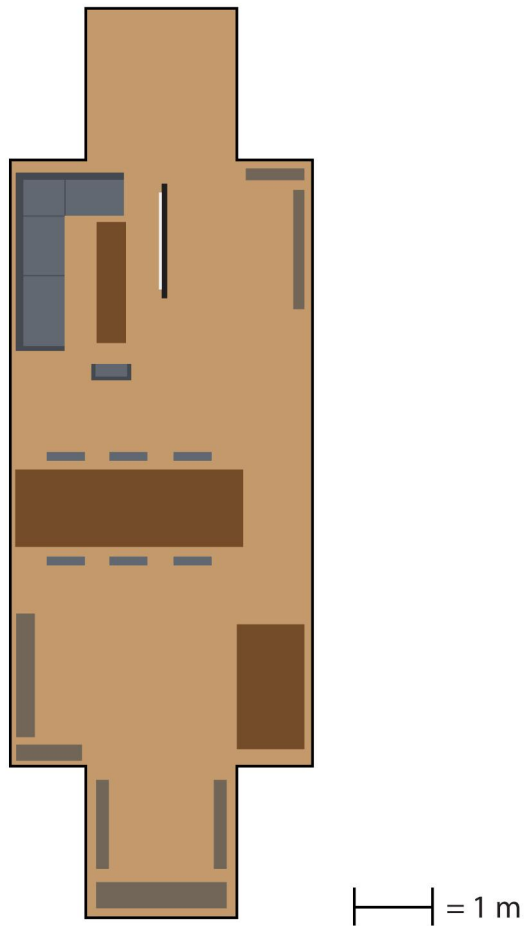
| | = 1 m

Opgave 7 Wat is de oppervlakte? _____ m²

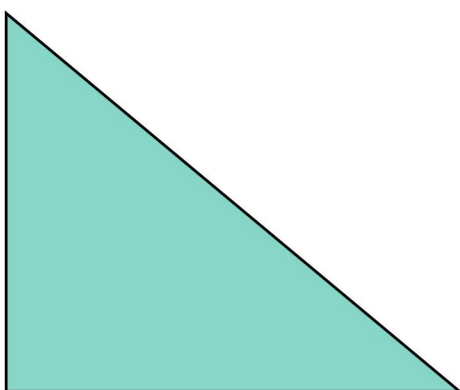


| | = 10 m

Opgave 8 Wat is de oppervlakte? _____ m²




Opgave 9 Wat is de oppervlakte? _____ km²



| | = 1 km

Opgave 10 Wat is de oppervlakte? _____ km²



| | = 10 km