

Meetkunde 5A

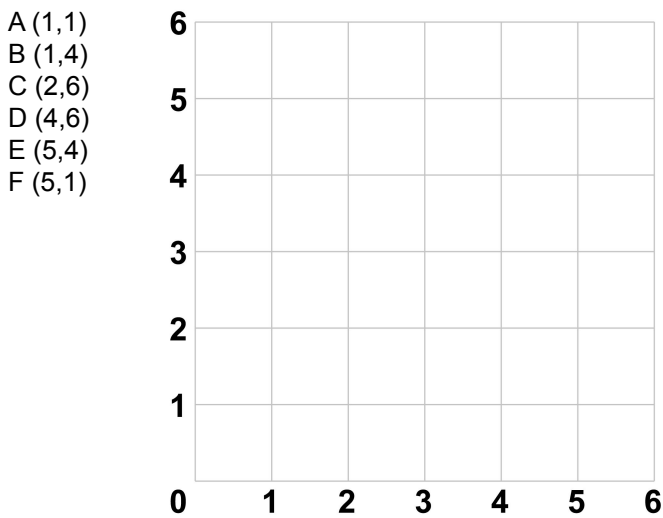
Eiland: Kaartlezen
Leerdoel: Teken en van een figuur met coördinaten



Zet bij onderstaande opgaven de punten met de coördinaten in het rooster. Trek dan lijnen van punt A naar B, van B naar C enzovoort.

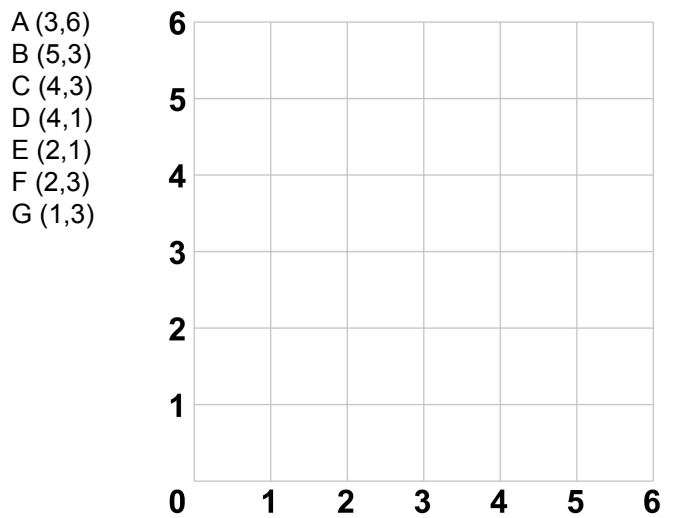
Opgave 1

Let op: Je moet van punt F ook weer naar punt A.



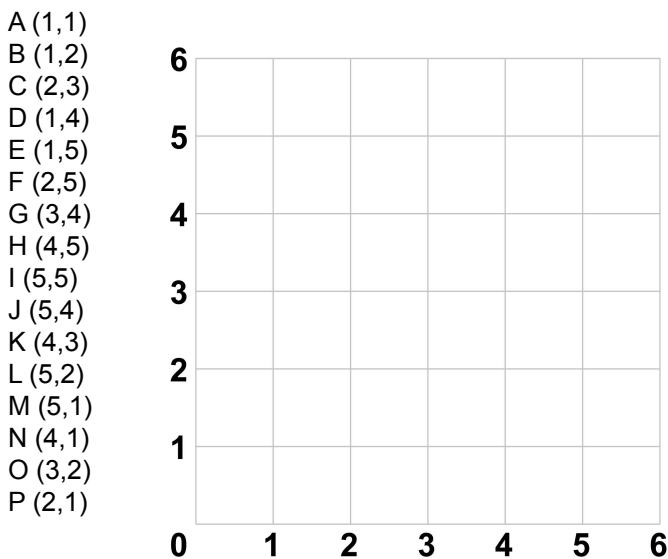
Opgave 2

Let op: Je moet van punt G ook weer naar punt A.



Opgave 3

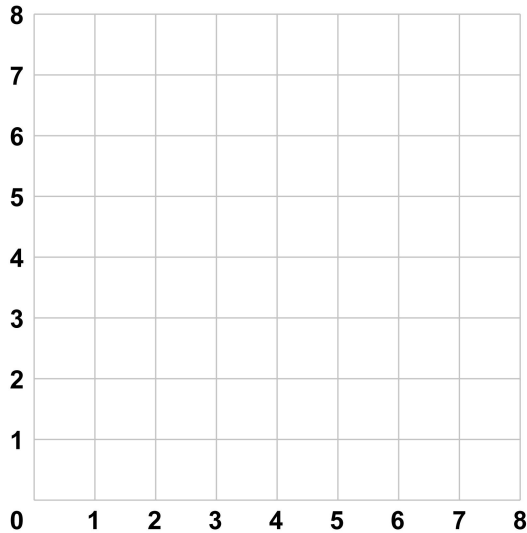
Let op: Je moet van punt P ook weer naar punt A.



Opgave 4

Let op: Je moet van punt K ook weer naar punt A.

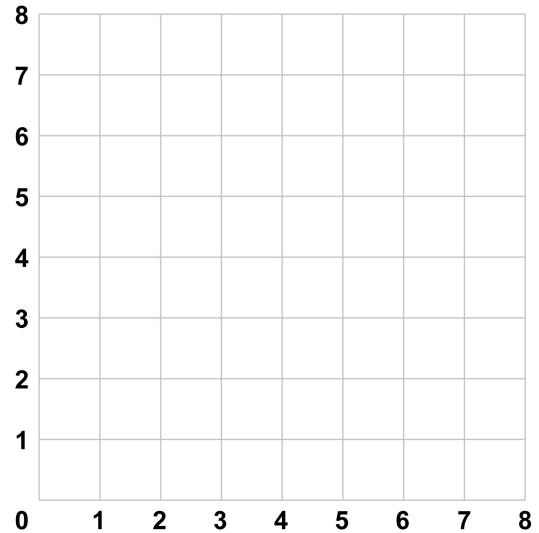
A (1,1)	D (3,3)	G (5,7)	J (3,7)
B (2,1)	E (3,1)	H (4,7)	K (1,5)
C (2,3)	F (5,1)	I (4,6)	



Opgave 5

Let op: Je moet van punt Q ook weer naar punt A.

A (1,1)	F (7,3)	K (4,6)	P (1,5)
B (2,3)	G (7,4)	L (4,4)	Q (1,4)
C (4,3)	H (6,4)	M (1,4)	
D (4,1)	I (6,6)	N (2,5)	
E (5,3)	J (5,4)	O (2,6)	



Opgave 6

Let op: Je moet van punt U ook weer naar punt A.

A (0,6)	L (-1,-4)
B (1,4)	M (-1,-1)
C (3,2)	N (-6,-1)
D (2,2)	O (-2,0)
E (4,1)	P (-5,0)
F (2,1)	Q (-2,1)
G (5,0)	R (-4,1)
H (2,0)	S (-2,2)
I (6,-1)	T (-3,2)
J (1,-1)	U (-1,4)
K (1,-4)	

