

## Meetkunde 24C

**Eiland:** Vlakke figuren

**Leerdoel:** Tekenen van een figuur met een passer



Liniaal

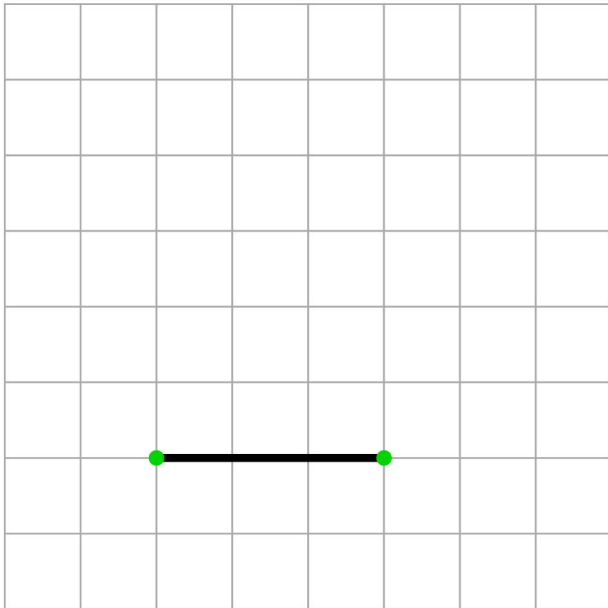


Potlood

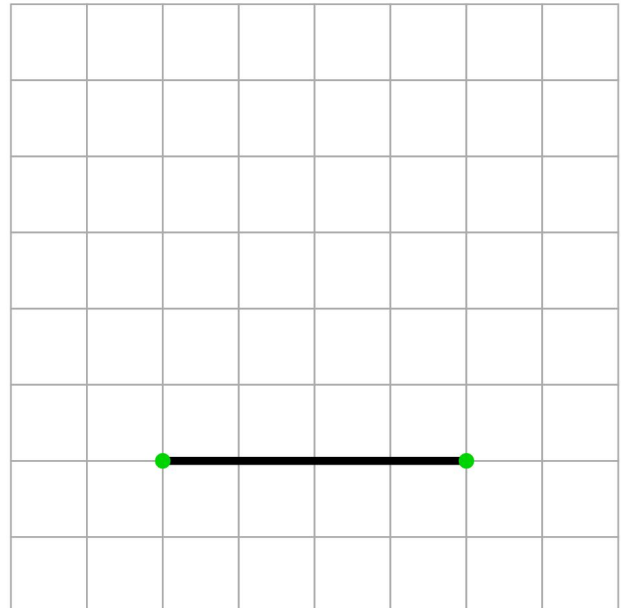


Passer

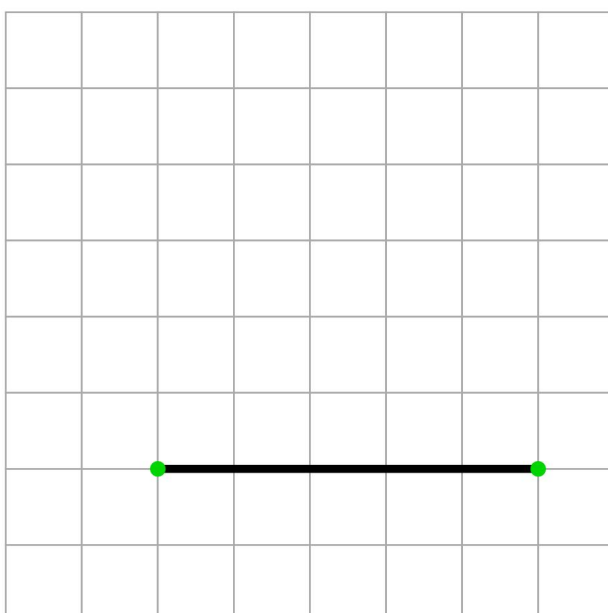
**Opgave 1** Maak de driehoek af met zijden van 4 cm.



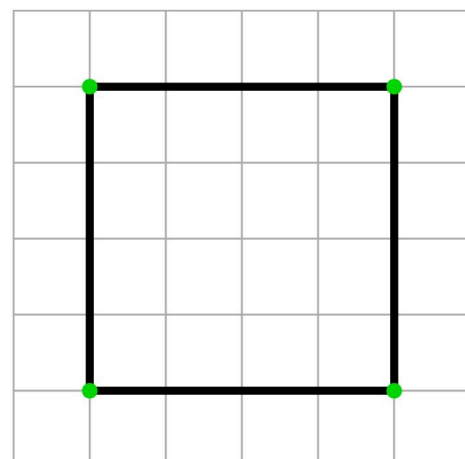
**Opgave 2** Maak de driehoek af met zijden van 3 cm.



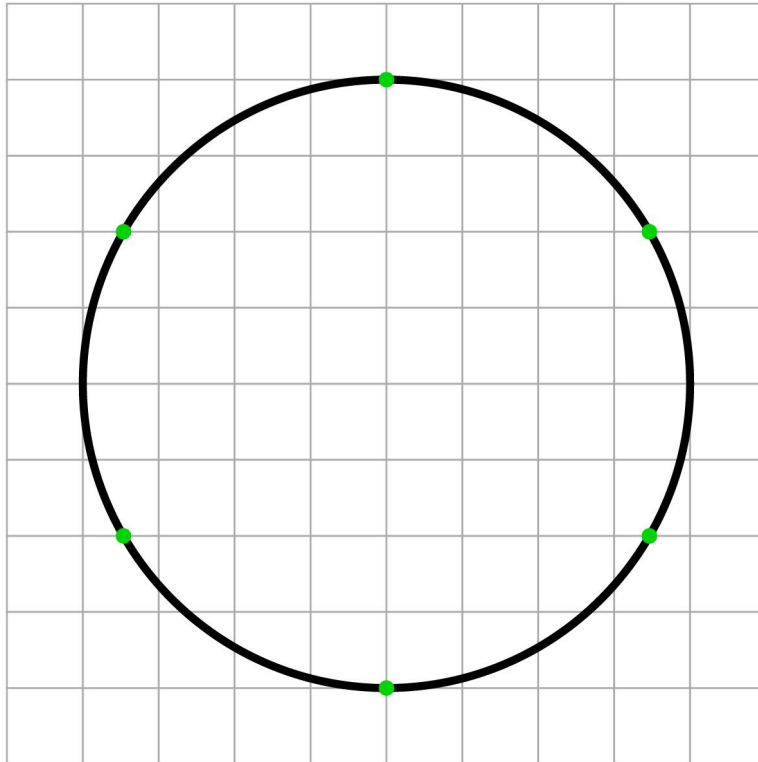
**Opgave 3** Maak de driehoek af met zijden van 6 cm.



**Opgave 4** Teken vanaf iedere stip een kwart cirkel met een straal van 4 cm.  
*Blijf binnen het zwarte vierkant.*



**Opgave 5** Teken vanaf iedere stip een deel van een cirkel met een straal van 4 cm.  
*Blijf binnen de zwarte cirkel.*



**Opgave 6** Teken vanaf de middelste stip een cirkel met een straal van 4 cm.  
Teken vanaf de andere stippen een cirkel met een straal van 2 cm.

