

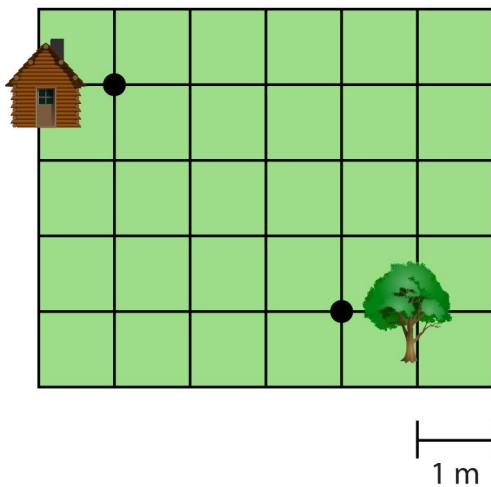
Meetkunde 4A

Eiland: Kaartlezen
Doel: Teken een route op hokjes



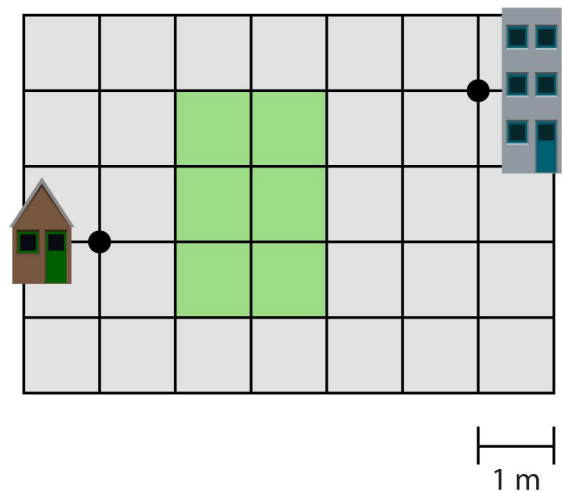
Opgave 1 Teken een route van het huis naar de boom.

Gebruik de lijnen van de hokjes.



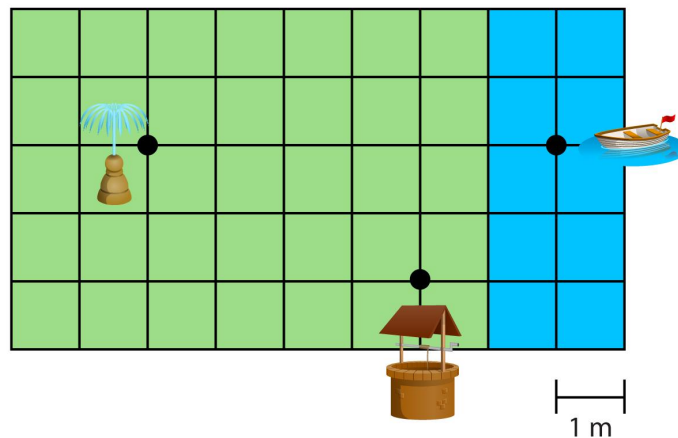
Opgave 2 Teken twee verschillende routes die even lang zijn van het huis naar de flat.

Gebruik de lijnen van de hokjes.

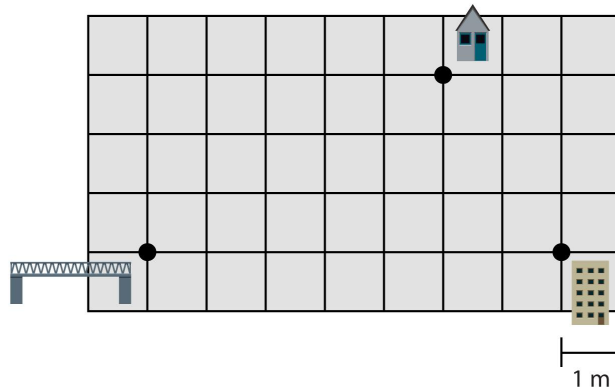


Opgave 3 Teken een route van de fontein naar de boot via de waterput.

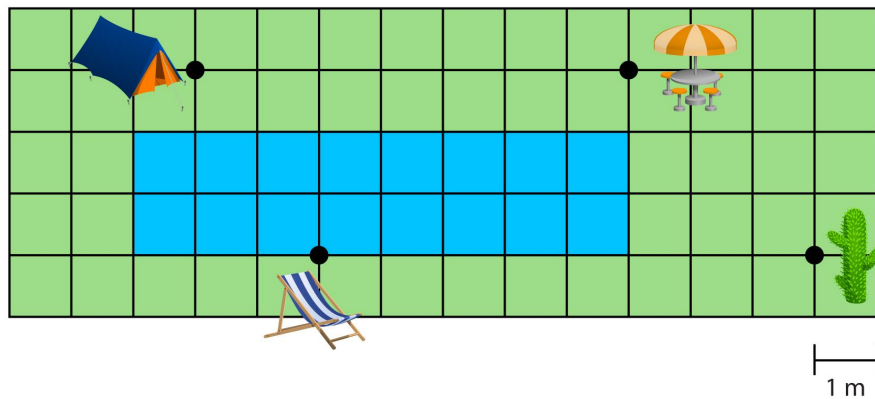
Gebruik de lijnen van de hokjes.



Opgave 4 Teken één route van de brug naar het huis en één route van de brug naar de flat.
Gebruik de lijnen van de hokjes.



Opgave 5 Teken de kortste route van de cactus naar de tent via de eetplek en de strandstoel.
Gebruik de lijnen van de hokjes.



Opgave 6 Teken de kortste route van de fiets naar de pomp via de auto.
Gebruik de lijnen van de hokjes.

