

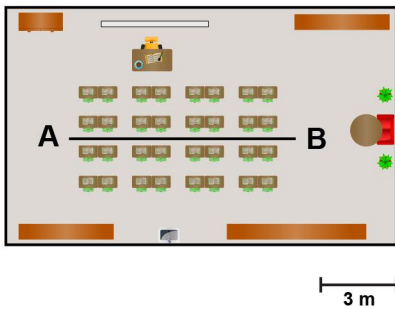
## Meten 6C

**Eiland:** Schaal  
**Doel:** Berekenen van een afstand met schaal



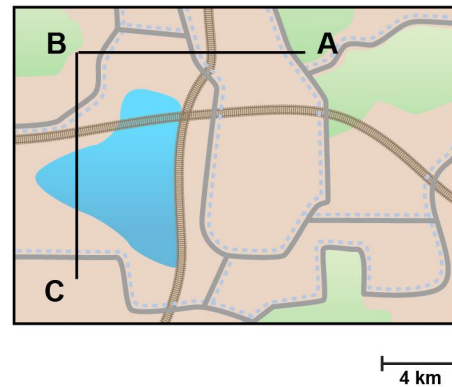
**Opgave 1** Wat is de afstand tussen A en B?

\_\_\_\_\_ meter



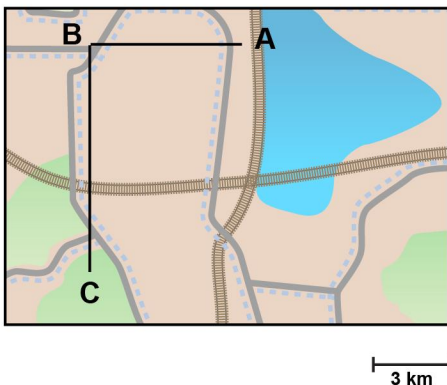
**Opgave 2** Wat is de afstand van A naar C via B?

\_\_\_\_\_ kilometer



**Opgave 3** Wat is de afstand van A naar C via B?

\_\_\_\_\_ kilometer



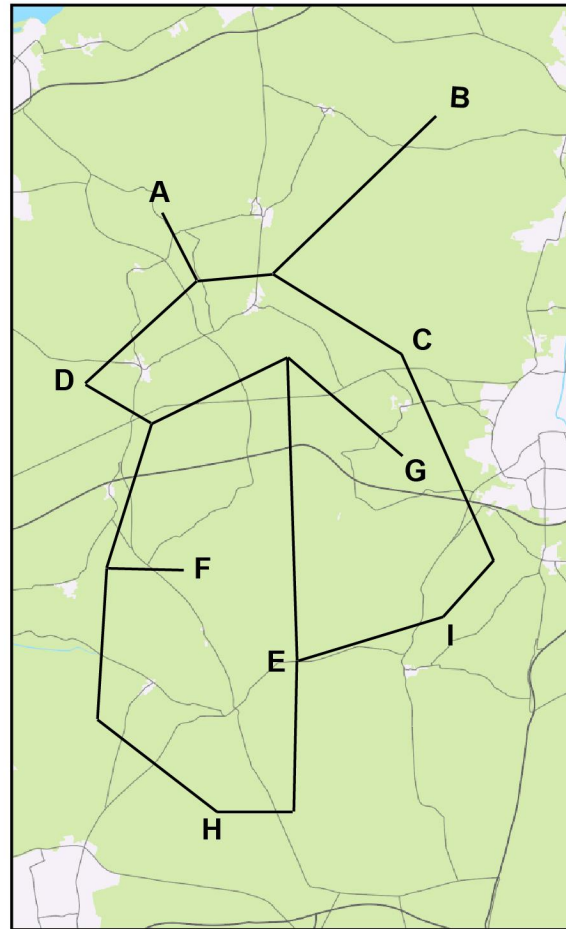
**Opgave 4** Wat is de afstand tussen D en I?  
 \_\_\_\_\_ kilometer

**Opgave 5** Wat is de kortste afstand van A naar I?  
 \_\_\_\_\_ kilometer

**Opgave 6** Wat is de kortste afstand van C naar F?  
 \_\_\_\_\_ kilometer

**Opgave 7** Wat is de kortste afstand van G naar H?  
 \_\_\_\_\_ kilometer

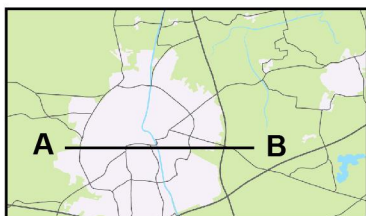
**Opgave 8** Wat is de kortste afstand van B naar E?  
 \_\_\_\_\_ kilometer



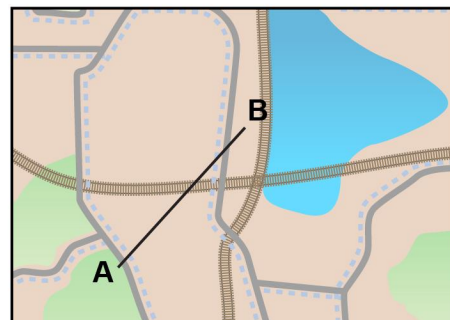
3 km

**Opgave 9** Wat is de afstand tussen A en B?  
 \_\_\_\_\_ kilometer

**Opgave 10** Wat is de afstand tussen A en B?  
 \_\_\_\_\_ kilometer



2 km



3 km