

Meetkunde 5C

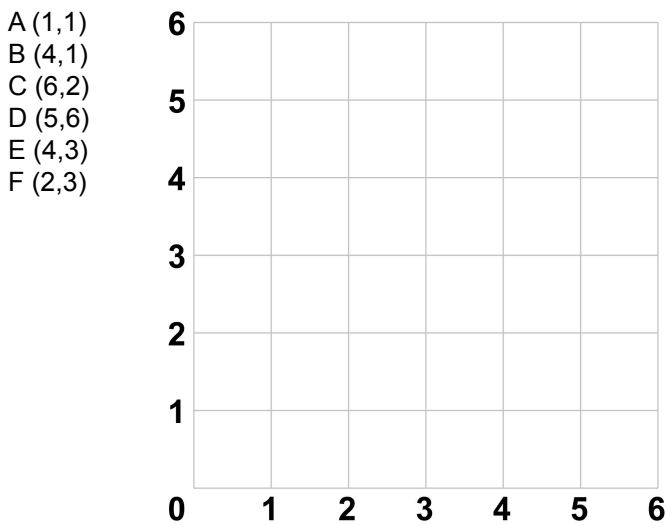
Eiland: Kaartlezen
Leerdoel: Tekenen van een figuur met coördinaten



Zet bij onderstaande opgaven de punten met de coördinaten in het rooster. Trek dan lijnen van punt A naar B, van B naar C enzovoort.

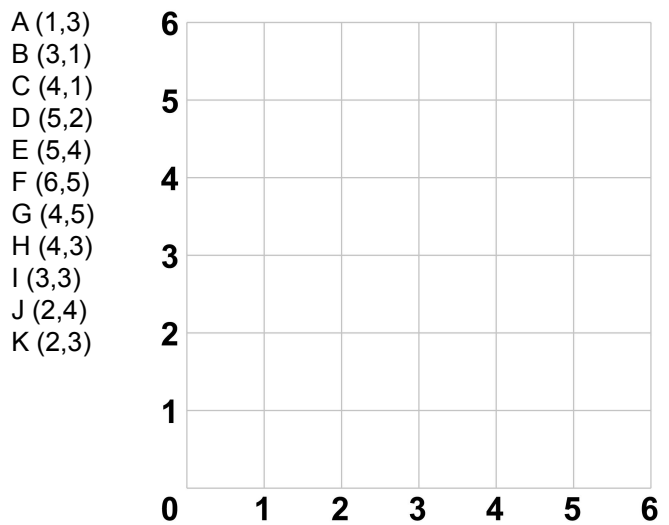
Opgave 1

Let op: Je moet van punt F ook weer naar punt A.




Opgave 2

Let op: Je moet van punt K ook weer naar punt A.



Opgave 3

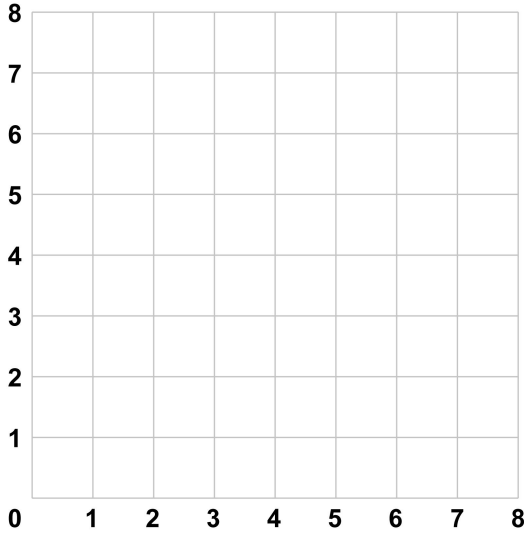
Let op: Je moet van punt P ook weer naar punt A.



Opgave 4

Let op: Je moet van punt L ook weer naar punt A.

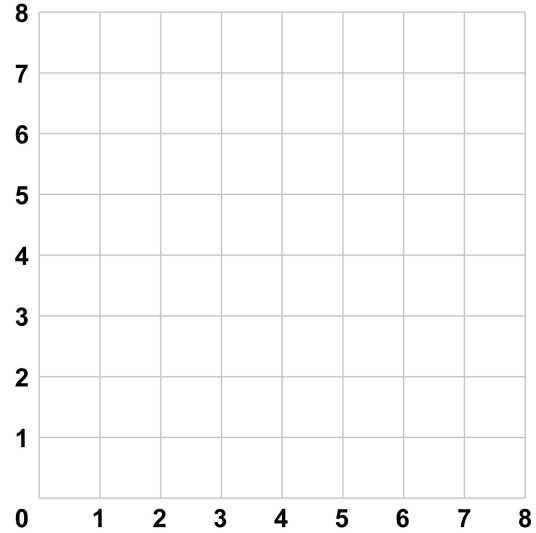
A (1,6)	D (6,7)	G (7,2)	J (2,1)
B (2,7)	E (7,6)	H (6,1)	K (1,2)
C (4,5)	F (5,4)	I (4,3)	L (3,4)



Opgave 5

Let op: Je moet van punt P ook weer naar punt A.

A (0,7)	E (5,8)	I (6,3)	M (1,2)
B (0,8)	F (6,8)	J (6,2)	N (0,2)
C (1,8)	G (6,7)	K (5,2)	O (0,3)
D (3,6)	H (4,5)	L (3,4)	P (2,5)



Opgave 6

Let op: Je moet van punt P ook weer naar punt A.

A (0,5)
B (1,2)
C (3,3)
D (2,1)
E (5,0)
F (2,-1)
G (3,-3)
H (1,-2)
I (0,-5)
J (-1,-2)
K (-3,-3)
L (-2,-1)
M (-5,0)
N (-2,1)
O (-3,3)
P (-1,2)

