

Tabellen & Grafieken 5C

Eiland: Aflezen en tekenen van lijngrafieken

Leerdoel: Teken van een lijngrafiek



Liniaal



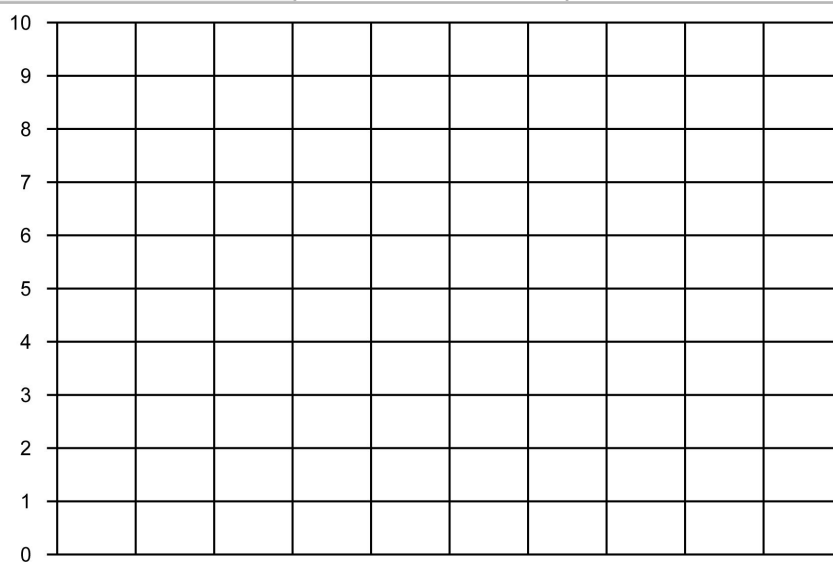
Potlood



Kleurpotloden

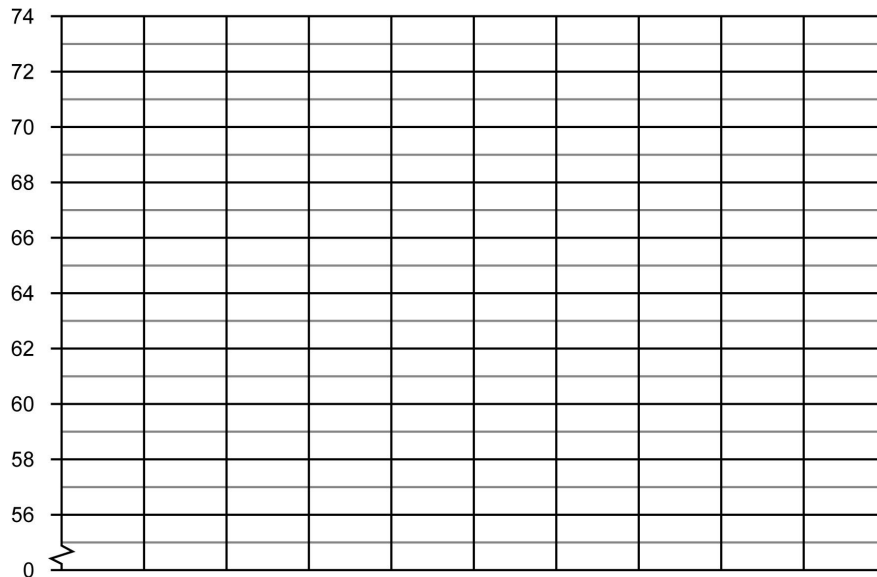
Opgave 1 Teken een lijngrafiek op basis van de tabel: Temperatuur per dagdeel.

dagdeel	's ochtends	's middags	's avonds
temperatuur	2 °C	8 °C	1 °C



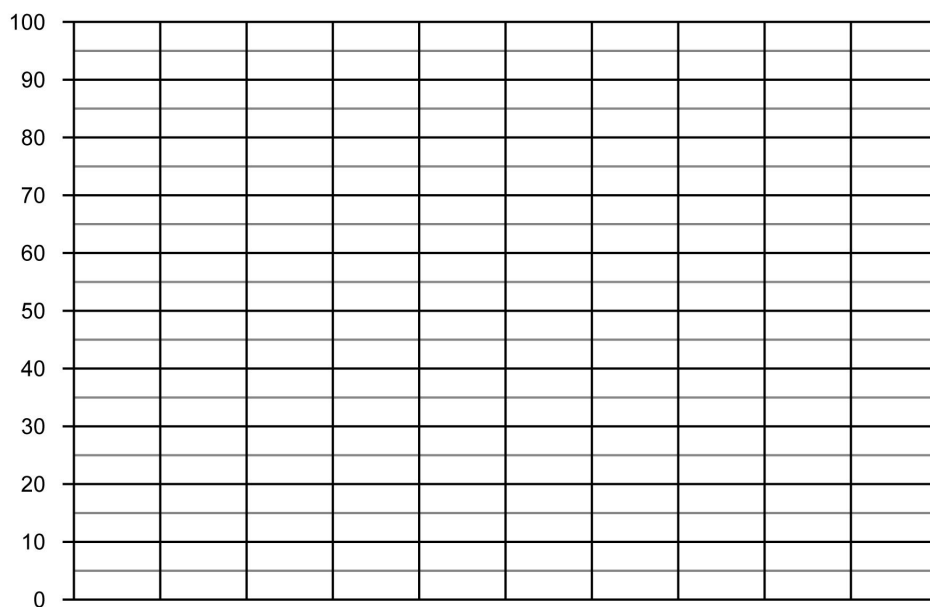
Opgave 2 Teken een lijngrafiek op basis van de tabel: Gemiddelde lengte baby's.

leeftijd in maanden	maand 1	maand 2	maand 3
lengte van een baby in cm	56	59	63



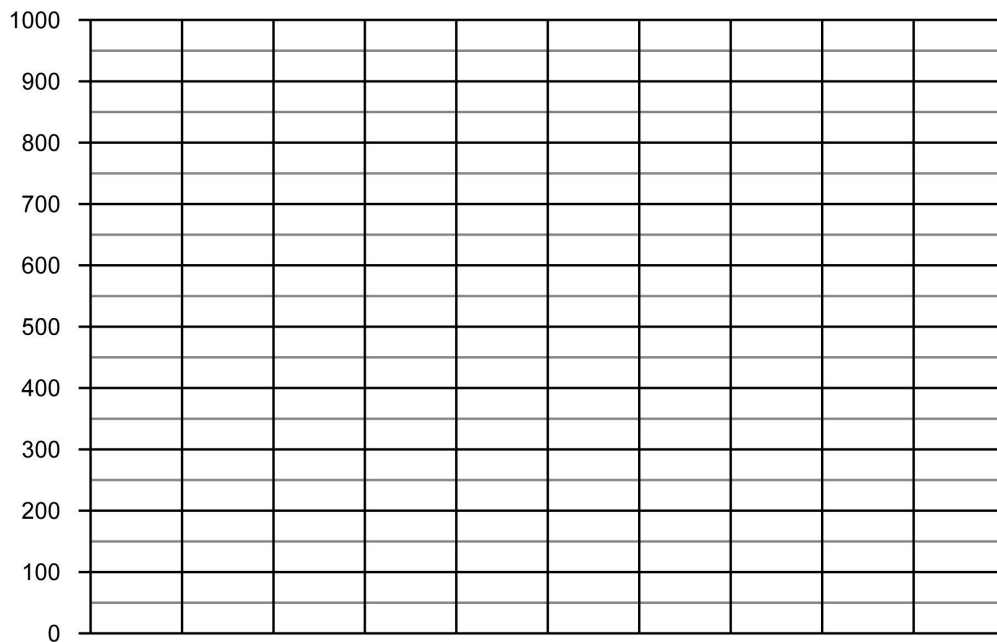
Opgave 3 Teken een lijngrafiek op basis van de tabel: Klanten in de winkel.

dag	maandag	dinsdag	woensdag	donderdag	vrijdag
aantal klanten in de winkel	80	75	90	55	60




Opgave 4 Teken een lijngrafiek op basis van de tabel: Tablet-verkoop in winkels.

winkel	Gigant	Techneut	Media	Megabite	Gigabite
aantal verkochte tablets	150	800	550	450	700



Opgave 5 Teken een lijngrafiek op basis van de tabel: Wekelijkse bezoekers dierentuin.

week	week 1	week 2	week 3	week 4	week 5	week 6
aantal bezoekers dierentuin	350	800	500	450	850	600



[illegible]