

Tabellen & Grafieken 2A

Eiland: Aflezen en tekenen van staafgrafieken
Leerdoel: Teken van een eenvoudige staafgrafiek



Kleurpotloden

Opgave 1 Hoeveel dieren tel je?


Kleur bij elk dier het juiste aantal hokjes.








10						
9						
8						
7						
6						
5						
4						
3						
2						
1						

Opgave 2 Hoeveel voorwerpen tel je?

Kleur bij elk voorwerp het juiste aantal hokjes.








10					
9					
8					
7					
6					
5					
4					
3					
2					
1					
					

Opgave 3 Hoeveel stukken groente en fruit tel je?

Kleur bij elk stuk groente en fruit het juiste aantal hokjes.








10					
9					
8					
7					
6					
5					
4					
3					
2					
1					
					

Opgave 4 Hoeveel voorwerpen tel je?

Kleur bij elk voorwerp het juiste aantal hokjes.








10					
9					
8					
7					
6					
5					
4					
3					
2					
1					
					

Opgave 5 Hoeveel dieren tel je?


Kleur bij elk dier het juiste aantal hokjes.



10					
9					
8					
7					
6					
5					
4					
3					
2					
1					
					

Opgave 6 Hoeveel voorwerpen tel je?

Kleur bij elk voorwerp het juiste aantal hokjes.



10				
9				
8				
7				
6				
5				
4				
3				
2				
1				
	