


Procenten, Breuken & Verhoudingen 5A



Eiland: Rekenen met verhoudingen en aantallen
Leerdoel: Kleuren van aantallen met een verhouding




Opgave 1 Hoeveel bakjes?
Kleur het aantal.

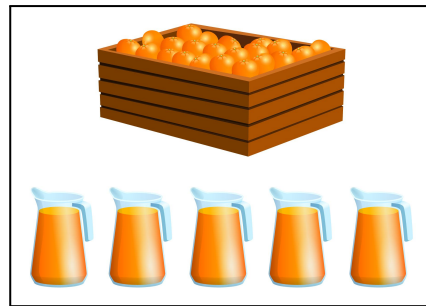


Opgave 2 Hoeveel bakjes?
Kleur het aantal.




Opgave 3 Hoeveel bakjes?
Kleur het aantal.

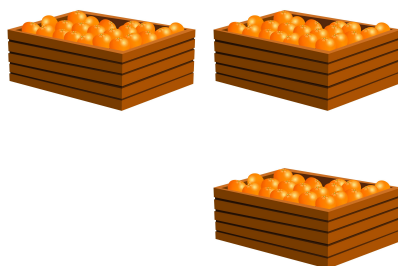




Opgave 4 Hoeveel kannen?
Kleur het aantal.



Opgave 5 Hoeveel kannen?
Kleur het aantal.



Opgave 6 Hoeveel kannen?
Kleur het aantal.

