

## Meten 8C

Eiland: Schaal

Doel: Berekenen van de schaal via opmeten



Liniaal




Potlood

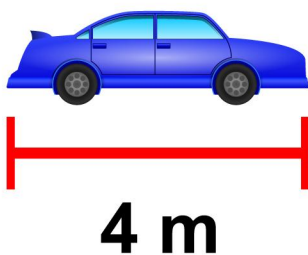
Opgave 1 Wat is de schaal? 1 : \_\_\_\_\_



Opgave 2 Wat is de schaal? 1 : \_\_\_\_\_



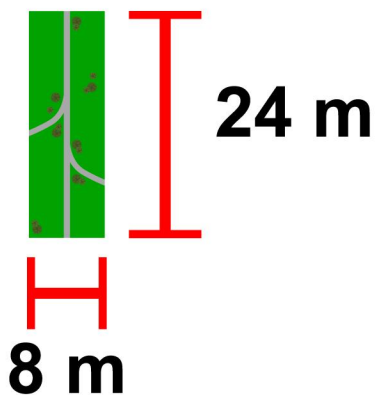
Opgave 3 Wat is de schaal? 1 : \_\_\_\_\_



Opgave 4 Wat is de schaal? 1 : \_\_\_\_\_



Opgave 5 Wat is de schaal? 1 : \_\_\_\_\_



Opgave 6 Wat is de schaal? 1 : \_\_\_\_\_



Opgave 7 Wat is de schaal? 1 : \_\_\_\_\_



Opgave 8 Wat is de schaal? 1 : \_\_\_\_\_

