

Meten 18A

Eiland: Berekenen van oppervlakte

Doel: Berekenen van een oppervlakte van een complex figuur via opmeten



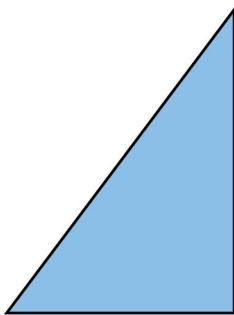
Liniaal



Potlood


Opgave 1 Wat is de oppervlakte van deze driehoek?

_____ cm²



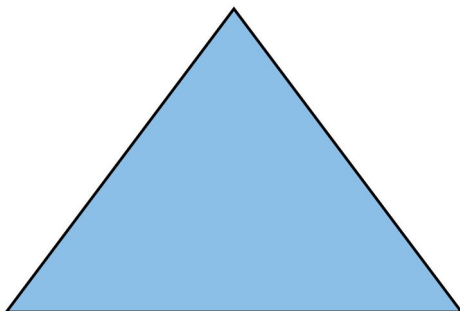
Opgave 2 Wat is de oppervlakte van deze driehoek?

_____ cm²



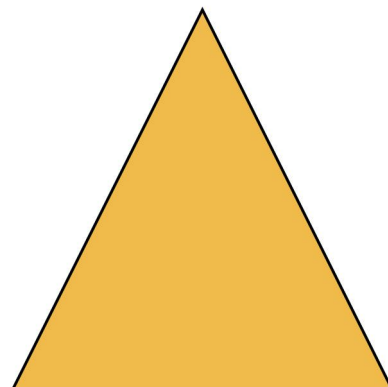
Opgave 3 Wat is de oppervlakte van deze driehoek?

_____ cm²



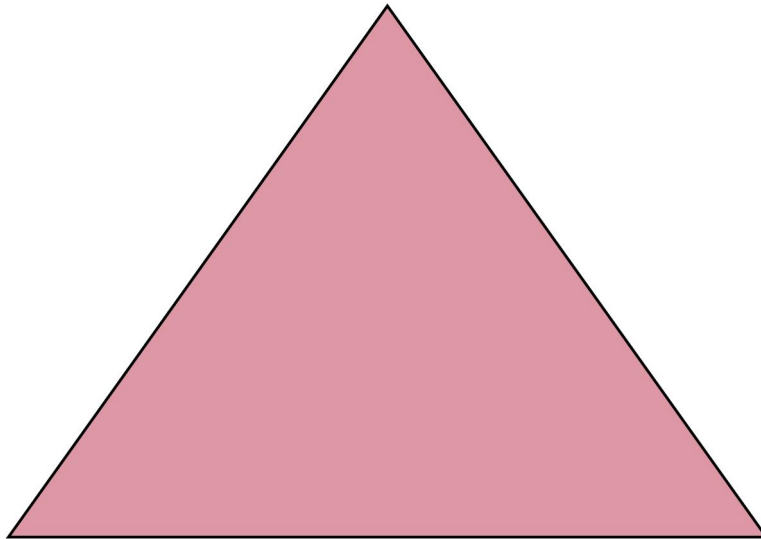
Opgave 4 Wat is de oppervlakte van deze driehoek?

_____ cm²



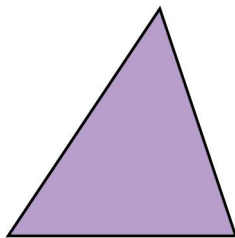
Opgave 5 Wat is de oppervlakte van deze driehoek?

_____ cm²



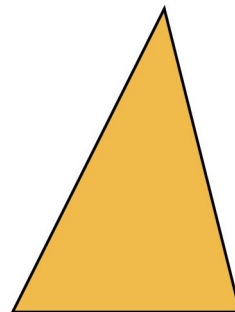
Opgave 6 Wat is de oppervlakte van deze driehoek?

_____ cm²

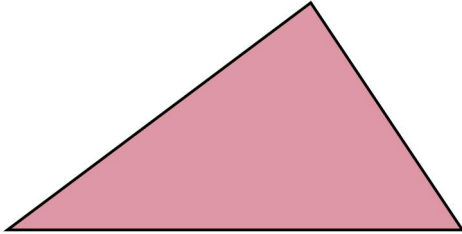


Opgave 7 Wat is de oppervlakte van deze driehoek?


_____ cm²



Opgave 8 Wat is de oppervlakte van deze driehoek?

_____ cm²

Opgave 9 Wat is de oppervlakte van dit figuur?

_____ cm²

Opgave 10 Wat is de oppervlakte van dit figuur?

_____ cm²