


## Getalbegrip 3B


**Eiland:** Herkennen van hoeveelheden  
**Doel:** Kleuren en tekenen van hoeveelheden t/m 20




### Opgave 1 Kleur 12 slakken.




### Opgave 2 Kleur 14 stippen.




### Opgave 3 Kleur 17 appels.



### Opgave 4 Kleur 19 blaadjes.




### Opgave 5 Kleur 20 snoepjes.




**Opgave 6** Teken 11 kaarsjes op de taart.



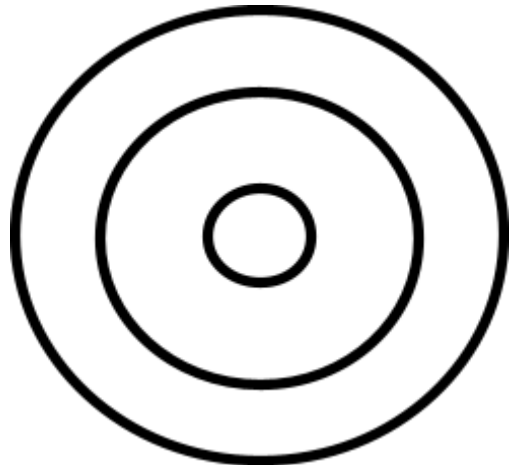
**Opgave 7** Teken 13 ballen in het doel.



**Opgave 8** Teken 15 potloden in het doosje.



**Opgave 9** Teken 16 pijlen op het bord.



**Opgave 10** Teken 18 druppels onder de wolk.

