




Procenten, Breuken & Verhoudingen 5C




Eiland: Rekenen met verhoudingen en aantallen
Leerdoel: Kleuren van aantallen met een verhouding



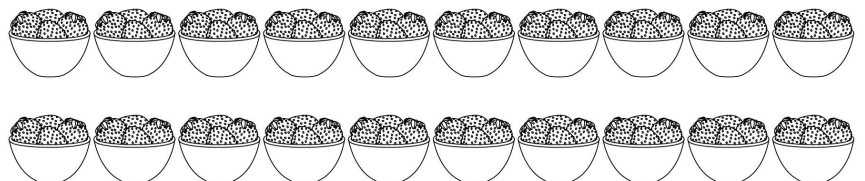

Opgave 1 Hoeveel aardbeien?
Kleur het aantal.

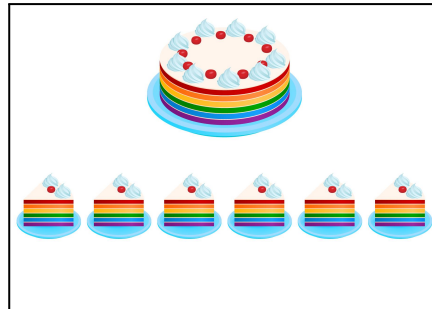


Opgave 2 Hoeveel aardbeien?
Kleur het aantal.




Opgave 3 Hoeveel aardbeien?
Kleur het aantal.






Opgave 4 Hoeveel stukken?
Kleur het aantal.



Opgave 5 Hoeveel stukken?
Kleur het aantal.



Opgave 6 Hoeveel stukken?
Kleur het aantal.

