


## Getalbegrip 7C

**Eiland:** Tellen van hoeveelheden

**Doel:** Tellen van hoeveelheden in groepjes t/m 20




**Opgave 1** Maak 10 groepjes van 2.




**Opgave 2** Maak groepjes van 3. Hoeveel houdt je over?

\_\_\_\_\_ over




**Opgave 3** Maak groepjes van 4.



**Opgave 4** Hoeveel groepjes van 5?

\_\_\_\_\_ groepjes




**Opgave 5** Maak 3 groepjes van 6.




**Opgave 6** Maak groepjes van 7. Hoeveel houd je over?

\_\_\_\_\_ over



**Opgave 7** Maak groepjes van 8.



**Opgave 8** Hoeveel groepjes van 9?

\_\_\_\_\_ groepjes

