

Tabellen & Grafieken 3C

Eiland: Aflezen en tekenen van staafgrafieken

Leerdoel: Teken en een staafgrafiek



Liniaal



Potlood



Kleurpotloden


Opgave 1 Teken een staafgrafiek op basis van de tabel: Brildragers in de middenbouw.

| middenbouwgroepen | groep 3 | groep 4 | groep 5 |
|------------------------------|---------|---------|---------|
| aantal kinderen met een bril | 5 | 3 | 9 |




Opgave 2 Teken een staafgrafiek op basis van dit verhaal.

De groenteboer verkoopt per dag allerlei fruit. Hij verkoopt 40 bananen, 35 appels, 75 peren, 90 aardbeien en 40 kiwi's.



Opgave 3 Teken een staafgrafiek op basis van de tabel: Bezoekers dierentuin per dag.

| dagen | maandag | dinsdag | woensdag | donderdag | vrijdag |
|-----------------------------|---------|---------|----------|-----------|---------|
| aantal bezoekers dierentuin | 80 | 55 | 95 | 20 | 60 |




Opgave 4 Teken een staafgrafiek op basis van dit verhaal.

Per week wordt van de bibliotheek bijgehouden hoeveel bezoekers er zijn. In week 1 zijn dat er 300, in week 2 zijn er 700 bezoekers en in week 3 zijn er 450 bezoekers.



Opgave 5 Teken een staafgrafiek op basis van de tabel: Dagelijks bezorgde pakketten.

| dagen | dinsdag | woensdag | donderdag | vrijdag |
|---------------------------|---------|----------|-----------|---------|
| aantal bezorgde pakketten | 800 | 250 | 900 | 550 |



Opgave 6 Ga op onderzoek in je klas. Verzamel gegevens van jouw klasgenoten en zet deze in de tabel. Teken dan een staafgrafiek op basis van de tabel en schrijf de titel erboven.

| | | | | | |
|--|--|--|--|--|--|
| | | | | | |
| | | | | | |

