


## Procenten, Breuken & Verhoudingen 5

**Eiland:** Rekenen met verhoudingen en aantallen  
**Leerdoel:** Kleuren van aantallen met een verhouding




**Opgave 1** Hoeveel bakjes?  
 Kleur het aantal.




**Opgave 2** Hoeveel bakjes?  
 Kleur het aantal.




**Opgave 3** Hoeveel bakjes?  
 Kleur het aantal.







**Opgave 4** Hoeveel boterhammen?  
Kleur het aantal.




**Opgave 5** Hoeveel boterhammen?  
Kleur het aantal.

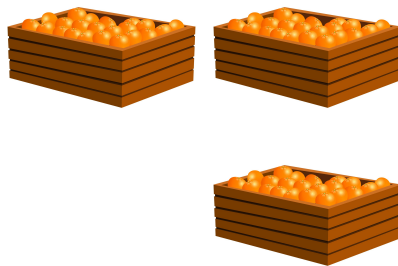


**Opgave 6** Hoeveel boterhammen?  
Kleur het aantal.








**Opgave 7** Hoeveel kannen?  
Kleur het aantal.




**Opgave 8** Hoeveel kannen?  
Kleur het aantal.





**Opgave 9** Hoeveel stukken?  
Kleur het aantal.



**Opgave 10** Hoeveel stukken?  
Kleur het aantal.

