

## Meten 2A

**Eiland:** Meten met meetinstrument  
**Doel:** Meten van eenvoudige lijnen met een meetinstrument



Liniaal




Potlood



Kleurpotloden


**Opgave 1** Hoeveel centimeter is de lijn?

\_\_\_\_\_ cm




**Opgave 2** Hoeveel centimeter is de lijn?

\_\_\_\_\_ cm




**Opgave 3** Hoeveel centimeter is de lijn?

\_\_\_\_\_ cm




**Opgave 4** Hoeveel centimeter is de lijn?

\_\_\_\_\_ cm




**Opgave 5** Hoe lang is de staart?

\_\_\_\_\_ cm



**Opgave 6** Hoe lang is de snavel?

\_\_\_\_\_ cm



**Opgave 7** Hoe lang is de steel van de bloem?

cm

\_\_\_\_\_

**Opgave 8** Kleur de bloem met een steel van 7 cm.

