

Meten 17C



Liniaal



Potlood

Eiland: Berekenen van oppervlakte

Doel: Berekenen van een oppervlakte met schaal via opmeten

Opgave 1 Wat is de oppervlakte van de badkamer?

_____ m^2

Opgave 2 Wat is de oppervlakte van de slaapkamer?

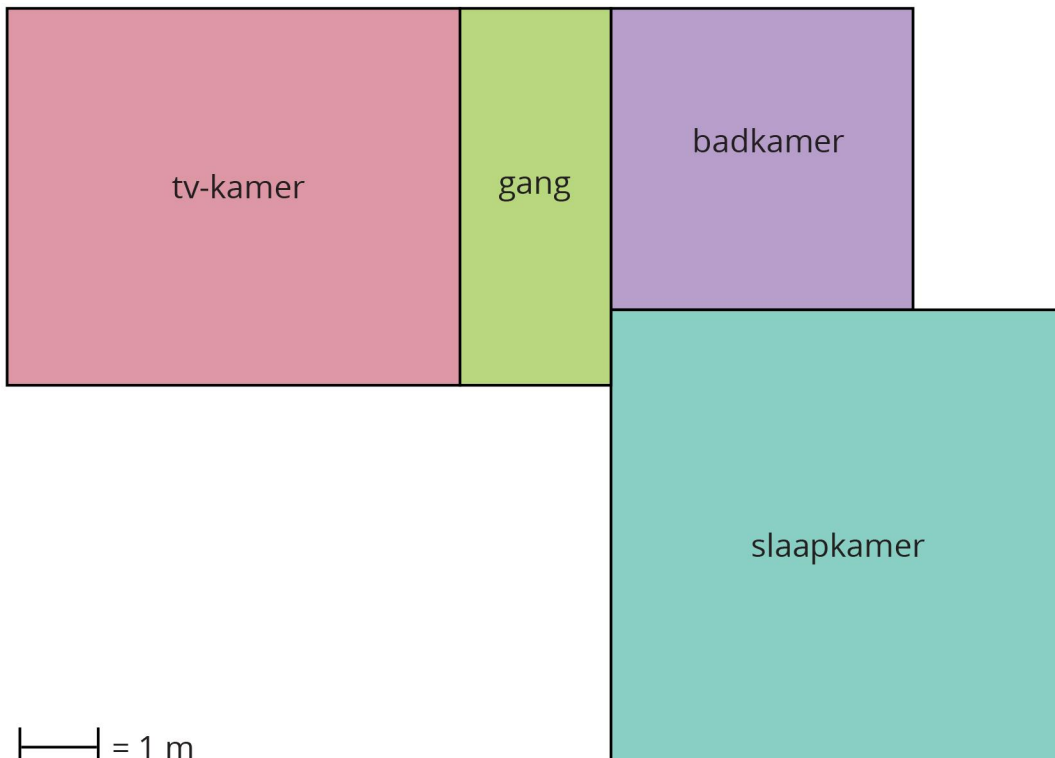
_____ m^2

Opgave 3 Wat is de oppervlakte van de gang?

_____ m^2

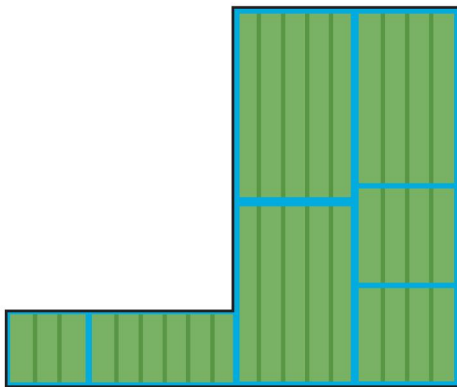
Opgave 4 Wat is de oppervlakte van de tv-kamer?

_____ m^2

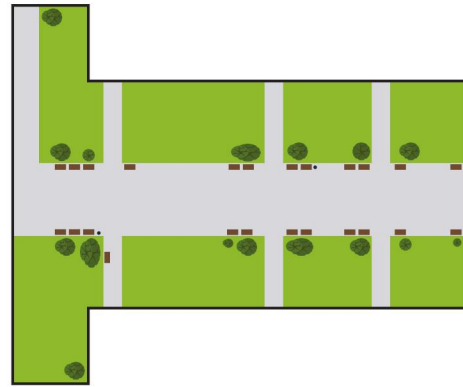


Opgave 5 Wat is de oppervlakte? _____ km²

Opgave 6 Wat is de oppervlakte? _____ m²



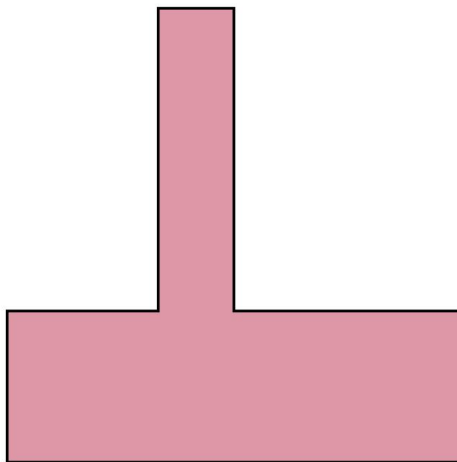
| | = 2 km




| | = 10 m

Opgave 7 Wat is de oppervlakte? _____ km²

Opgave 8 Wat is de oppervlakte? _____ m²

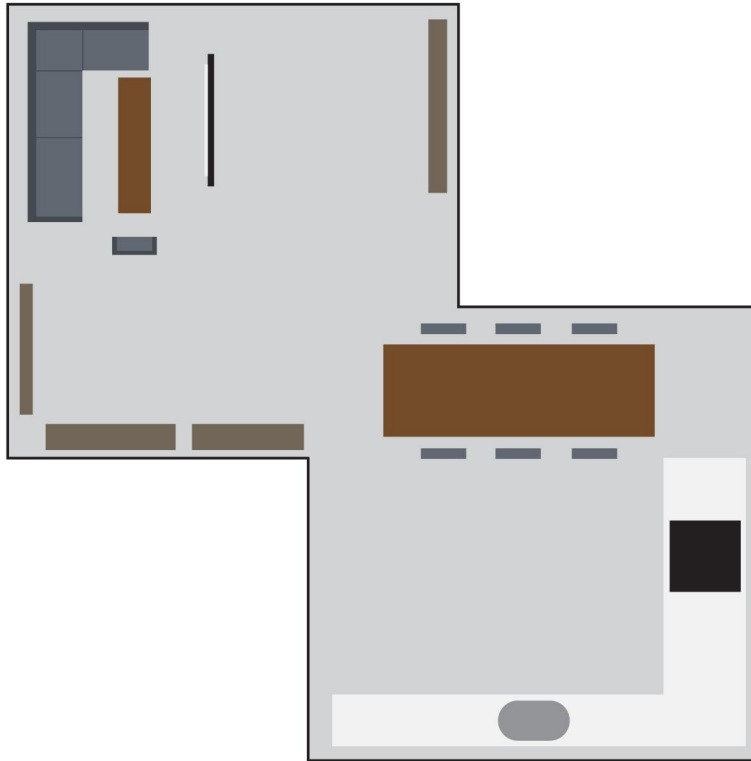


| | = 2 km



| | = 10 m

Opgave 9 Wat is de oppervlakte? _____ m²



— = 1 m

Opgave 10 Wat is de oppervlakte? _____ km²



— = 2 km