

Meetkunde 5B

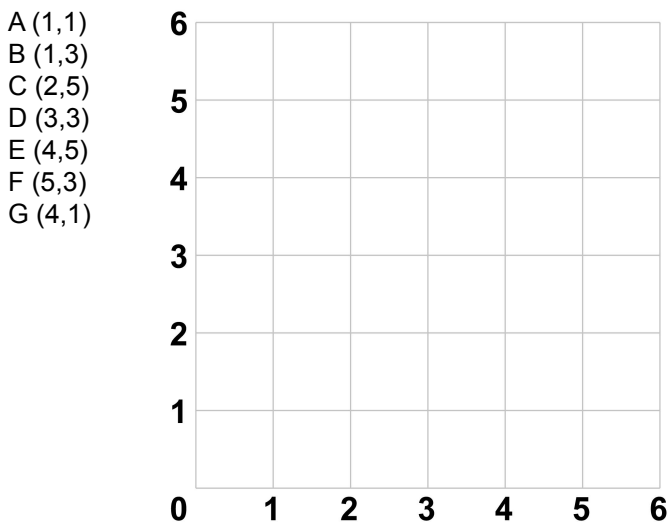
Eiland: Kaartlezen
Leerdoel: Tekenen van een figuur met coördinaten



Zet bij onderstaande opgaven de punten met de coördinaten in het rooster. Trek dan lijnen van punt A naar B, van B naar C enzovoort.

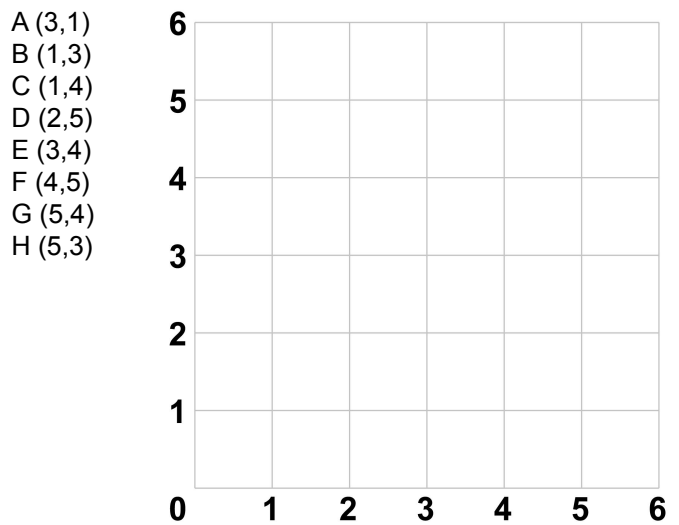
Opgave 1

Let op: Je moet van punt G ook weer naar punt A.




Opgave 2

Let op: Je moet van punt H ook weer naar punt A.



Opgave 3

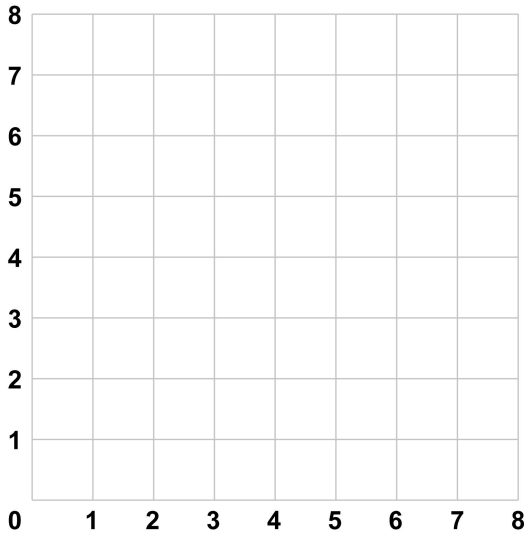
Let op: Je moet van punt P ook weer naar punt A.



Opgave 4

Let op: Je moet van punt L ook weer naar punt A.

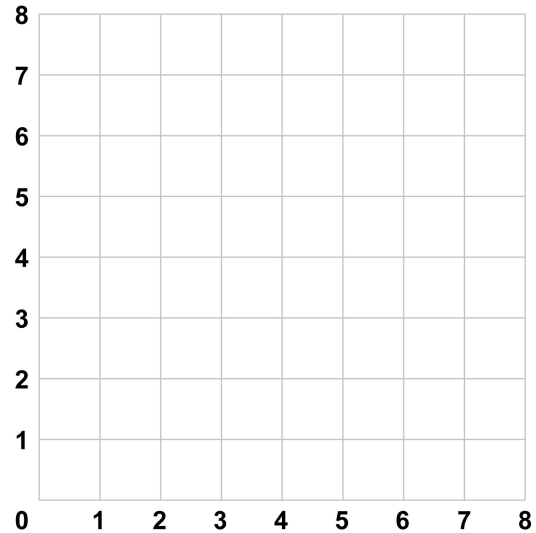
A (4,1)	D (1,5)	G (4,6)	J (7,5)
B (3,3)	E (1,7)	H (5,7)	K (5,4)
C (3,4)	F (3,7)	I (7,7)	L (5,3)



Opgave 5

Let op: Je moet van punt S ook weer naar punt A.

A (1,7)	F (7,4)	K (6,0)	P (3,2)
B (4,7)	G (8,5)	L (5,1)	Q (2,3)
C (5,6)	H (8,3)	M (6,2)	R (2,4)
D (5,5)	I (7,2)	N (4,2)	S (1,5)
E (6,4)	J (7,1)	O (3,3)	



Opgave 6

Let op: Je moet van punt X ook weer naar punt A.

A (-2,6)	M (1,-3)
B (2,6)	N (-1,-3)
C (2,4)	O (-1,-5)
D (1,4)	P (-3,-5)
E (1,3)	Q (-3,2)
F (5,3)	R (-4,2)
G (5,-1)	S (-4,-1)
H (4,-1)	T (-5,-1)
I (4,2)	U (-5,3)
J (3,2)	V (-1,3)
K (3,-5)	W (-1,4)
L (1,-5)	X (-2,4)

