

Meten 17B



Liniaal



Potlood

Eiland: Berekenen van oppervlakte

Doel: Berekenen van een oppervlakte met schaal via opmeten

Opgave 1 Wat is de oppervlakte van de berging?

_____ m²

Opgave 2 Wat is de oppervlakte van de woonkamer?

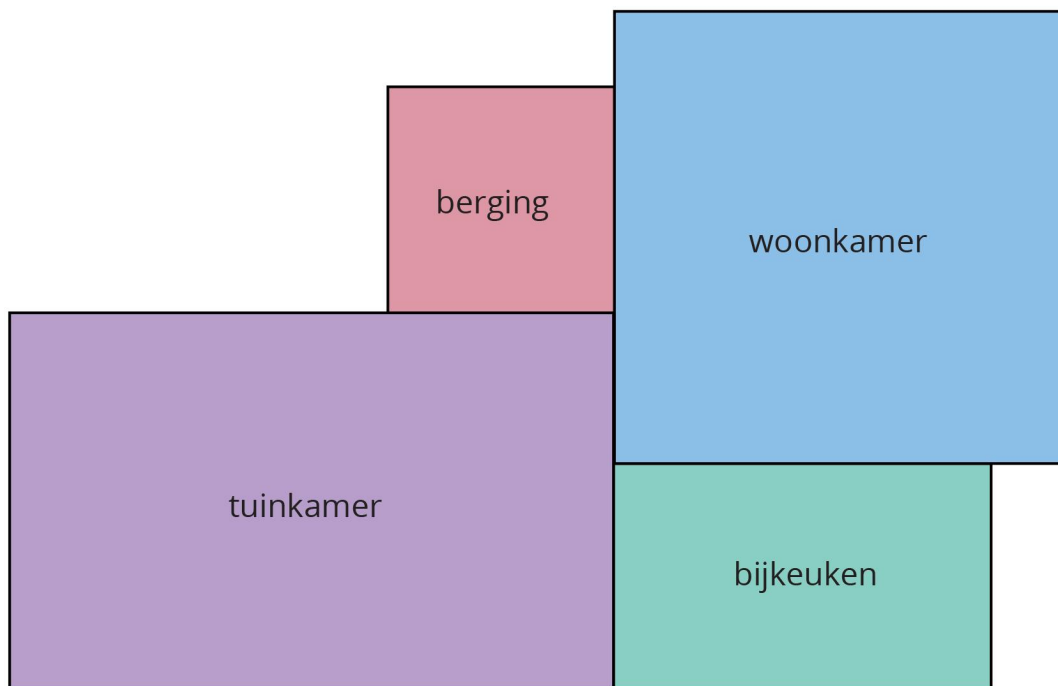
_____ m²


Opgave 3 Wat is de oppervlakte van de bijkeuken?

_____ m²


Opgave 4 Wat is de oppervlakte van de tuinkamer?

_____ m²



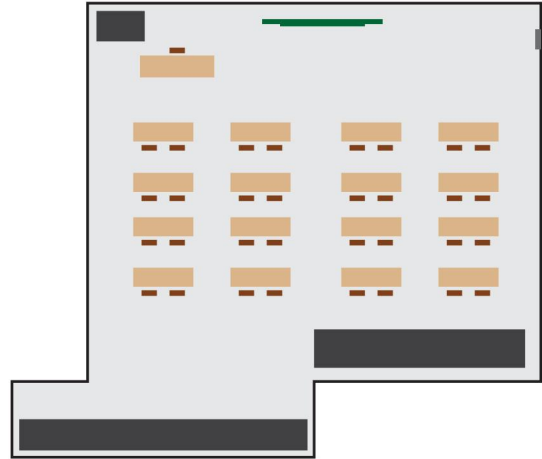
 = 1 m

Opgave 5 Wat is de oppervlakte?

_____ km²

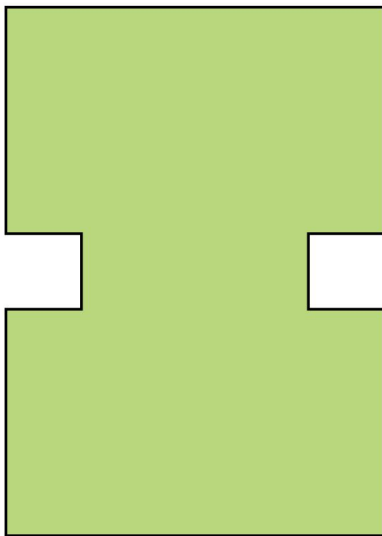
| | = 10 km

Opgave 6 Wat is de oppervlakte?

_____ m²


| | = 2 m

Opgave 7 Wat is de oppervlakte?

_____ km²

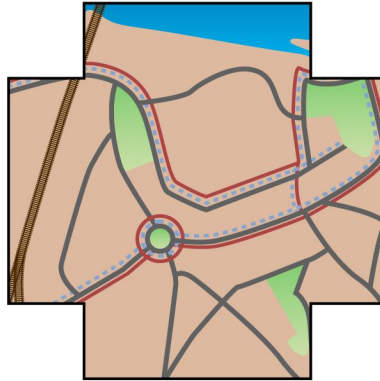
| | = 10 km

Opgave 8 Wat is de oppervlakte?

_____ km²

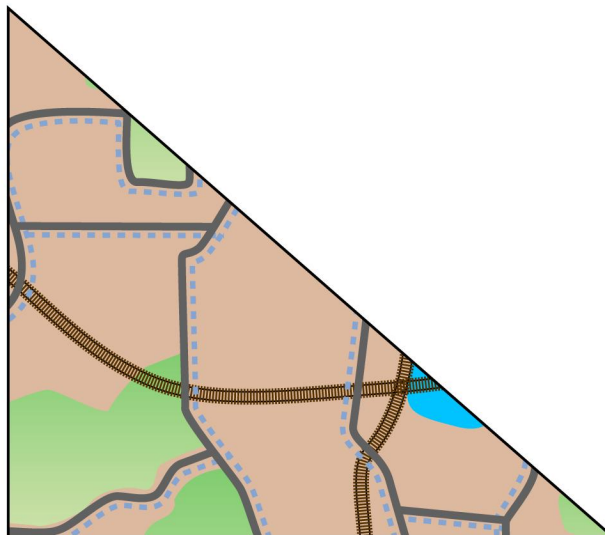
| | = 2 km

Opgave 9 Wat is de oppervlakte? _____ km²



— = 1 km

Opgave 10 Wat is de oppervlakte? _____ km²



— = 2 km