

## Meten 7C

Eiland: Schaal

Doel: Berekenen van een lengte met schaal



Liniaal



Potlood

**Opgave 1** Wat is de lengte van de pen in het echt?

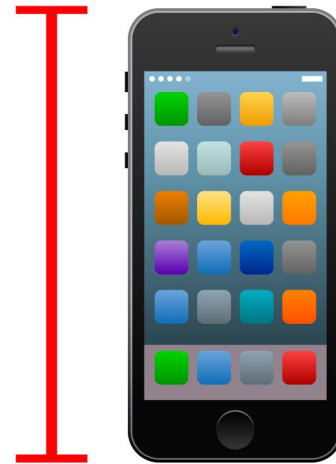
\_\_\_\_\_ centimeter



schaal 1 : 2

**Opgave 2** Wat is de hoogte van de telefoon in het echt?


\_\_\_\_\_ centimeter



schaal 1 : 2

**Opgave 3** Wat is de breedte van de tafel in het echt?

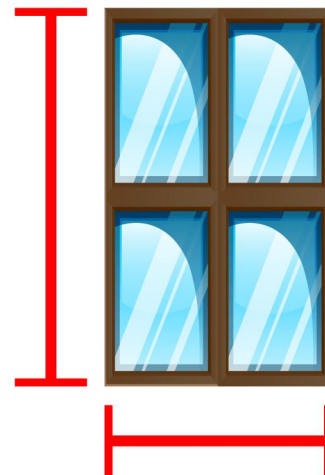
\_\_\_\_\_ centimeter



schaal 1 : 10

**Opgave 4** Wat is de hoogte en breedte van het raam in het echt?

\_\_\_\_\_ en \_\_\_\_\_ centimeter



schaal 1 : 20

**Opgave 5** Wat is de lengte van de bank in het echt?

\_\_\_\_\_ centimeter



schaal 1 : 50

**Opgave 6** Wat is de lengte en hoogte van de vrachtwagen in het echt? Noteer je antwoord in meters.

\_\_\_\_\_ en \_\_\_\_\_ meter

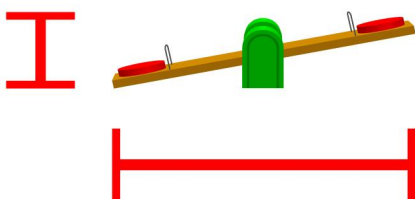


schaal 1 : 100

**Opgave 7** Wat is de lengte en hoogte van de wip in het echt?

Noteer je antwoord in meters.

\_\_\_\_\_ en \_\_\_\_\_ meter

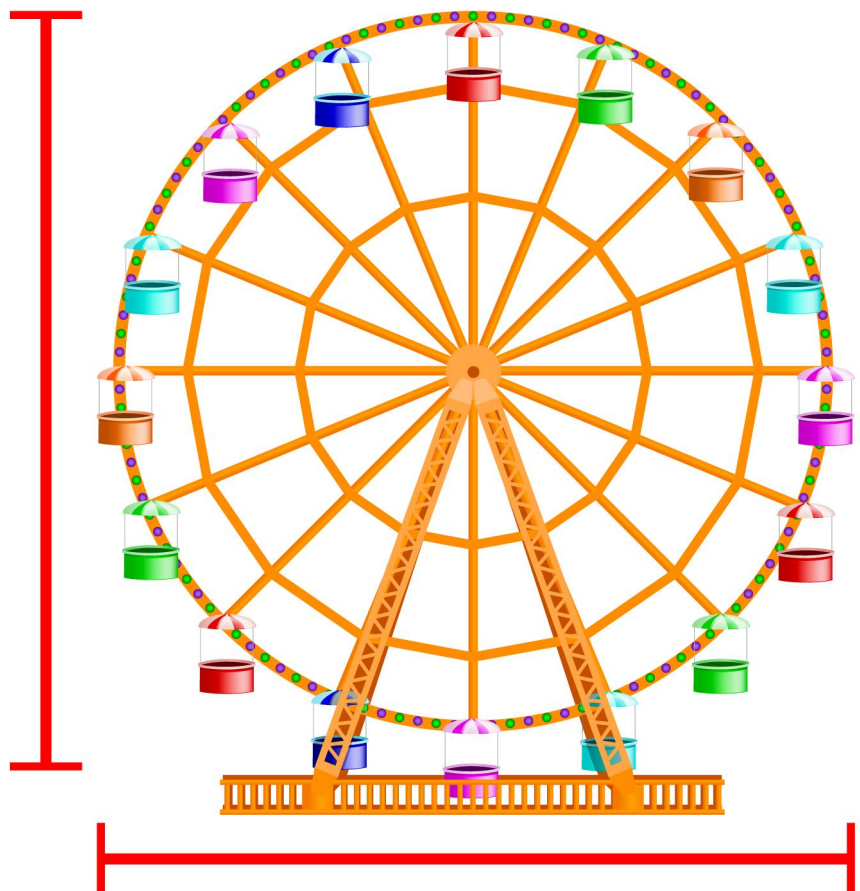


schaal 1 : 100

**Opgave 8** Wat is de hoogte en breedte van het reuzenrad in het echt?

Noteer je antwoord in meters.

\_\_\_\_\_ en \_\_\_\_\_ meter



schaal 1 : 1500