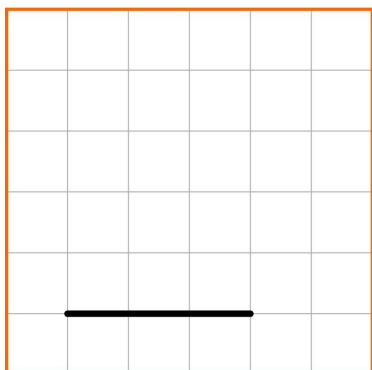


Meetkunde 21B

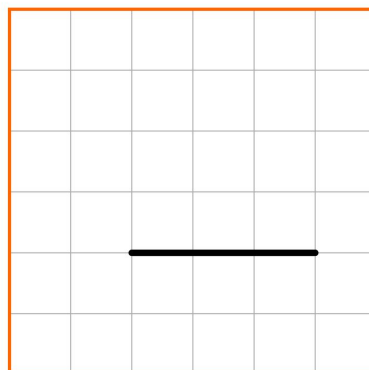
Eiland: Lijnen
Leerdoel: Teken van evenwijdige lijnen



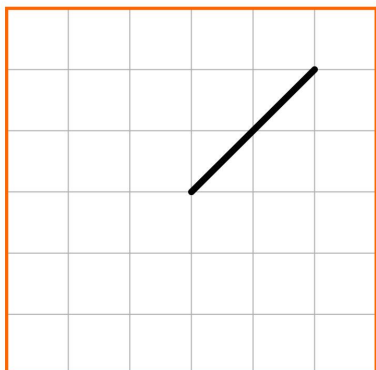
Opgave 1 Teken een lijn die evenwijdig is aan deze lijn.




Opgave 2 Teken een lijn die evenwijdig is aan deze lijn.




Opgave 3 Teken een lijn die evenwijdig is aan deze lijn.



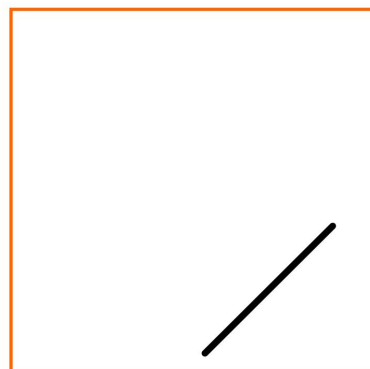
Opgave 4 Teken een lijn die evenwijdig is aan deze lijn.




Opgave 5 Teken een lijn die evenwijdig is aan deze lijn.




Opgave 6 Teken een lijn die evenwijdig is aan deze lijn.



Opgave 7 Teken een lijn die evenwijdig is aan deze lijn.



Opgave 8 Teken twee evenwijdige lijnen.



Opgave 9 Teken twee evenwijdige lijnen.



Opgave 10 Teken twee evenwijdige lijnen.

