

Meetkunde 6B

Eiland: Kaartlezen

Doel: Teken van een route op een kaart met schaal



Liniaal



Potlood

Opgave 1 Teken een route.

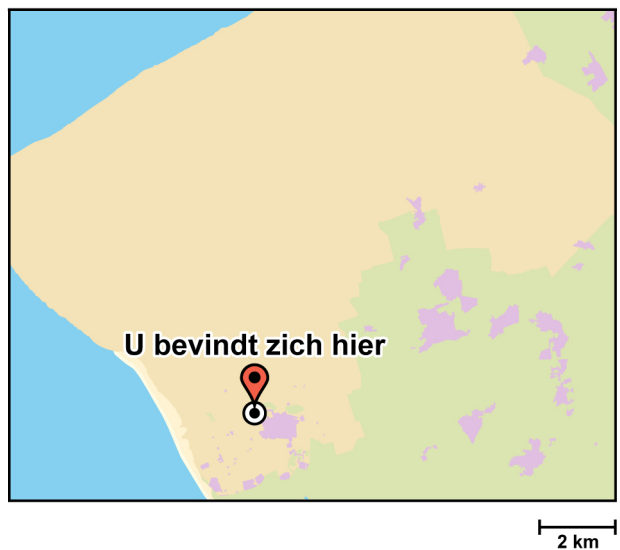
Begin en eindig bij "U bevindt zich hier".

Hoeveel kilometer is je route? _____ km



Opgave 2 Teken een route van 30 km.

Begin en eindig bij "U bevindt zich hier".



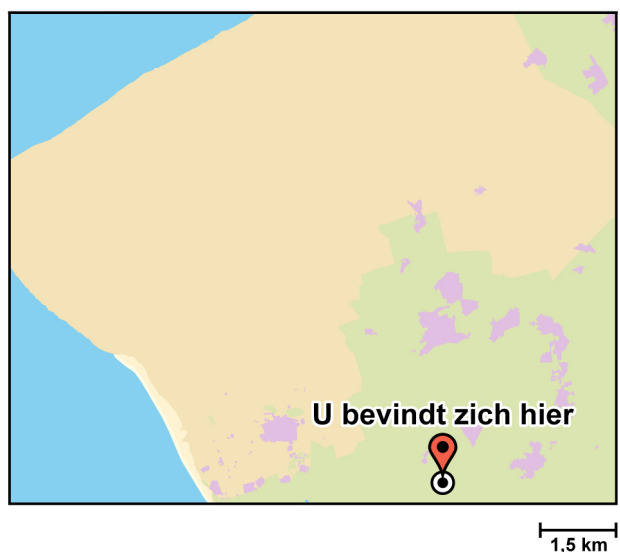
Opgave 3 Teken een route van 19 km.

Begin en eindig bij "U bevindt zich hier".



Opgave 4 Teken een route van 24 km.

Begin en eindig bij "U bevindt zich hier".



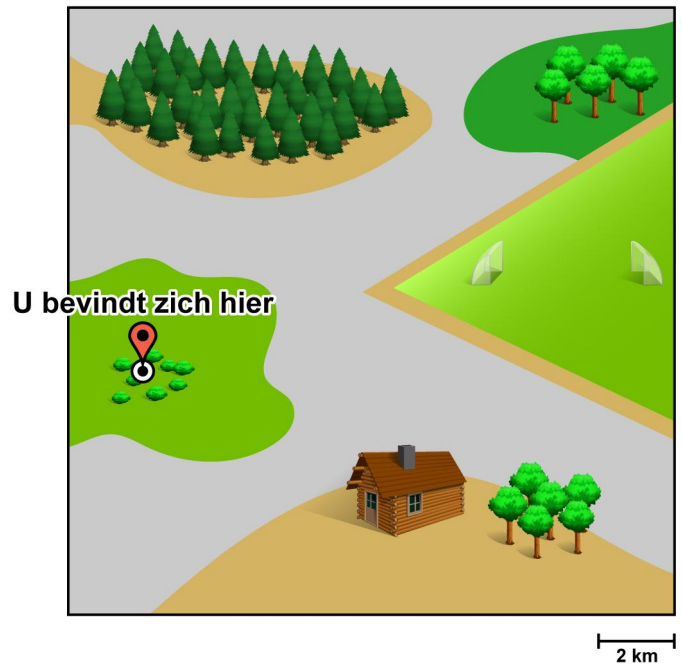
Opgave 5 Teken een route.

Begin bij "U bevindt zich hier".

De route gaat als volgt:

- Loop naar het bos.
- Van het bos loop je naar het grasveldje.
- Van het grasveldje loop je naar de blokhut.
- En van de blokhut loop je weer terug naar het beginpunt.

Hoeveel kilometer is de route ongeveer in totaal? _____ km



Opgave 6 Teken een route.

Begin bij "U bevindt zich hier".

De route gaat als volgt:

- 6 km door het duingebied naar het noordoosten.
- 2 km door het bos naar het zuiden.
- 8 km in oostelijke richting naar de speeltuin.
- Vanuit de speeltuin naar de blokhut.
- Dan in noordwestelijke richting terug naar de plek waar de route startte.

Hoeveel kilometer is de route ongeveer in totaal? _____ km

