

## Tabellen & Grafieken 5B

**Eiland:** Aflezen en tekenen van lijngrafieken

**Leerdoel:** Teken en een lijngrafiek



Liniaal



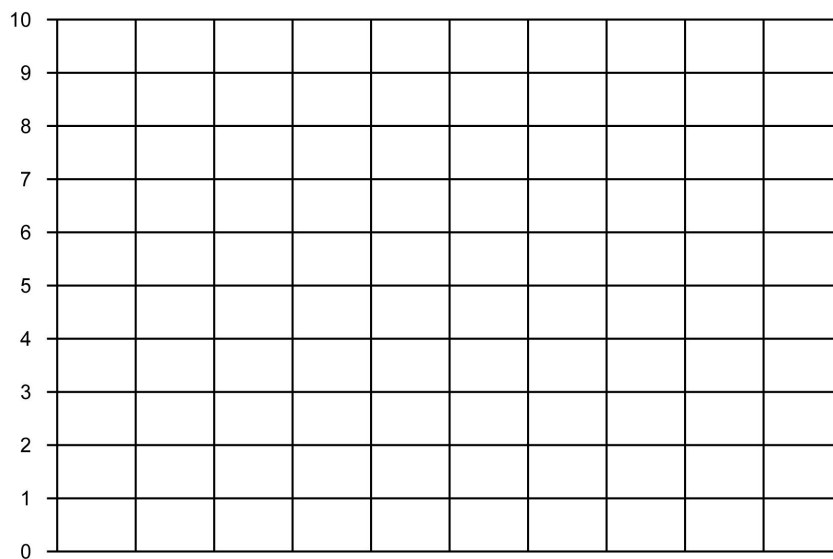
Potlood



Kleurpotloden

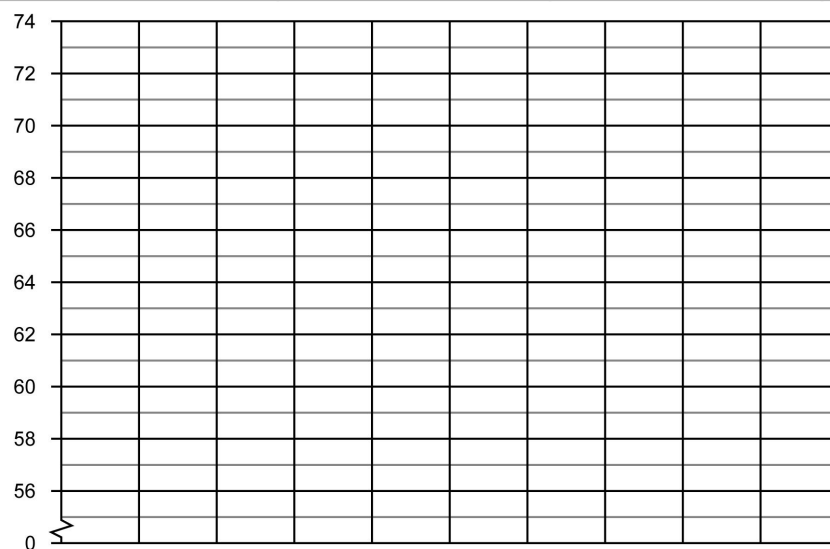
### Opgave 1 Teken een lijngrafiek op basis van de tabel: Leeftijdsgebonden zakgeld.

leeftijd	8 jaar	9 jaar	10 jaar	11 jaar
euro's zakgeld	€ 5,-	€ 6,-	€ 8,-	€ 10,-



### Opgave 2 Teken een lijngrafiek op basis van de tabel: Gemiddelde lengte baby's.

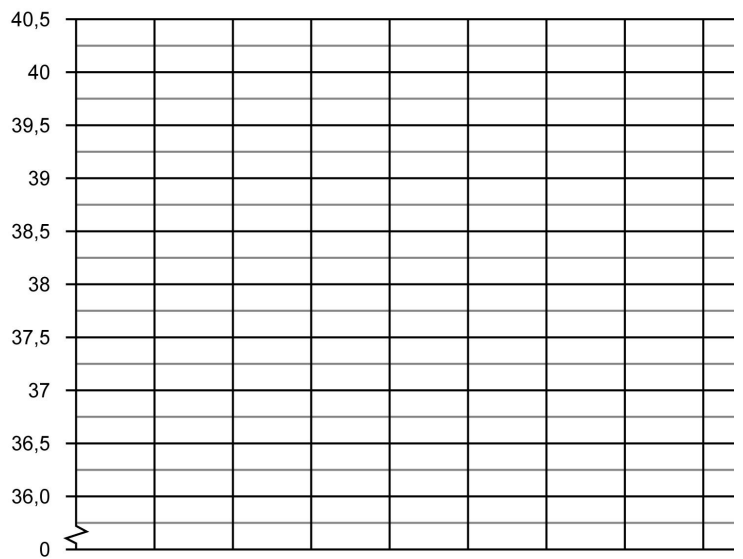
leeftijd in maanden	maand 1	maand 2	maand 3
lengte van een baby in cm	58	60	64



**Opgave 3** Teken een lijngrafiek op basis van de informatie: Gemeten lichaamstemperatuur per dag.

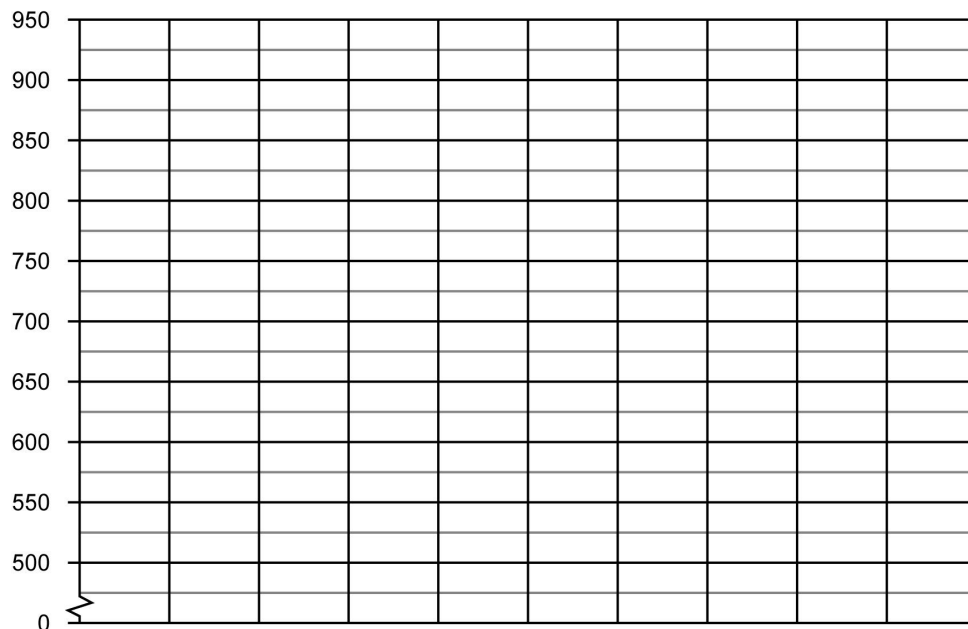


Ik heb uw temperatuur de hele week gemeten.  
 Op maandag 37,5 °C  
 Op dinsdag 39 °C  
 Op woensdag 40,5 °C  
 Op donderdag 38,5 °C  
 Op vrijdag 40 °C  
 Op zaterdag 39,5 °C  
 Op zondag 37,5 °C




**Opgave 4** Teken een lijngrafiek op basis van de tabel: Bezoekers dierentuin De Grote Beer.

maand	juni	juli	augustus	oktober
aantal bezoekers	600	525	875	650



**Opgave 5** Teken een lijngrafiek op basis van de tabel: Wekelijkse bezoekers museum.

week	week 1	week 2	week 3	week 4	week 5	week 6
aantal bezoekers museum	250	900	400	550	750	400



**Opgave 6** Ga op onderzoek in je klas. Verzamel gegevens van jouw klasgenoten en zet deze in de tabel. Teken dan een lijngrafiek op basis van de tabel en schrijf de titel erboven.