

## Tabellen & Grafieken 6A

**Eiland:** Aflezen en tekenen van lijngrafieken  
**Leerdoel:** Teken en een meervoudige lijngrafiek



Liniaal



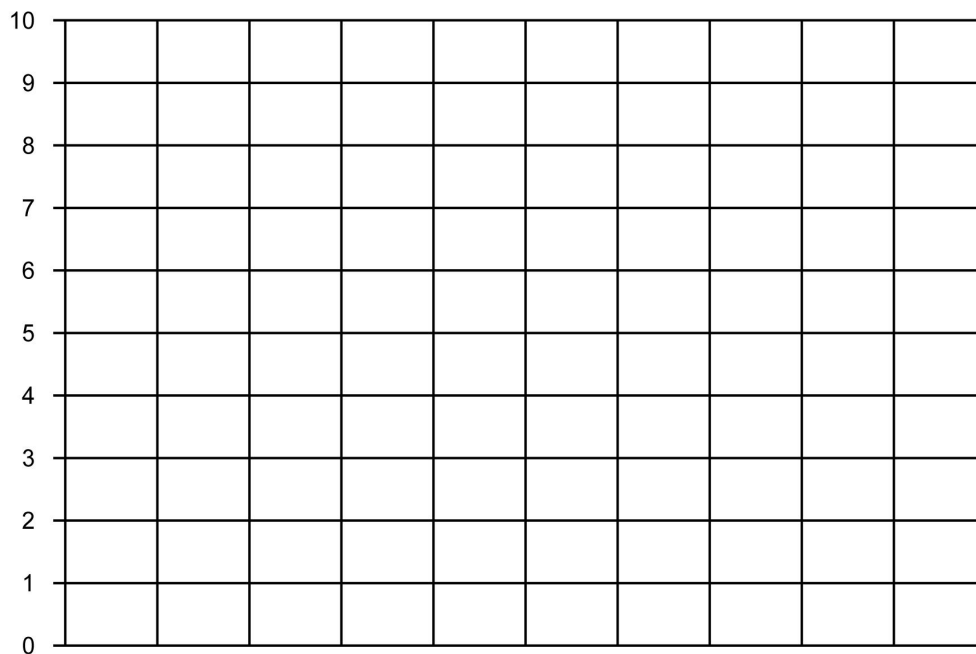
Potlood



Kleurpotloden

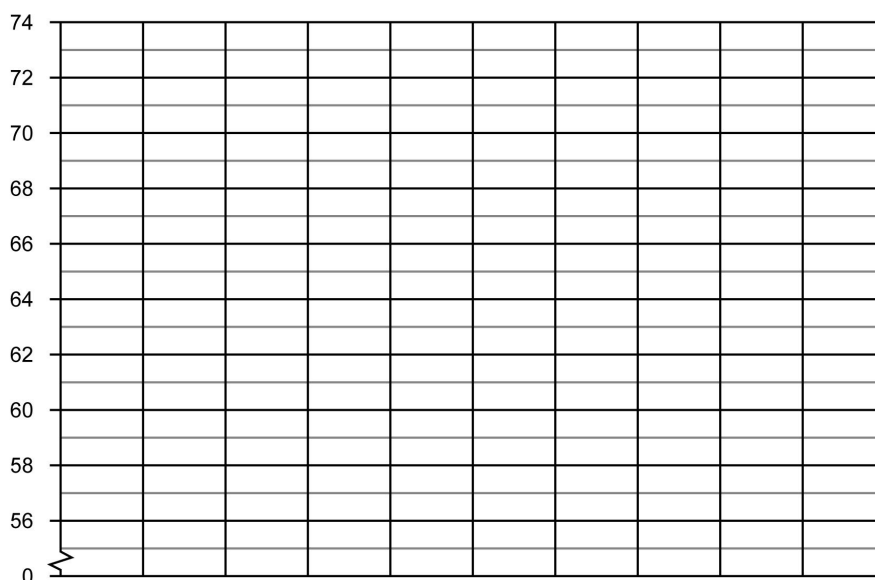
### Opgave 1 Teken een lijngrafiek op basis van de tabel: Leeftijdsgebonden zakgeld.

leeftijd	8 jaar	9 jaar	10 jaar	11 jaar
euro's zakgeld meisjes	€ 5,-	€ 6,-	€ 8,-	€ 10,-
euro's zakgeld jongens	€ 6,-	€ 8,-	€ 9,-	€ 10,-



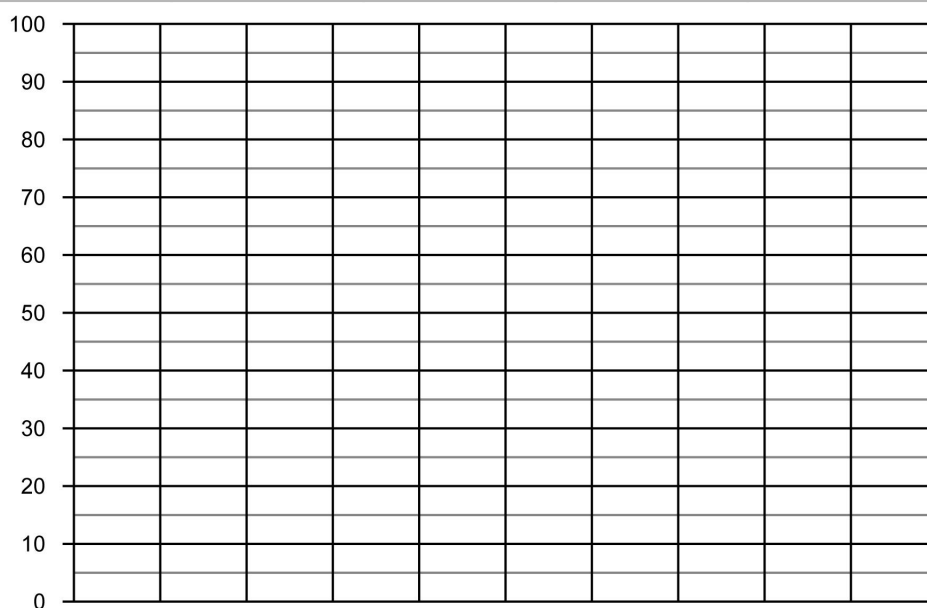
### Opgave 2 Teken een lijngrafiek op basis van de tabel: Gemiddelde lengte baby's.

leeftijd in maanden	maand 1	maand 2	maand 3
lengte van een baby in cm jongen	58	60	64
lengte van een baby in cm meisje	60	62	66



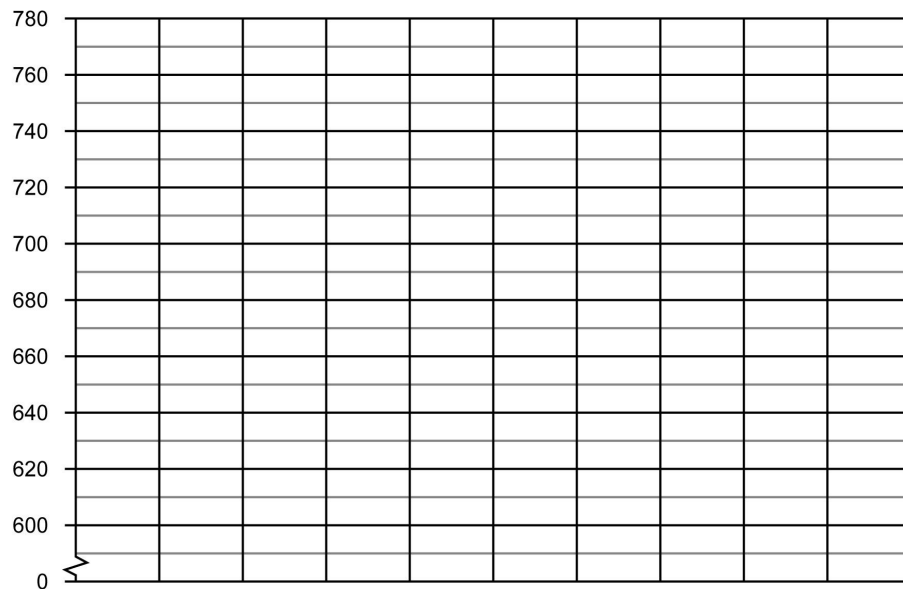
### Opgave 3 Teken een lijngrafiek op basis van de tabel: Klanten in de winkel.

dag	maandag	dinsdag	woensdag	donderdag	vrijdag
aantal mannelijke klanten	80	75	90	55	60
aantal vrouwelijke klanten	60	55	100	25	40




#### Opgave 4 Teken een lijngrafiek op basis van de tabel: Gewicht puppy en katten.

dag	dag 1	dag 2	dag 3
gewicht van een puppy in gram	660	700	740
gewicht van een katten in gram	600	620	680



#### Opgave 5 Teken een lijngrafiek op basis van de tabel: Dagelijks bezorgde post

dagen	maandag	dinsdag	woensdag	donderdag	vrijdag	zaterdag	zondag
aantal bezorgde brieven	950	500	450	600	800	350	50
aantal bezorgde pakketten	750	600	200	450	800	300	100



[illegible]