

## Tabellen & Grafieken 5A

**Eiland:** Aflezen en tekenen van lijngrafieken

**Leerdoel:** Teken en een lijngrafiek



Liniaal



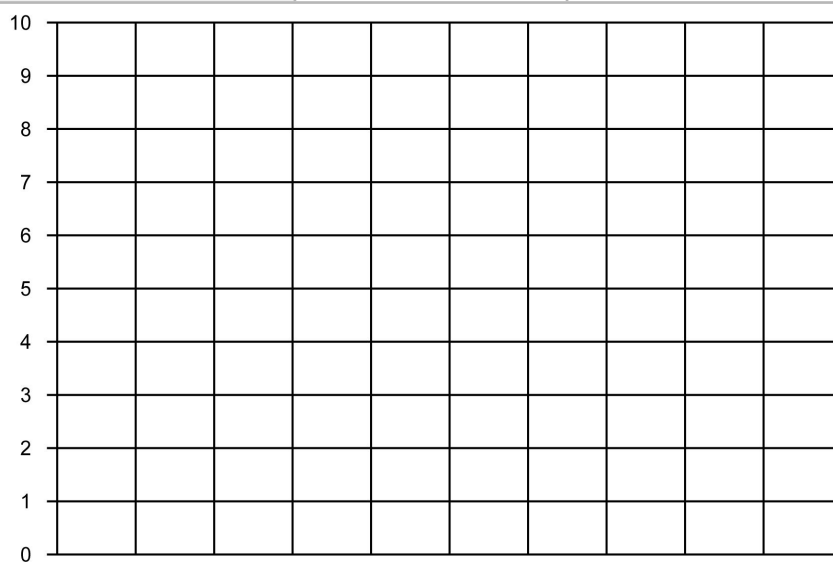
Potlood



Kleurpotloden

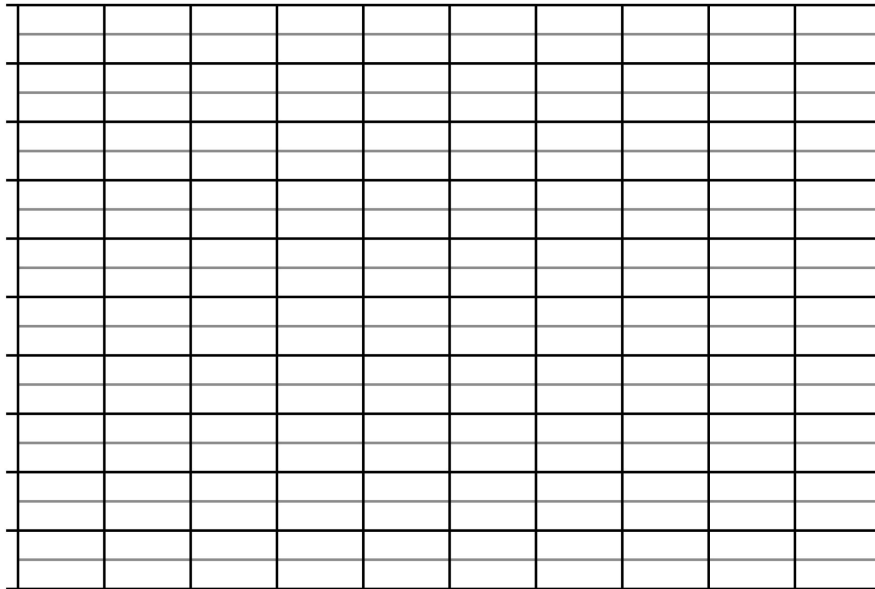
**Opgave 1** Teken een lijngrafiek op basis van de tabel: Temperatuur per dagdeel. Vul ook de x-as in.

dagdeel	's ochtends	's middags	's avonds
temperatuur	4 °C	9 °C	3 °C



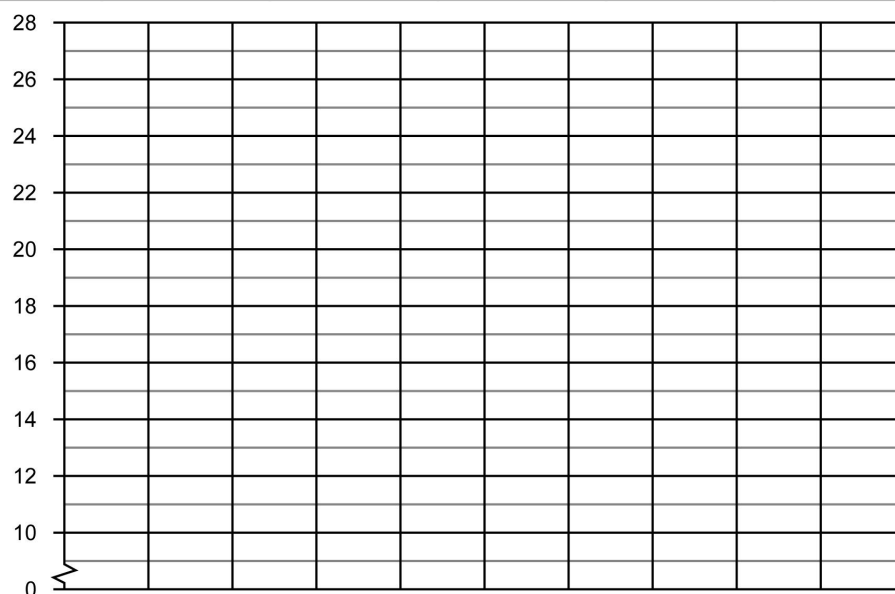
**Opgave 2** Teken een lijngrafiek op basis van de tabel: Wekelijkse ijsverkoop.

week	week 1	week 2	week 3	week 4
aantal verkochte ijsjes	15	80	65	50



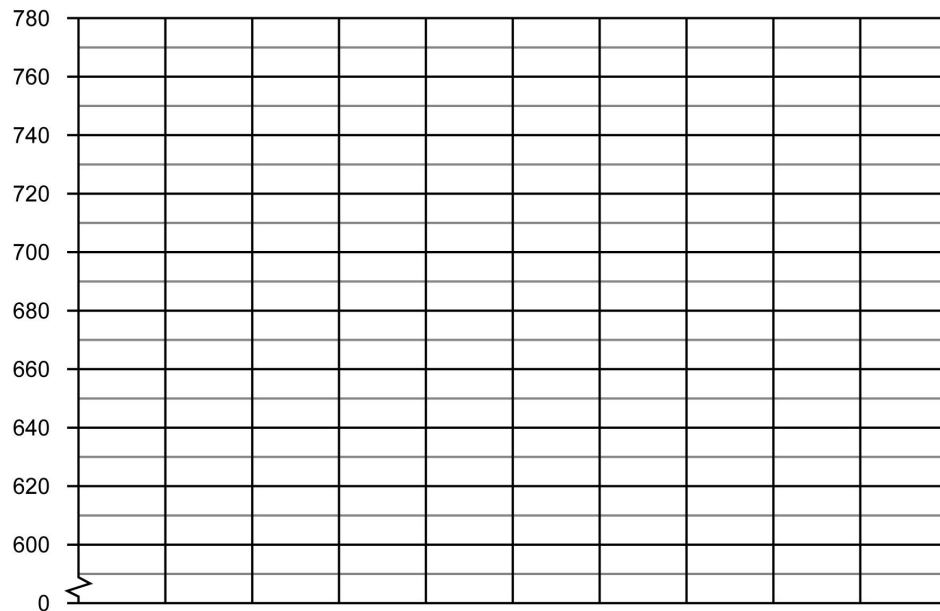
**Opgave 3** Teken een lijngrafiek op basis van de tabel: Temperatuur per maand.

maand	februari	maart	april	mei	juni	juli
temperatuur	12 °C	15 °C	18 °C	19 °C	21 °C	22 °C




#### Opgave 4 Teken een lijngrafiek op basis van de tabel: Gewicht puppy.

dag	dag 1	dag 2	dag 3
gewicht van een puppy in gram	600	620	740



#### Opgave 5 Teken een lijngrafiek op basis van de tabel: Dagelijks bezorgde brieven.

dagen	maandag	dinsdag	woensdag	donderdag	vrijdag	zaterdag	zondag
aantal bezorgde brieven	950	500	450	600	800	350	50




[illegible]