

## Meetkunde 20A

Eiland: Lijnen

Leerdoel: Teken van loodrechte lijnen

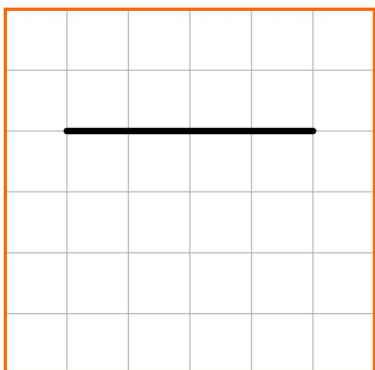


Geodriehoek

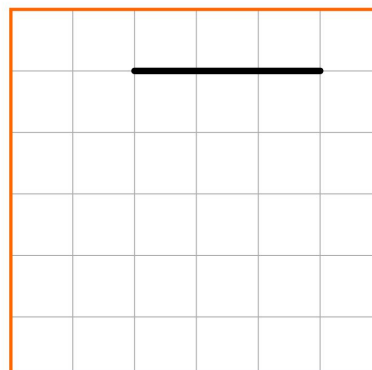


Potlood

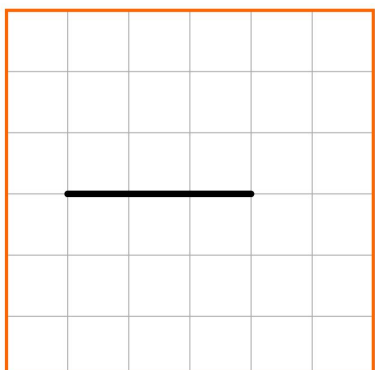
**Opgave 1** Teken een loodrechte lijn op deze lijn.



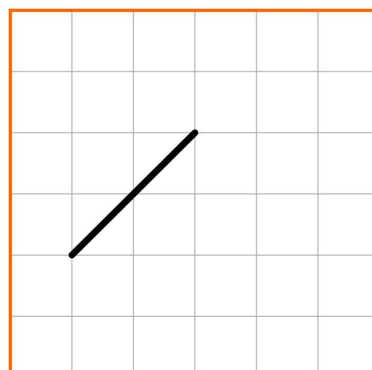
**Opgave 2** Teken twee loodrechte lijnen op deze lijn.



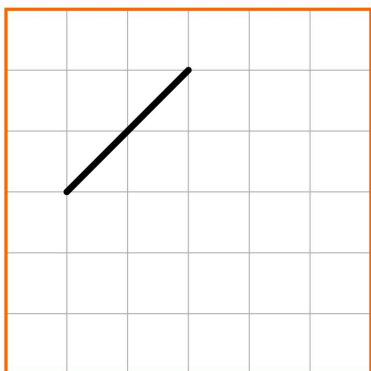
**Opgave 3** Teken twee loodrechte lijnen op deze lijn.



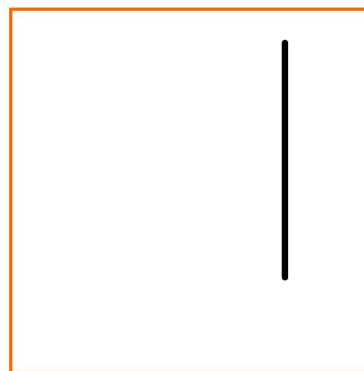
**Opgave 4** Teken een loodrechte lijn op deze lijn.




**Opgave 5** Teken twee loodrechte lijnen op deze lijn.



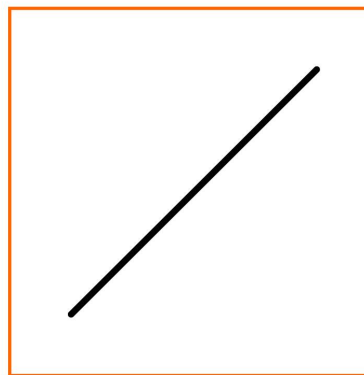
**Opgave 6** Teken een loodrechte lijn op deze lijn.




**Opgave 7** Teken een loodrechte lijn op deze lijn.



**Opgave 8** Teken een loodrechte lijn op deze lijn.



**Opgave 9** Teken twee loodrechte lijnen op deze lijn.



**Opgave 10** Teken twee loodrechte lijnen op deze lijn.

