

Meetkunde 24B

Eiland: Vlakke figuren

Leerdoel: Tekenen van een figuur met een passer



Liniaal

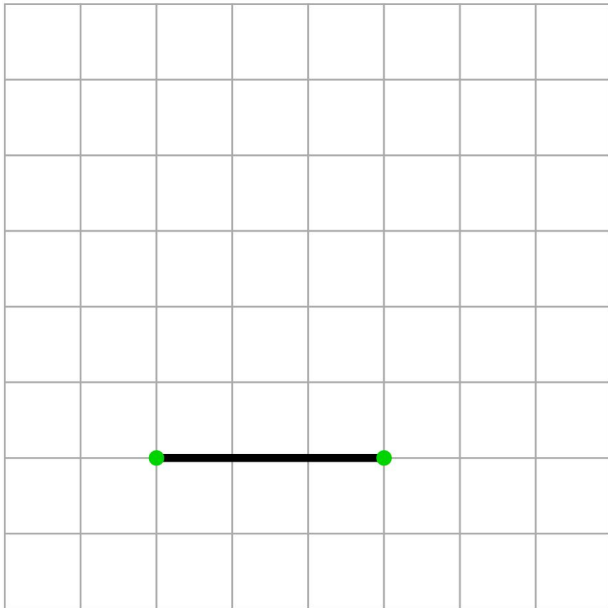


Potlood

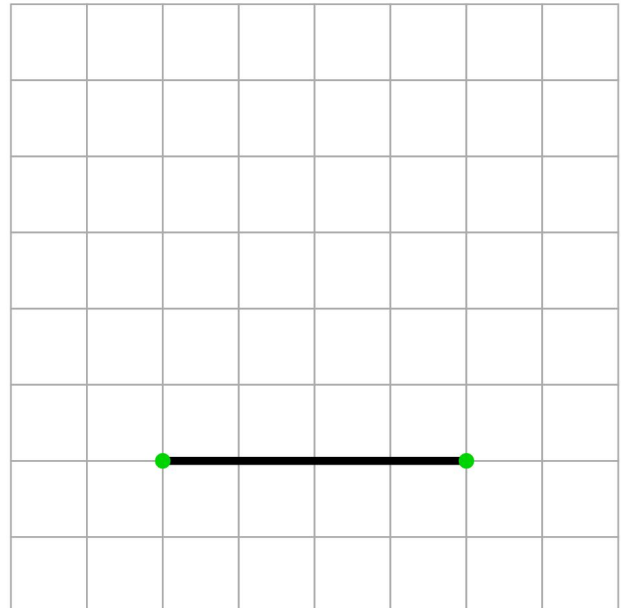


Passer

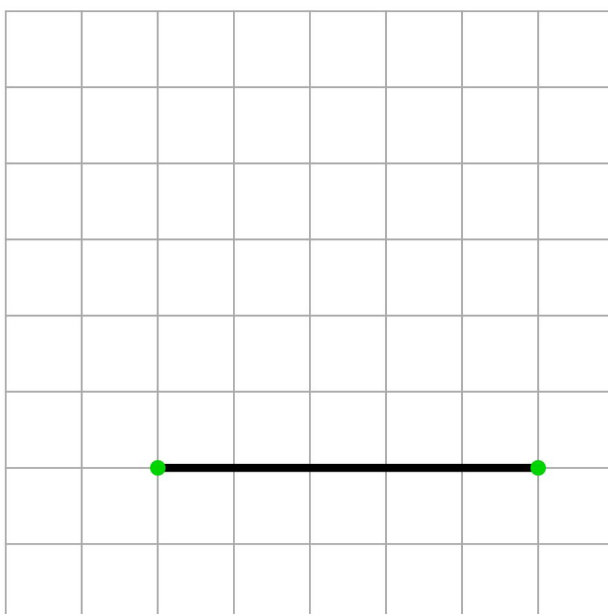
Opgave 1 Maak de driehoek af met zijden van 3 cm.



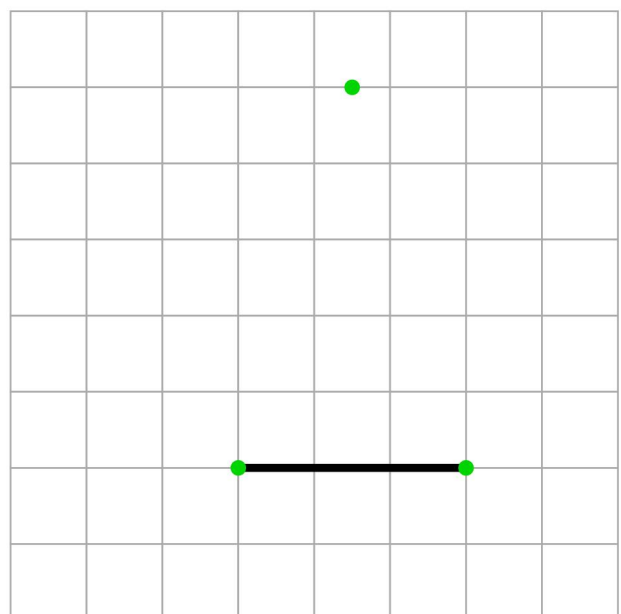
Opgave 2 Maak de driehoek af met zijden van 4 cm.



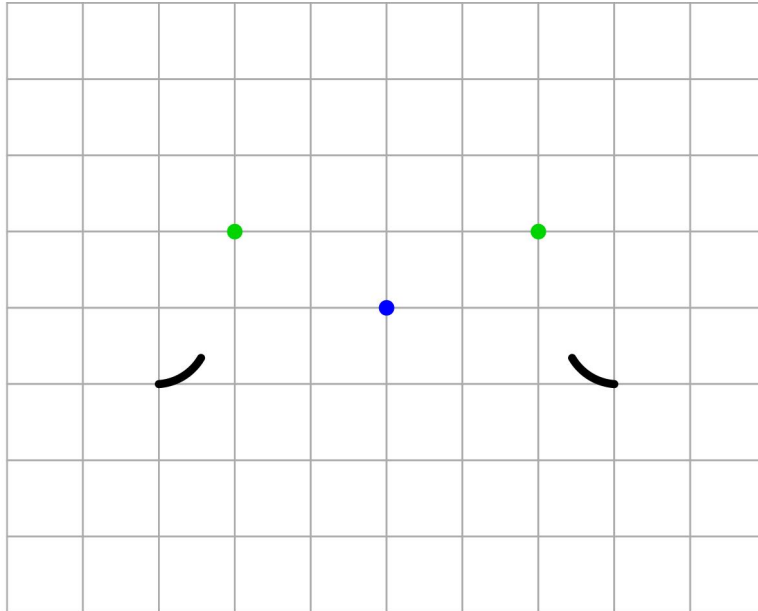
Opgave 3 Maak de driehoek af met zijden van 5 cm.



Opgave 4 Teken een vijfhoek met 5 zijden.



Opgave 5 Teken vanaf de middelste stip een cirkel met een straal van 4 cm.
 Teken vanaf de twee andere stippen een cirkel met een straal van 1 cm.
 Teken vanaf de middelste stip een deel van een cirkel met een straal van 3 cm tussen de twee zwarte lijntjes.



Opgave 6 Teken vanaf de middelste stip een cirkel met een straal van 3 cm en een cirkel met een straal van 1 cm. Teken vanaf de andere stippen ook een cirkel met een straal van 1 cm.

