


## Procenten, Breuken & Verhoudingen 1C


**Eiland:** Kennismaken met breuken  
**Doel:** Verdelen van een figuur in gelijke delen




**Opgave 1** Verdeel de taart in 2 gelijke stukken.



**Opgave 2** Verdeel de taart in 4 gelijke stukken.



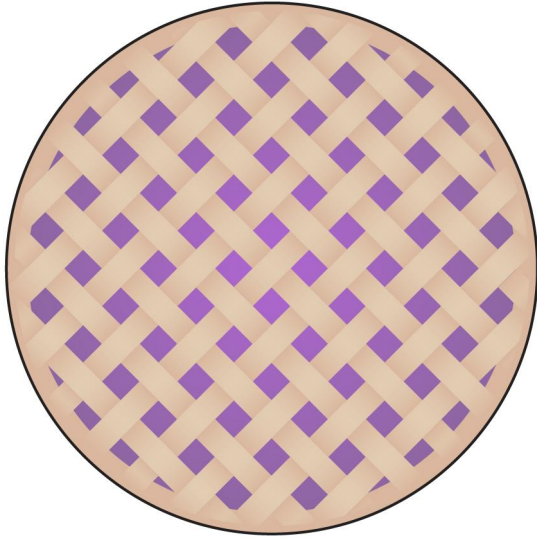
**Opgave 3** Verdeel de taart in 8 gelijke stukken.



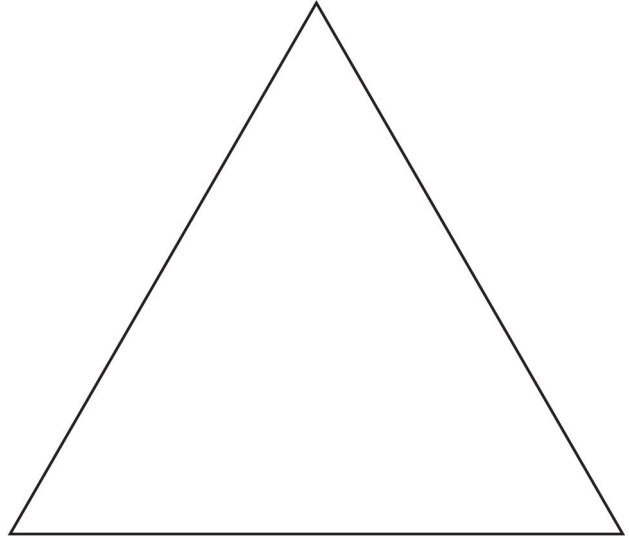
**Opgave 4** Verdeel de taart in 3 gelijke stukken.



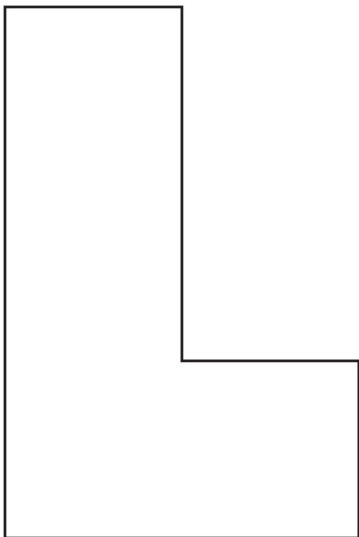
**Opgave 5** Verdeel de taart in 10 gelijke stukken.



**Opgave 6** Verdeel de driehoek in 2 gelijke stukken.



**Opgave 7** Verdeel het figuur in 4 gelijke stukken.



**Opgave 8** Verdeel de zeshoek in 6 gelijke stukken.

