

## Meten 3A

Eiland: Meten met meetinstrument

Doel: Meten van lengte van lijnen met een meetinstrument in centimeter



Liniaal



Potlood

**Opgave 1** Hoeveel centimeter is de lijn?

\_\_\_\_\_ cm



**Opgave 2** Hoeveel centimeter is de lijn?

\_\_\_\_\_ cm



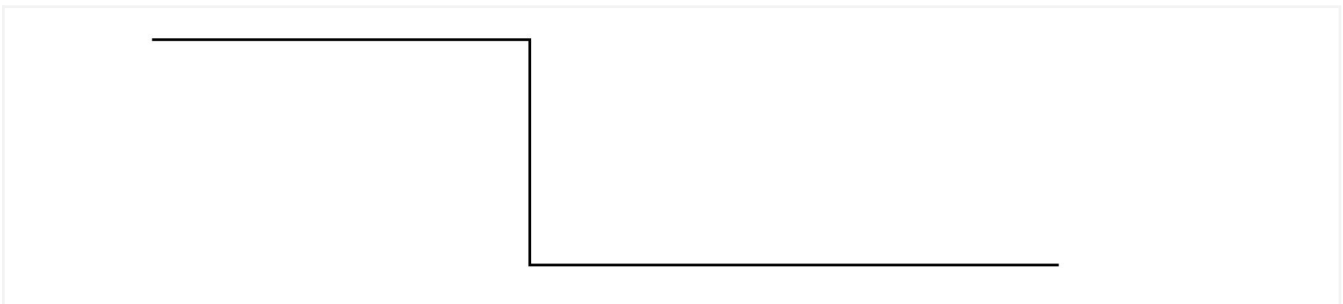
**Opgave 3** Hoeveel centimeter is de lijn? \_\_\_\_\_ cm



**Opgave 4** Hoeveel centimeter is de lijn? \_\_\_\_\_ cm



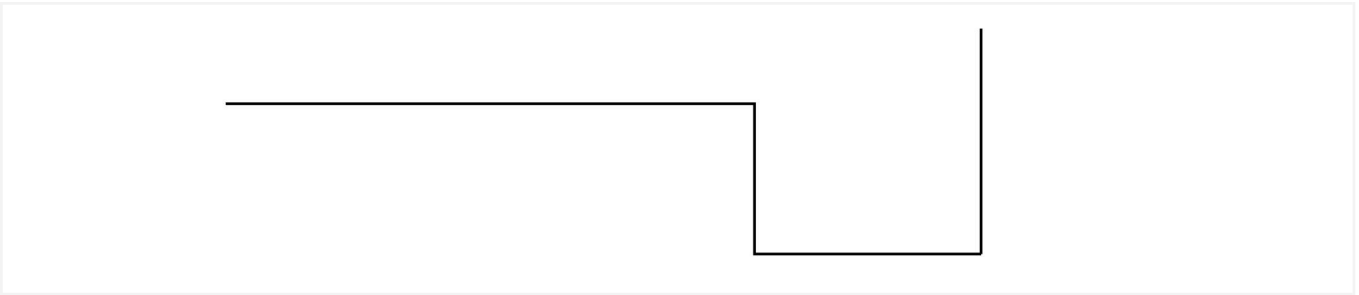
**Opgave 5** Hoeveel centimeter is de lijn? \_\_\_\_\_ cm



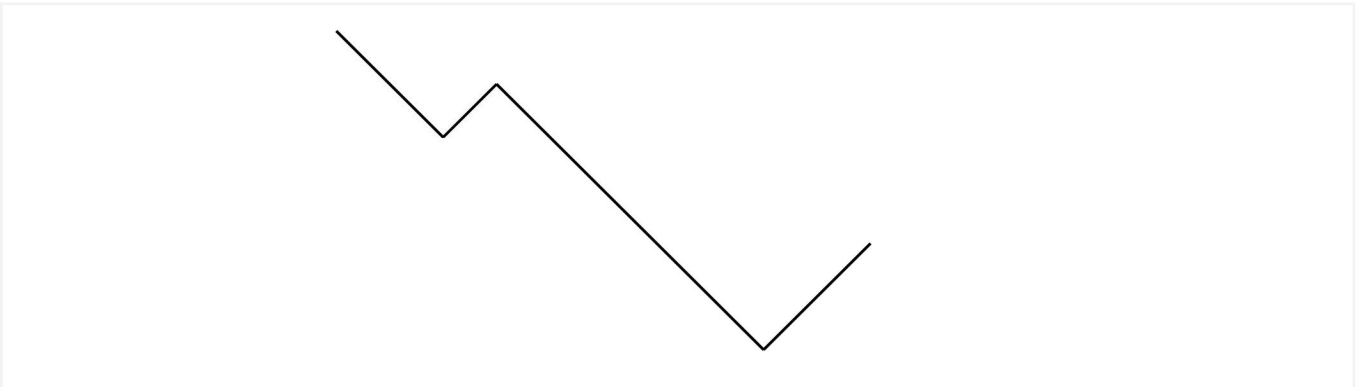
**Opgave 6** Hoeveel centimeter is de lijn? \_\_\_\_\_ cm



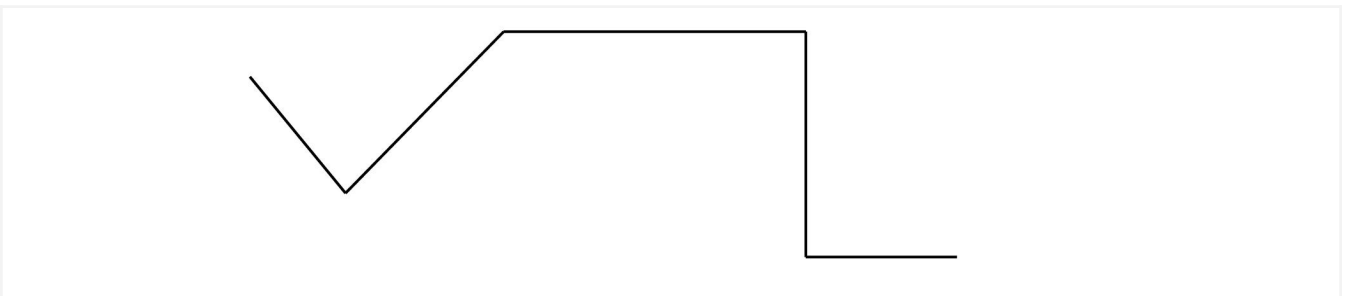
Opgave 7 Hoeveel centimeter is de lijn? \_\_\_\_\_ cm



Opgave 8 Hoeveel centimeter is de lijn? \_\_\_\_\_ cm



Opgave 9 Hoeveel centimeter is de lijn? \_\_\_\_\_ cm



Opgave 10 Hoeveel centimeter is de lijn? \_\_\_\_\_ cm

