

Meetkunde 6C

Eiland: Kaartlezen

Doel: Teken van een route op een kaart met schaal



Liniaal

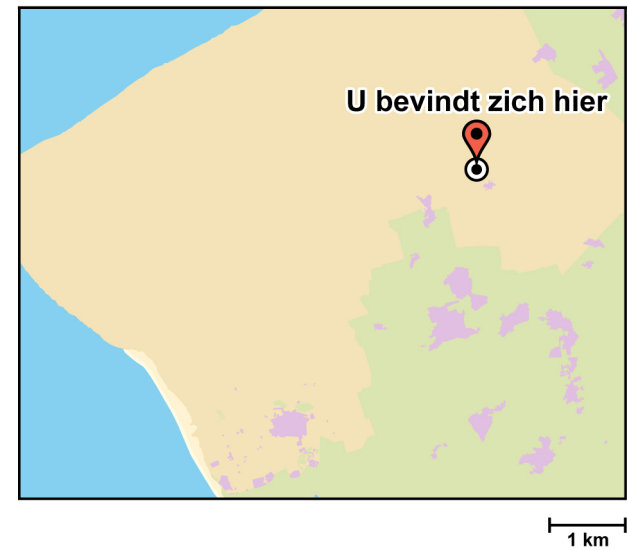


Potlood

Opgave 1 Teken een route.

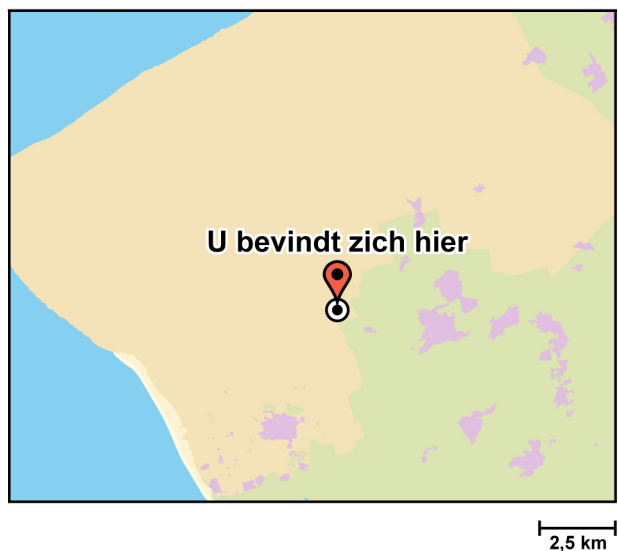
Begin en eindig bij "U bevindt zich hier".

Hoeveel kilometer is je route? _____ km



Opgave 3 Teken een route van 18 km. Begin en eindig bij "U bevindt zich hier".

Opgave 4 Teken een route van 30 km. Begin en eindig bij "U bevindt zich hier".




Opgave 5 Teken een route.

Begin bij "U bevindt zich hier".

De route gaat als volgt:

- Loop naar de blokhut.
- Vanuit daar loop je naar het bos.
- Van het bos loop je naar de Lunchroom.
- Van de Lunchroom loop je naar de brug.
- Je loopt de brug over en loopt weer terug naar het beginpunt.

Hoeveel kilometer is de route ongeveer in totaal? _____ km



Opgave 6 Teken een route.

Begin bij "U bevindt zich hier".

De route gaat als volgt:

- 8 km door het bos naar het zuiden.
- 6 km door de duinen in noordoostelijke richting.
- 10 km in westelijke richting naar het strand.
- Op het strand in noordelijke richting naar het strandtentje.
- Vanuit het strandtentje weer terug naar de plek waar de route startte.

Hoeveel kilometer is de route ongeveer in totaal? _____ km

