

Meten 3C

Eiland: Meten met meetinstrument

Doel: Meten van lengte van lijnen met een meetinstrument in centimeter



Liniaal



Potlood

Opgave 1 Hoeveel centimeter is de lijn? _____ cm



Opgave 2 Hoeveel centimeter is de lijn? _____ cm



Opgave 3 Hoeveel centimeter is de lijn?


_____ cm

Opgave 4 Hoeveel centimeter is de lijn?


_____ cm



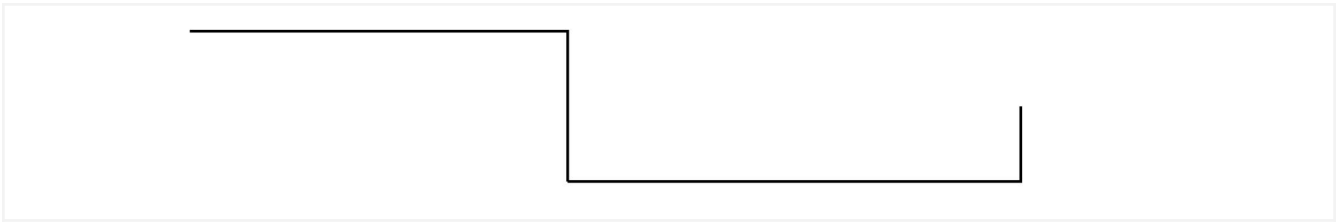
Opgave 5 Hoeveel centimeter is de lijn? _____ cm



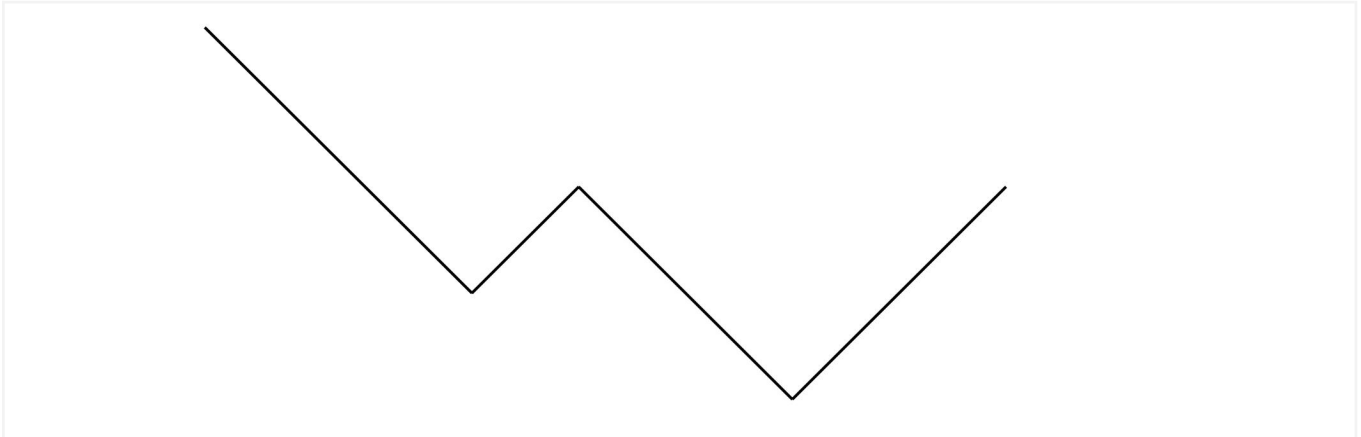
Opgave 6 Hoeveel centimeter is de lijn? _____ cm




Opgave 7 Hoeveel centimeter is de lijn? _____ cm



Opgave 8 Hoeveel centimeter is de lijn? _____ cm



Opgave 9 Hoeveel centimeter is de lijn? _____ cm



Opgave 10 Hoeveel centimeter is de lijn? _____ cm

