

Meten 14A

Eiland: Berekenen van omtrek

Doel: Berekenen van een omtrek met schaal via opmeten



Liniaal



Potlood

Opgave 1 Wat is de omtrek van de berging?

_____m

Opgave 2 Wat is de omtrek van de woonkamer?

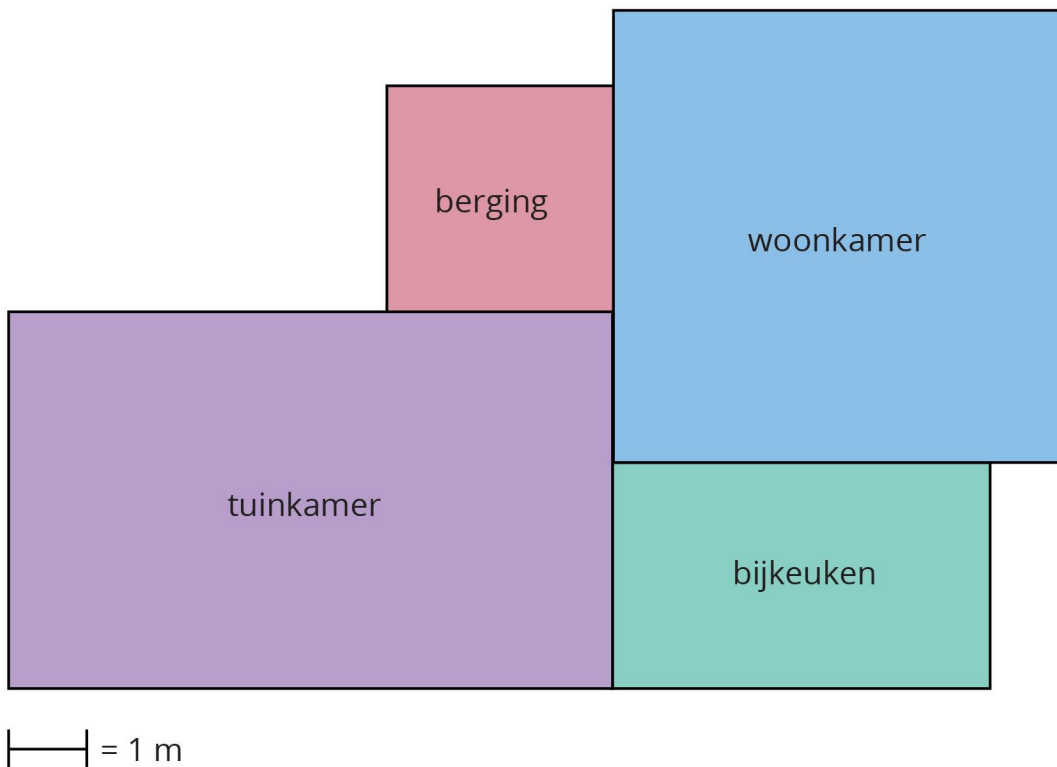
_____m

Opgave 3 Wat is de omtrek van de bijkeuken?

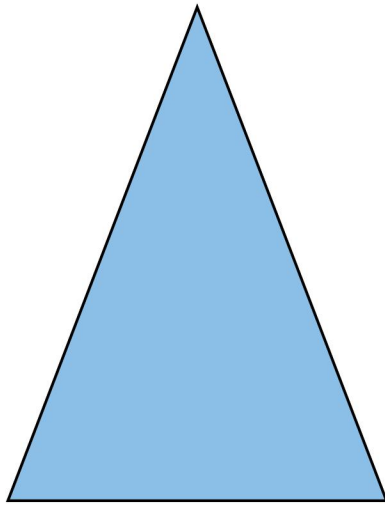
_____m

Opgave 4 Wat is de omtrek van de tuinkamer?

_____m

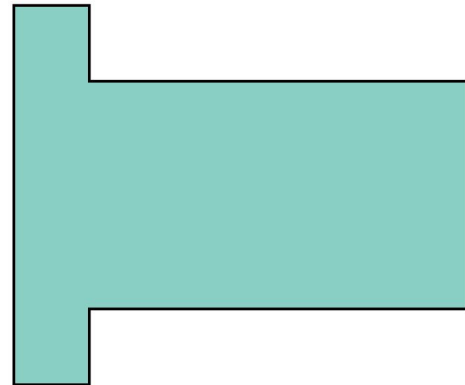


Opgave 5 Wat is de omtrek? _____ km



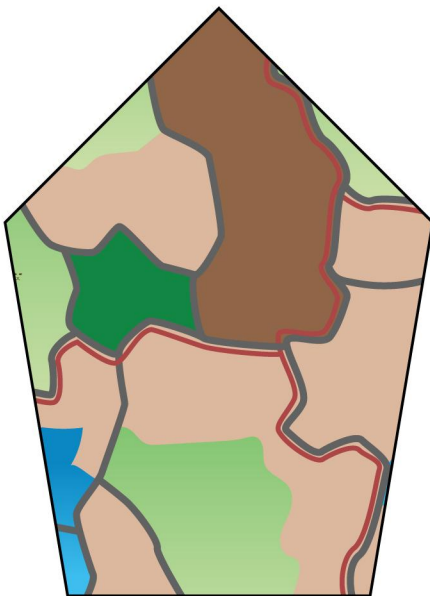
— = 1 km

Opgave 6 Wat is de omtrek? _____ km



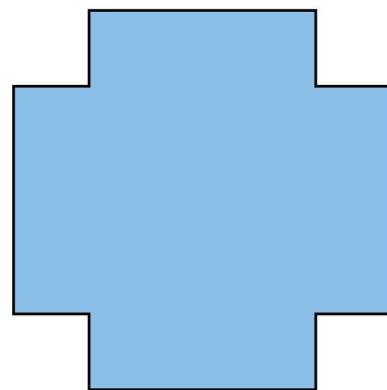
— = 1 km

Opgave 7 Wat is de omtrek? _____ km



— = 1 km

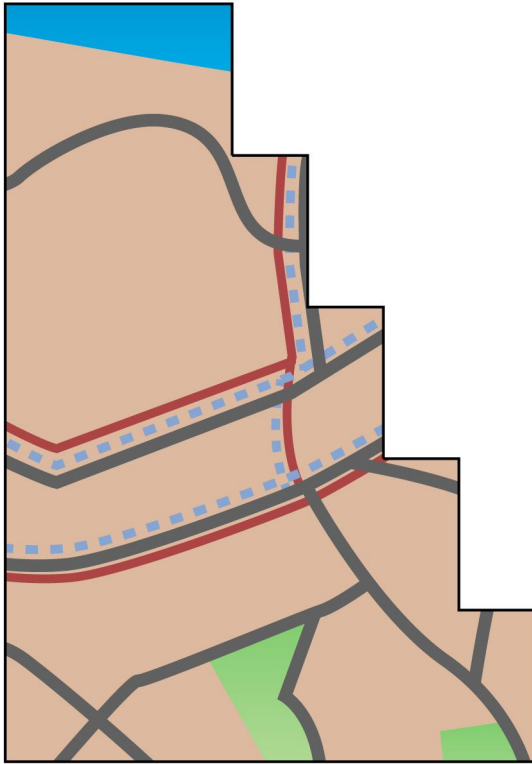
Opgave 8 Wat is de omtrek? _____ km




— = 10 km

Opgave 9 Wat is de omtrek? _____ km

Opgave 10 Wat is de omtrek? _____ km



|—| = 2 km



|—| = 2 km