

Meten 10A

Eiland: Schaal
Doel: Rekenen met verhoudingen met schaduw




Opgave 1 Hoe lang is de schaduw in het echt?

_____ meter



Opgave 2 Hoe lang is de schaduw in het echt?

_____ meter



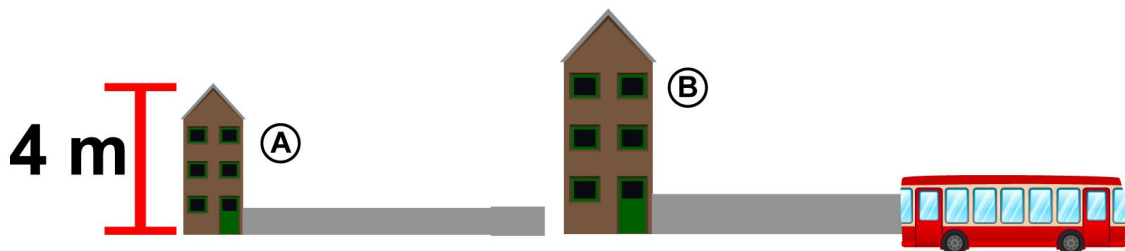
Opgave 3 Hoe lang moet de schaduw van B op de tekening zijn?

_____ centimeter

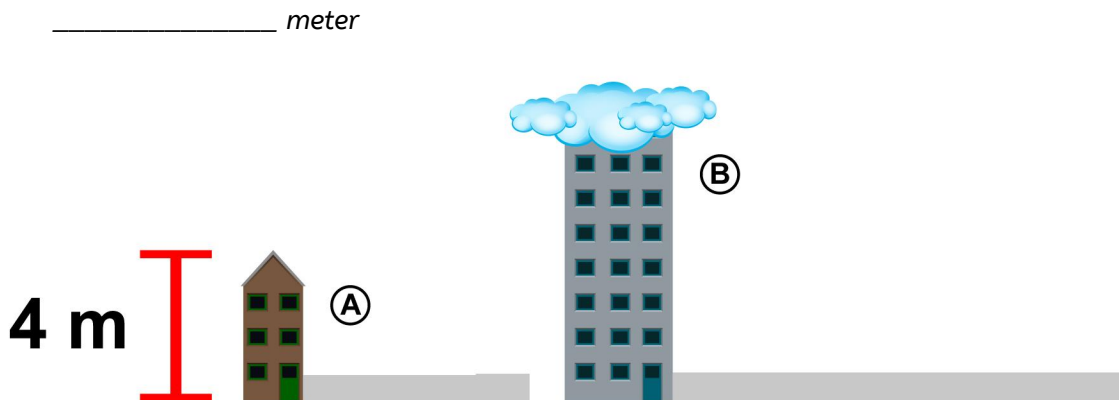


Opgave 4 Hoe lang is de totale schaduw van B in het echt?


_____ meter



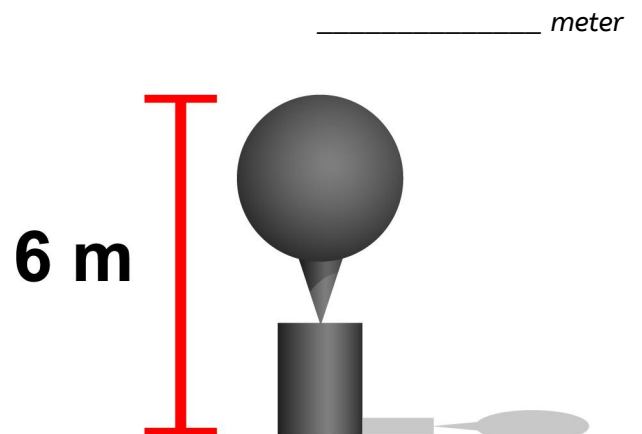
Opgave 5 Hoe hoog is gebouw B in het echt?



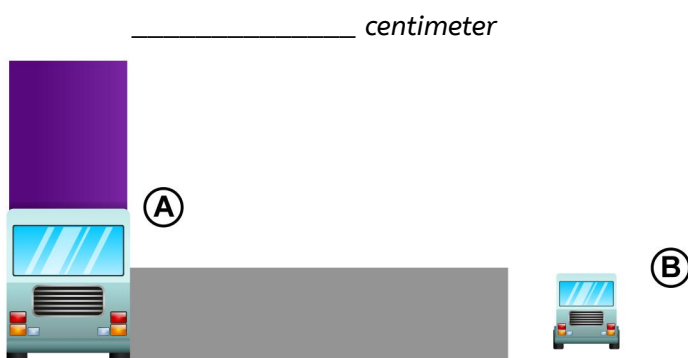
Opgave 6 Hoe lang is de schaduw in het echt?



Opgave 7 Hoe lang is de schaduw in het echt?

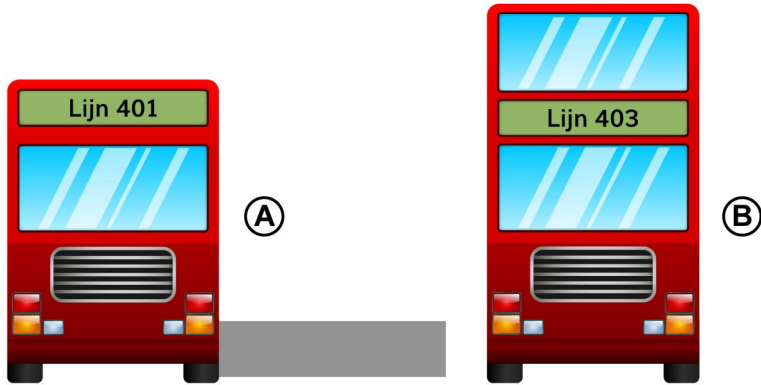


Opgave 8 Hoe lang moet de schaduw van B op de tekening zijn?



Opgave 9 Hoe lang moet de schaduw van B op de tekening zijn?

_____ centimeter



Opgave 10 Hoe lang is de totale schaduw van B in het echt?

_____ meter

