

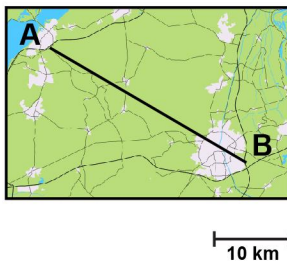
Meten 6A

Eiland: Schaal
Doel: Berekenen van een afstand met schaal



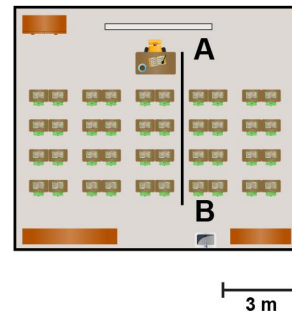
Opgave 1 Wat is de afstand tussen A en B?

_____ kilometer



Opgave 2 Wat is de afstand tussen A en B?

_____ meter



Opgave 3 Wat is de afstand van A naar D via B en C?

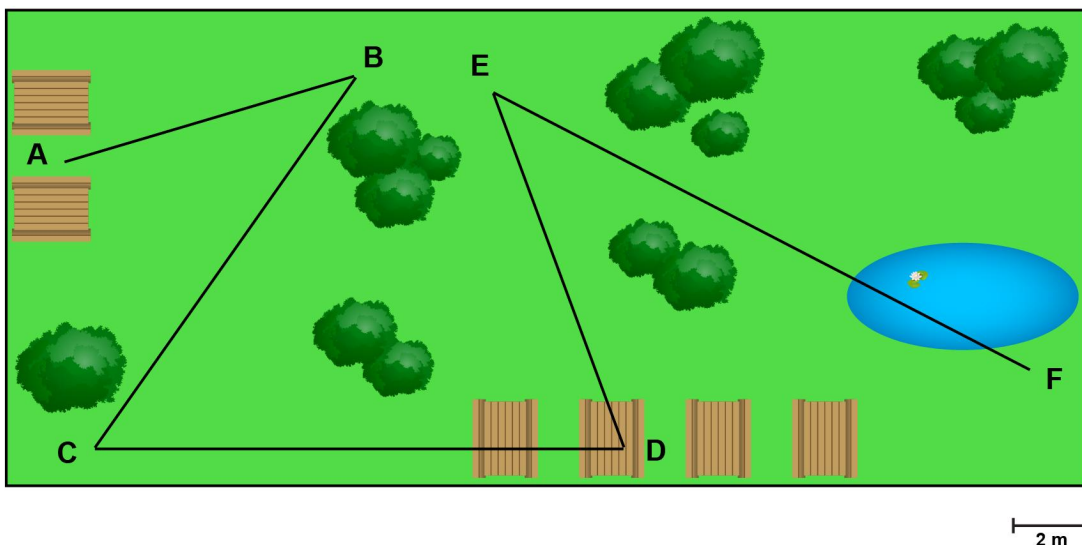
_____ meter

Opgave 4 Wat is de afstand van B naar E via C en D?

_____ meter

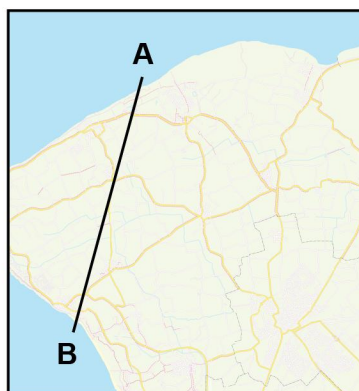
Opgave 5 Wat is de afstand van C naar F via D en E?

_____ meter



Opgave 6 Wat is de afstand tussen A en B?

_____ kilometer



Opgave 7 Wat is de afstand tussen A en F?

_____ kilometer

Opgave 8 Wat is de kortste afstand van A naar D?

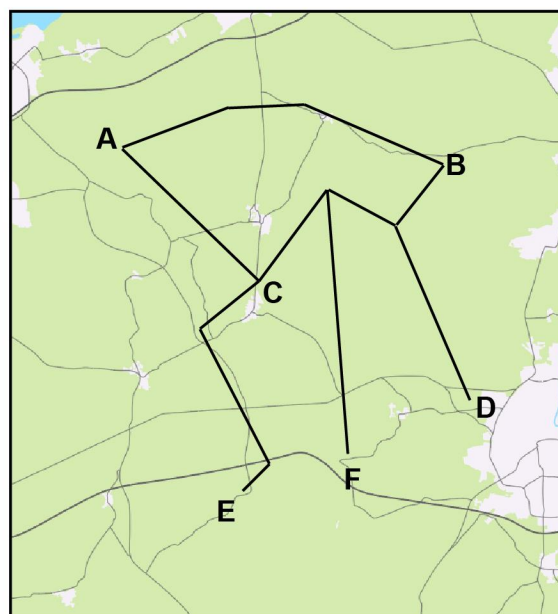
_____ kilometer

Opgave 9 Wat is de kortste afstand van B naar E?

_____ kilometer

Opgave 10 Wat is de kortste afstand van A naar F?

_____ kilometer



5 km