

Meten 23C



Linaal



Potlood

Eiland: Kubieke maten

Doel: Bepalen van oppervlakte en inhoud met schaal via opmeten

Opgave 1 Wat zijn de oppervlakte en inhoud van vijver A?

Oppervlakte _____ m^2 en inhoud _____ m^3 .

Opgave 3 Wat zijn de oppervlakte en inhoud van vijver C?

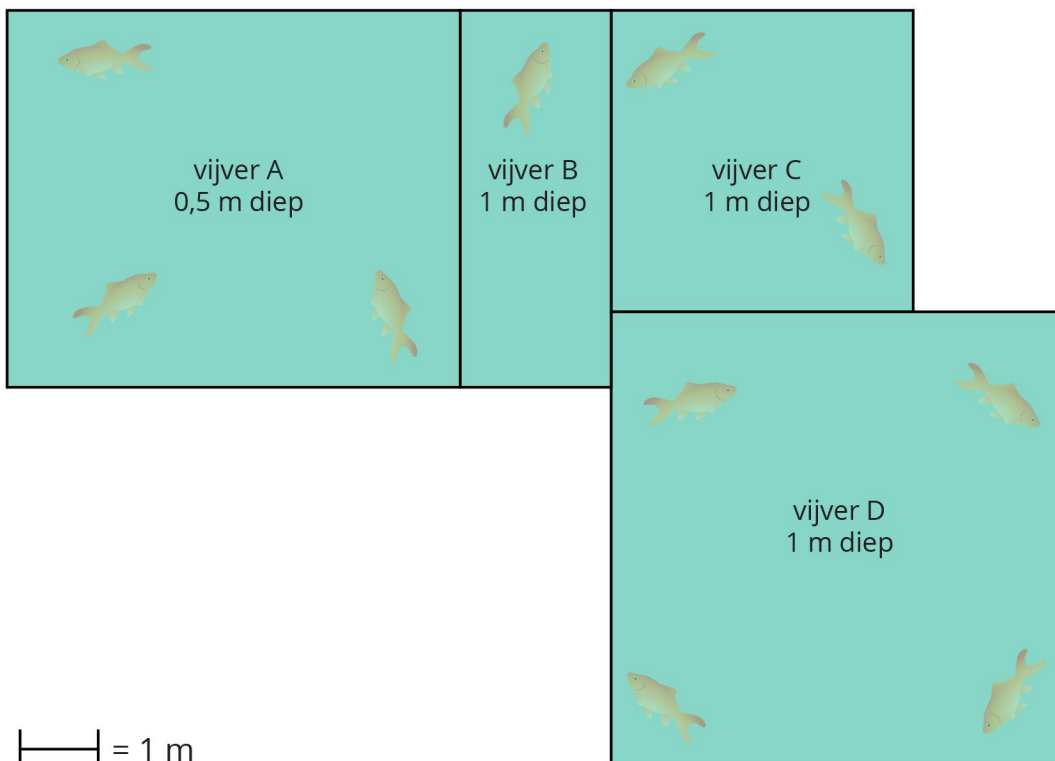
Oppervlakte _____ m^2 en inhoud _____ m^3 .

Opgave 2 Wat zijn de oppervlakte en inhoud van vijver B?

Oppervlakte _____ m^2 en inhoud _____ m^3 .


Opgave 4 Wat zijn de oppervlakte en inhoud van vijver D?

Oppervlakte _____ m^2 en inhoud _____ m^3 .



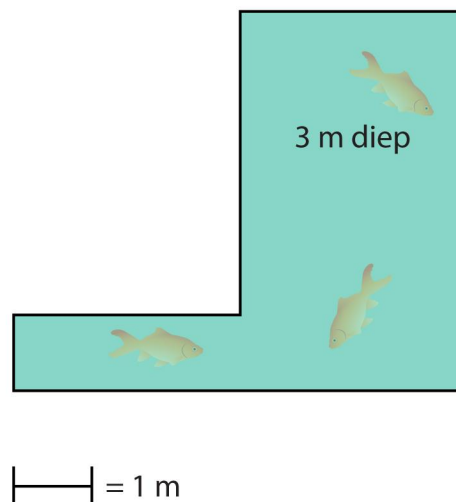
Opgave 5 Wat zijn de oppervlakte en inhoud?

Oppervlakte _____ m^2 en inhoud _____ m^3 .

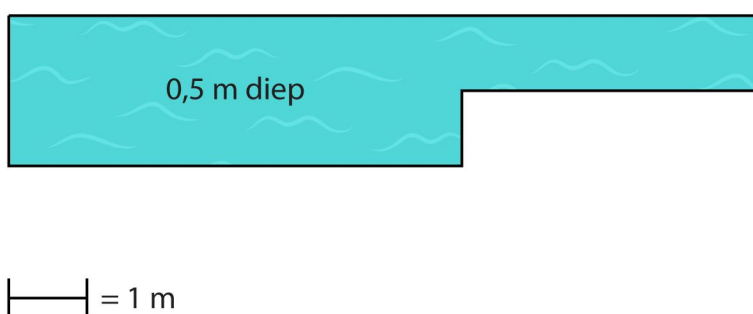


Opgave 6 Wat zijn de oppervlakte en inhoud?

Oppervlakte _____ m^2 en inhoud _____ m^3 .



Opgave 7 Wat zijn de oppervlakte en inhoud? Oppervlakte _____ m^2 en inhoud _____ m^3 .

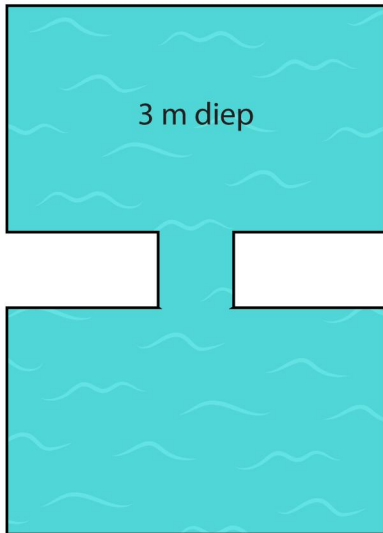


Opgave 8 Wat zijn de oppervlakte en inhoud?

Opgave 9 Wat zijn de oppervlakte en inhoud?

Oppervlakte _____ m^2 en inhoud _____ m^3 .

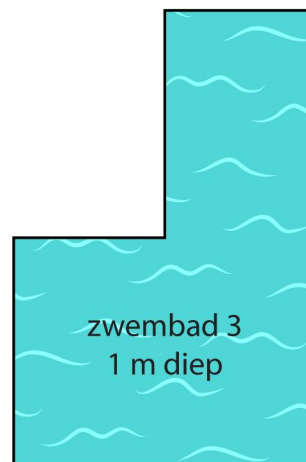
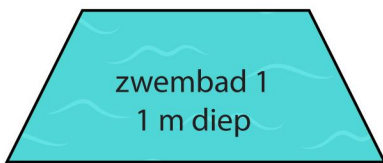
Oppervlakte _____ m^2 en inhoud _____ m^3 .



—| = 1 m

—| = 1 m

Opgave 10 Welk zwembad heeft de grootste inhoud? _____



—| = 2 m