

## Meetkunde 28C

**Eiland:** Ruimtelijke figuren

**Leerdoel:** Teken en van een uitslag bij een ruimtelijk figuur

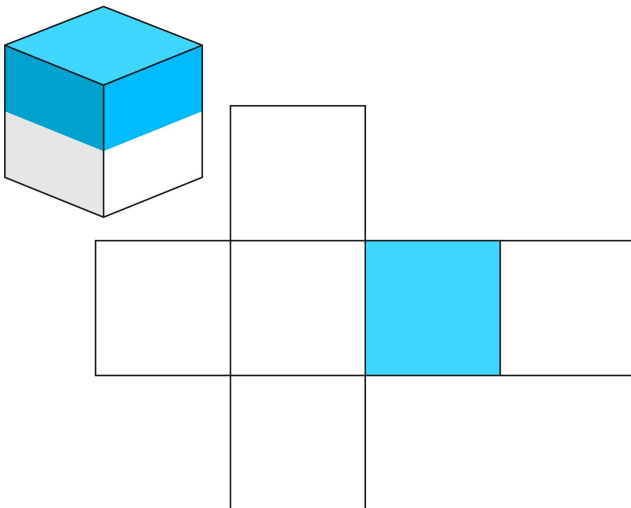


Kleurpotloden

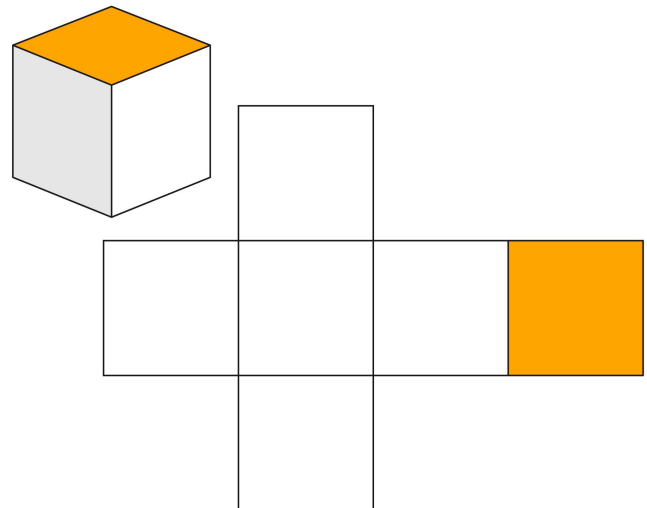


Potlood

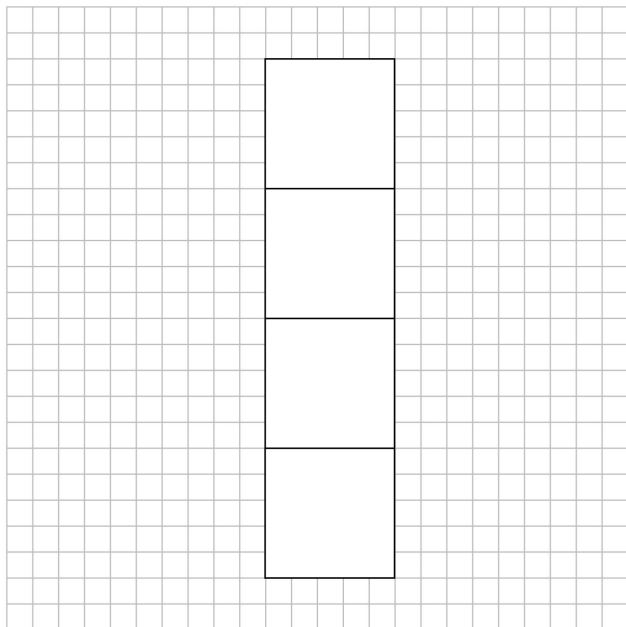
**Opgave 1** Precies 1 helft van de kubus is gekleurd. Geef het gekleurde stuk van de kubus aan op de uitslag.  
*1 vlak is al gekleurd.*



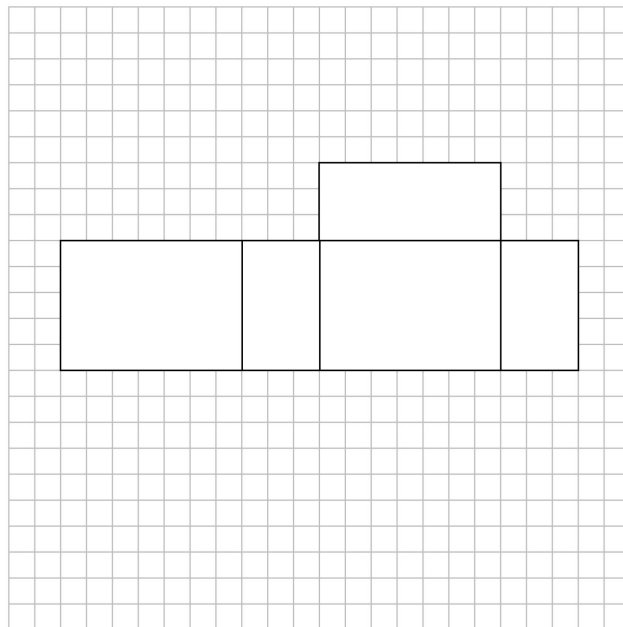
**Opgave 2** Kleur de uitslag zo, dat de bovenste helft van de kubus gekleurd is. Het gekleurde vlak is het bovenvlak.



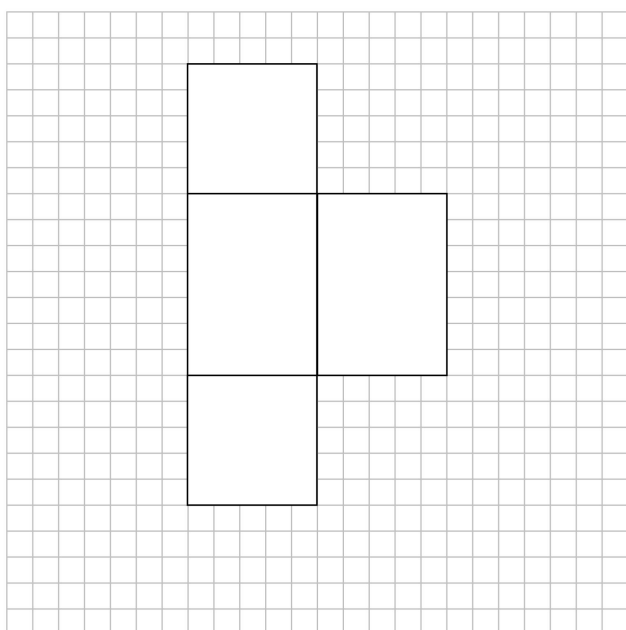
**Opgave 3** Maak de uitslag van de kubus af.



**Opgave 4** Maak de uitslag van de balk af.



**Opgave 5** Maak de uitslag van de balk af.



**Opgave 6** Teken de ramen en deuren van de school die je ziet in de uitslag.

