

Meten 7B

Eiland: Schaal

Doel: Berekenen van een lengte met schaal



Liniaal



Potlood

Opgave 1 Wat is de hoogte van het kopje in het echt?

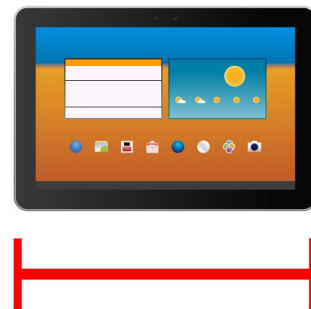
_____ centimeter



schaal 1 : 2

Opgave 2 Wat is de breedte van de tablet in het echt?


_____ centimeter



schaal 1 : 5

Opgave 3 Wat is de hoogte van het schrift in het echt?

_____ centimeter



schaal 1 : 6

Opgave 4 Wat is de hoogte en breedte van de televisie in het echt?

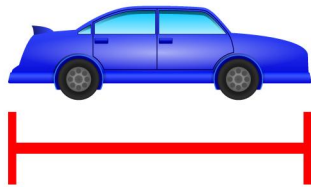
_____ en _____ centimeter



schaal 1 : 10

Opgave 5 Wat is de lengte van de auto in het echt?

_____ centimeter

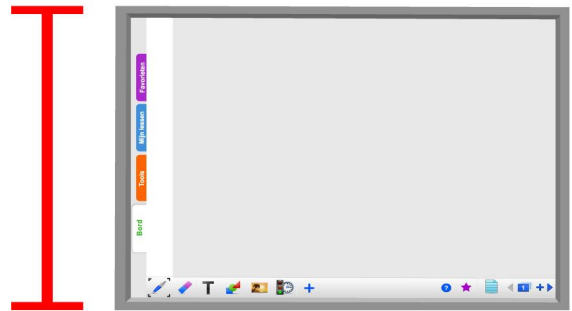


schaal 1 : 100

Opgave 6 Wat is de hoogte en breedte van het digibord in het echt?

Noteer je antwoord in meters.

_____ en _____ meter




schaal 1 : 50

Opgave 7 Wat is de hoogte van de hijskraan in het echt?

Noteer je antwoord in meters.

_____ meter

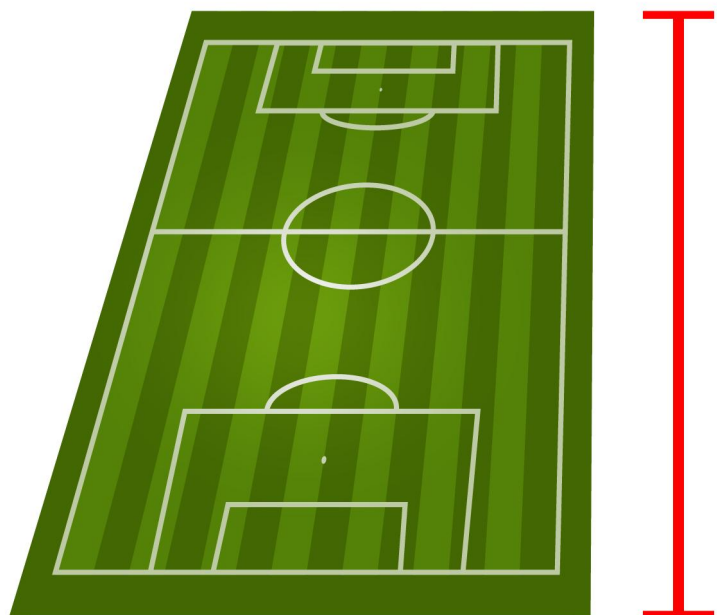


schaal 1 : 200

Opgave 8 Wat is de lengte van het voetbalveld in het echt?

Noteer je antwoord in meters.

_____ meter



schaal 1 : 1000