

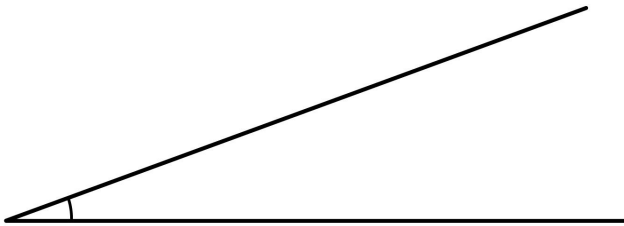
## Meetkunde 22A

Eiland: Hoeken  
Doel: Opmeten van een hoek



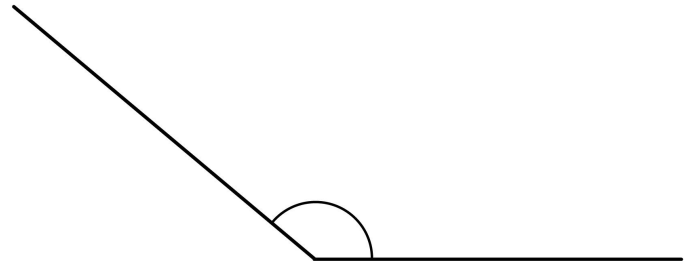
Opgave 1 Hoeveel graden is de hoek?

\_\_\_\_\_ °




Opgave 2 Hoeveel graden is de hoek?

\_\_\_\_\_ °



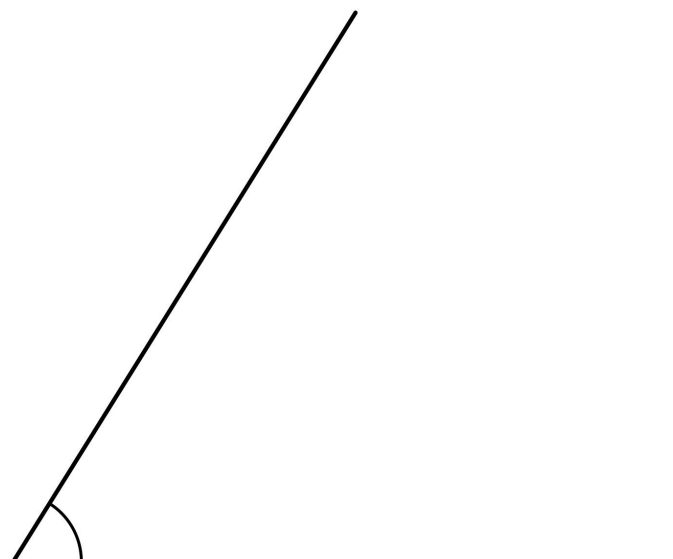
Opgave 3 Hoeveel graden is de hoek?

\_\_\_\_\_ °



Opgave 4 Hoeveel graden is de hoek?

\_\_\_\_\_ °



Opgave 5 Hoeveel graden is hoek A?

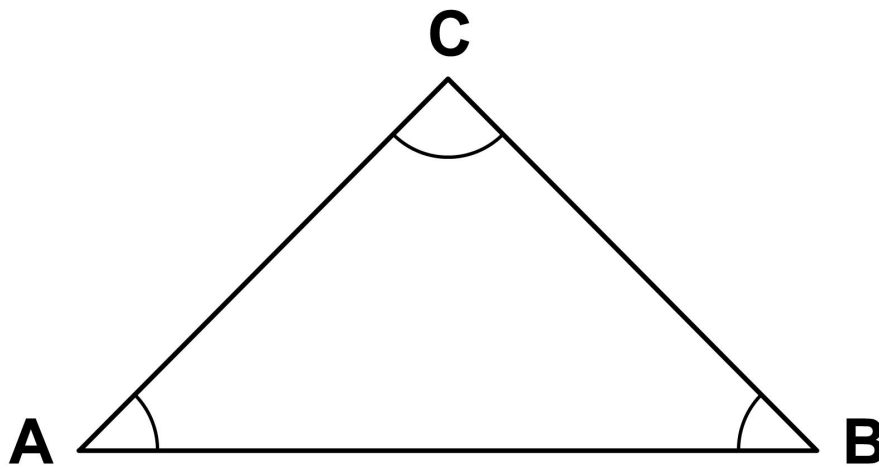
\_\_\_\_\_ °

Opgave 6 Hoeveel graden is hoek B?

\_\_\_\_\_ °

Opgave 7 Hoeveel graden is hoek C?

\_\_\_\_\_ °



Opgave 8 Wat is het verschil in graden  
tussen hoek A en hoek D?

\_\_\_\_\_ °

