

## Procenten, Breuken & Verhoudingen 6A

**Eiland:** Kennismaken met percentages  
**Leerdoel:** Weergeven van een percentage in een figuur




Liniaal




Kleurpotloden

### Opgave 1 Kleur 50%.




### Opgave 2 Kleur 30%.



### Opgave 3 Kleur 50% van de muur rood.

Schilder Jan moet 50% van deze muur rood schilderen.



### Opgave 4 Kleur 75% van de tuin groen.

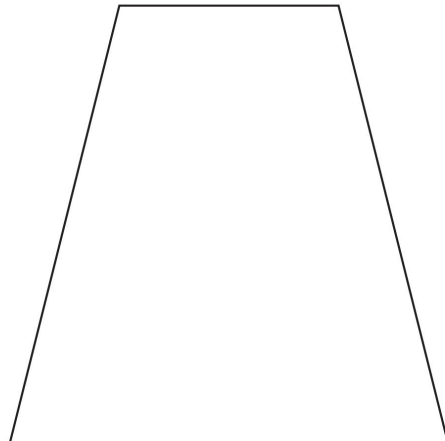
De tuin van Henk is toe aan een opknapbeurt. Henk wil dat 75% van zijn tuin uit gras bestaat.



**Opgave 5** Kleur 25% van de fles.

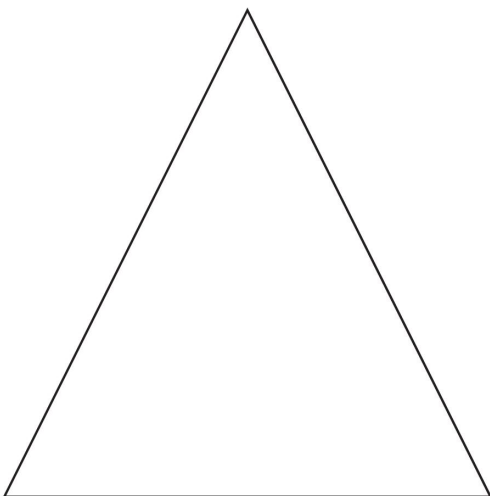


**Opgave 6** Kleur 50% van dit figuur.

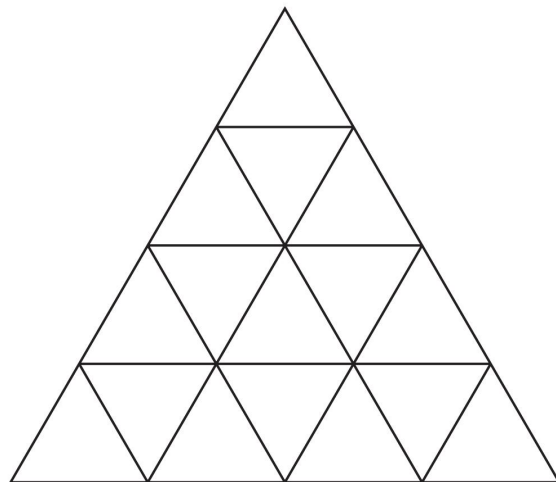


**Opgave 7** Kleur 75% van de plattegrond rood.


*Dit is een plattegrond van een pretpark. Op 75% van het pretpark staan attracties.*



**Opgave 8** Kleur 25%.



**Opgave 9** Kleur 25% op 3 verschillende manieren.



**Opgave 10** Kleur 50% op 3 verschillende manieren.

