

Tabellen & Grafieken 6C

Eiland: Aflezen en tekenen van lijngrafieken
Leerdoel: Teken en een meervoudige lijngrafiek



Liniaal



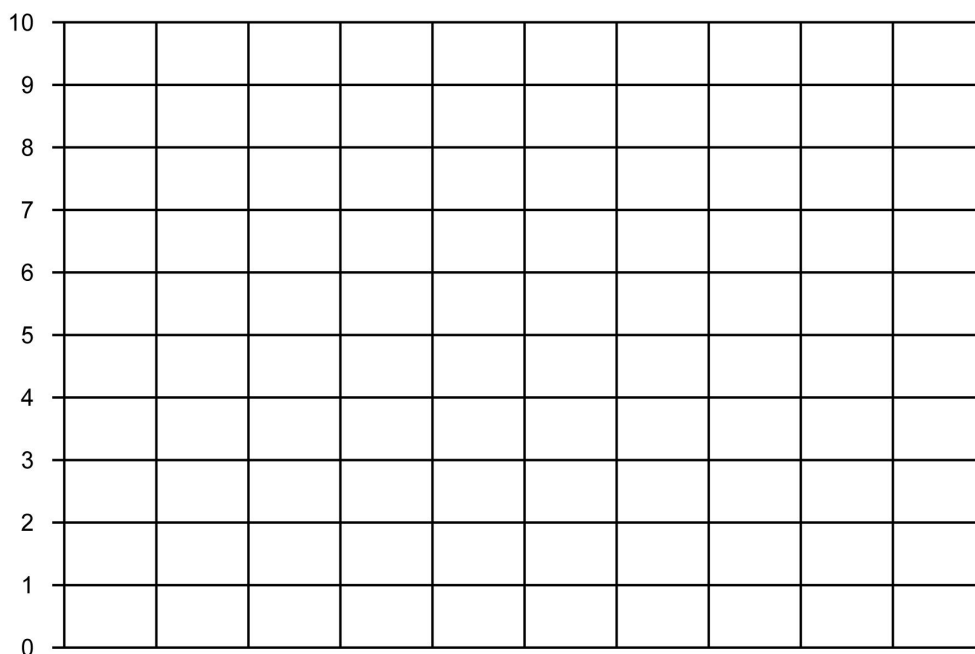
Potlood



Kleurpotloden

Opgave 1 Teken een lijngrafiek op basis van de tabel: Leeftijdsgebonden zakgeld.

leeftijd	8 jaar	9 jaar	10 jaar	11 jaar
euro's zakgeld meisjes	€ 5,-	€ 6,-	€ 8,-	€ 10,-
euro's zakgeld jongens	€ 6,-	€ 8,-	€ 9,-	€ 10,-

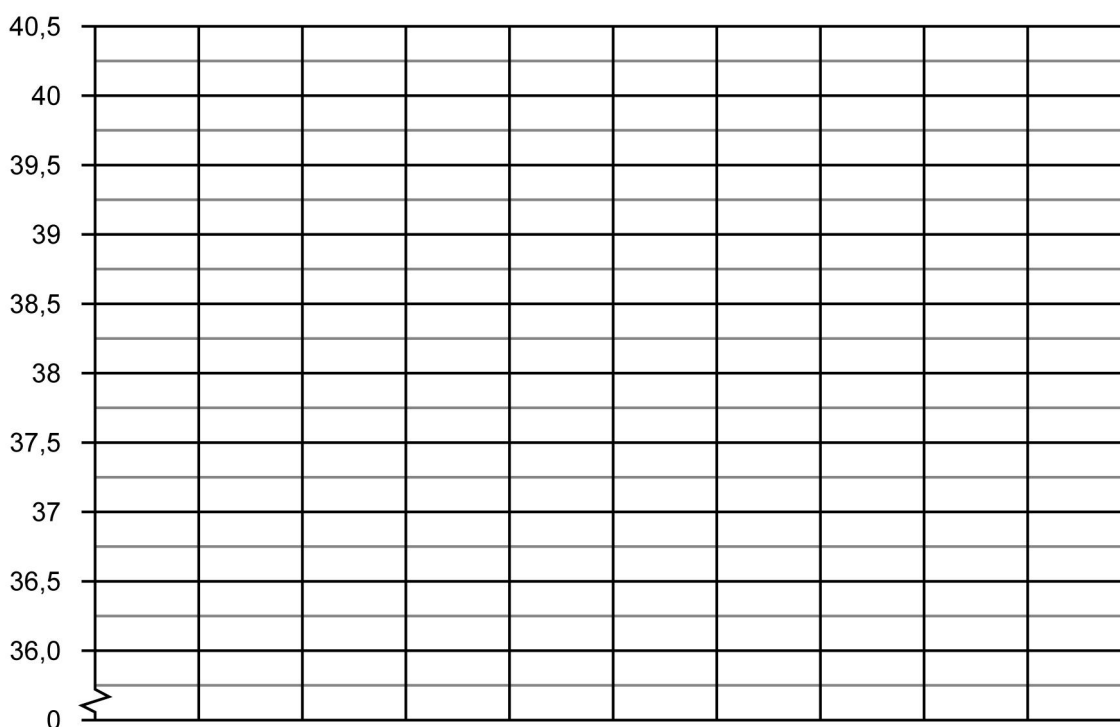
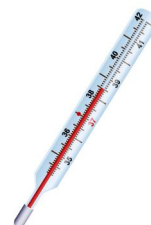


Opgave 2 Teken een lijngrafiek op basis van de informatie: Gemeten lichaamstemperatuur per dag.



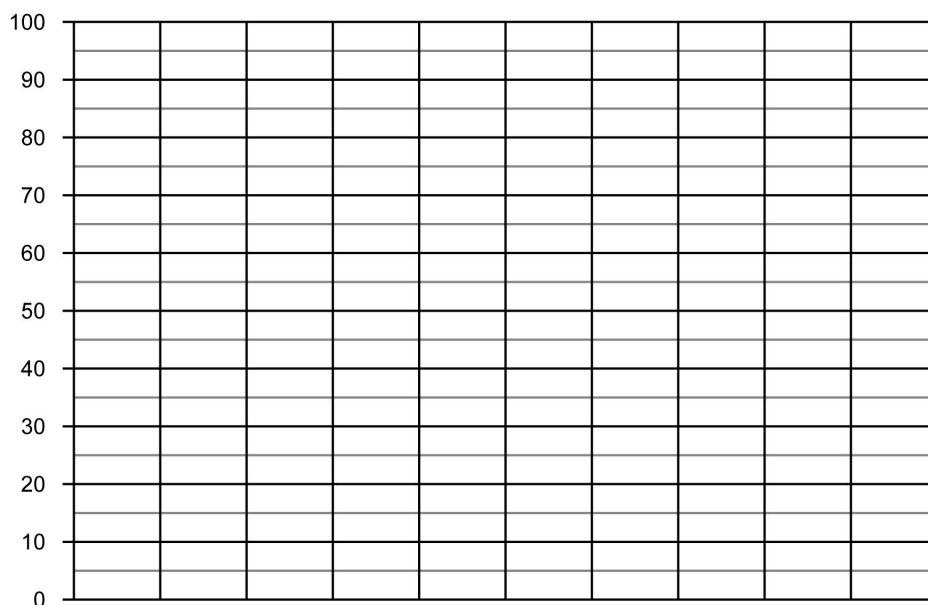
Ik heb uw temperatuur de hele week 's ochtends en 's avonds gemeten.

Op maandagochtend 37,5 °C	Op maandagavond 38 °C
Op dinsdagochtend 39 °C	Op dinsdagavond 39,5 °C
Op woensdagochtend 40,5 °C	Op woensdagavond 37 °C
Op donderdagochtend 38,5 °C	Op donderdagavond 39 °C
Op vrijdagochtend 40 °C	Op vrijdagavond 38,5 °C
Op zaterdagochtend 39,5 °C	Op zaterdagavond 40,5 °C
Op zondagochtend 37,5 °C	Op zondagavond 37 °C



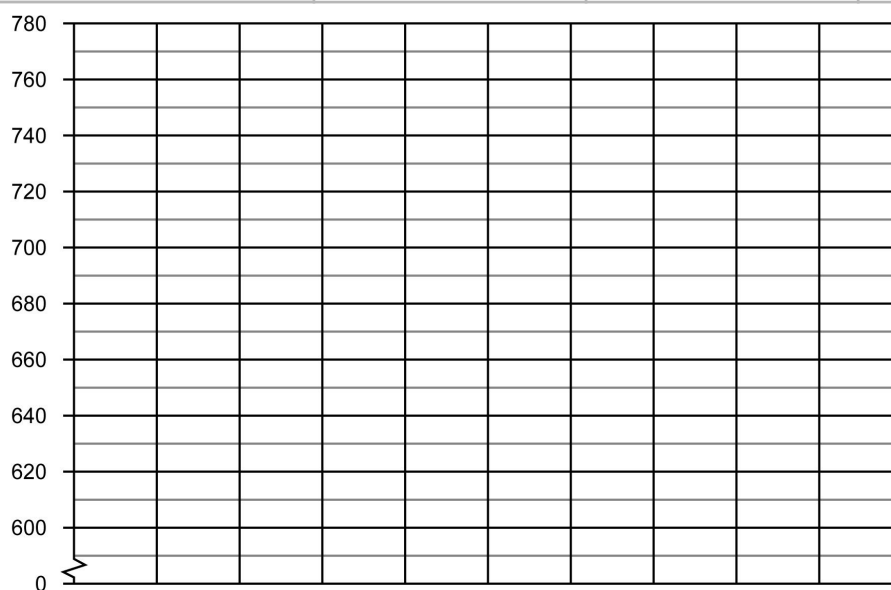
Opgave 3 Teken een lijngrafiek op basis van de tabel: Leeftijdsgebonden zakgeld.

leeftijd	14 jaar	15 jaar	16 jaar	17 jaar
euro's zakgeld jongen	€ 25,-	€ 30,-	€ 35,-	€ 45,-
euro's zakgeld meisje	€ 25,-	€ 35,-	€ 40,-	€ 50,-



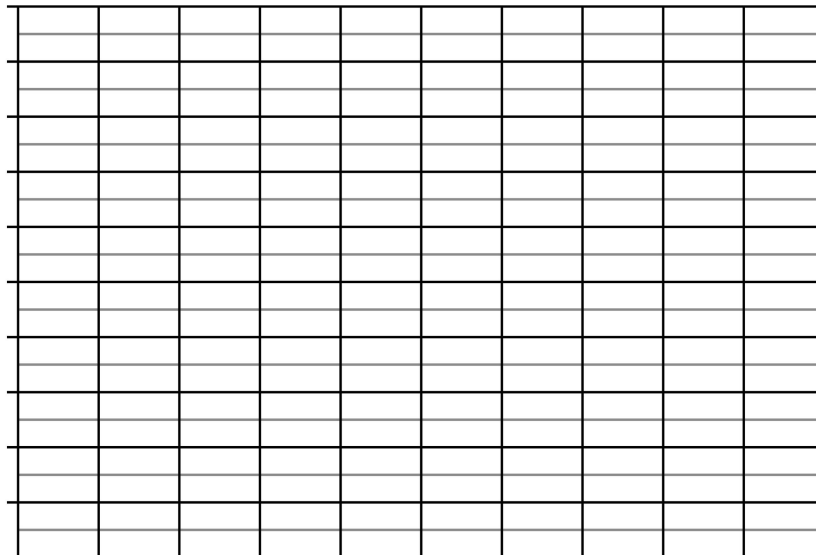
Opgave 4 Teken een lijngrafiek op basis van de tabel: Gewicht puppy en kitten.

dag	dag 1	dag 2	dag 3
gewicht van een puppy in gram	640	720	780
gewicht van een kitten in gram	610	650	690



Opgave 5 Teken een lijngrafiek op basis van de tabel: Wekelijkse bezoekers.

week	week 1	week 2	week 3	week 4	week 5	week 6
aantal bezoekers museum	250	900	400	550	750	400
aantal bezoekers dierentuin	500	550	450	500	600	800



Opgave 6 Ga op onderzoek in je klas. Verzamel gegevens van jouw klasgenoten en zet deze in de tabel. Teken dan een lijngrafiek op basis van de tabel en schrijf de titel erboven.

