

Meten 2B

Eiland: Meten met meetinstrument
Doel: Meten van eenvoudige lijnen met een meetinstrument



Liniaal



Potlood



Kleurpotloden


Opgave 1 Hoeveel centimeter is de lijn?

_____ cm



Opgave 2 Hoeveel centimeter is de lijn?

_____ cm




Opgave 3 Hoeveel centimeter is de lijn?

_____ cm




Opgave 4 Hoeveel centimeter is de lijn?

_____ cm




Opgave 5 Hoe lang is de snavel?

_____ cm




Opgave 6 Hoe lang is de staart?

_____ cm



Opgave 7 Hoe lang is de steel van de bloem?

_____ cm



Opgave 8 Kleur de vogel met een snavel van 5 cm.

