

Meten 5A

Eiland: Meten met meetinstrument

Doel: Meten van lengte van lijnen met een meetinstrument in millimeter



Liniaal



Potlood

Opgave 1 Hoeveel millimeter is de lijn? _____ mm



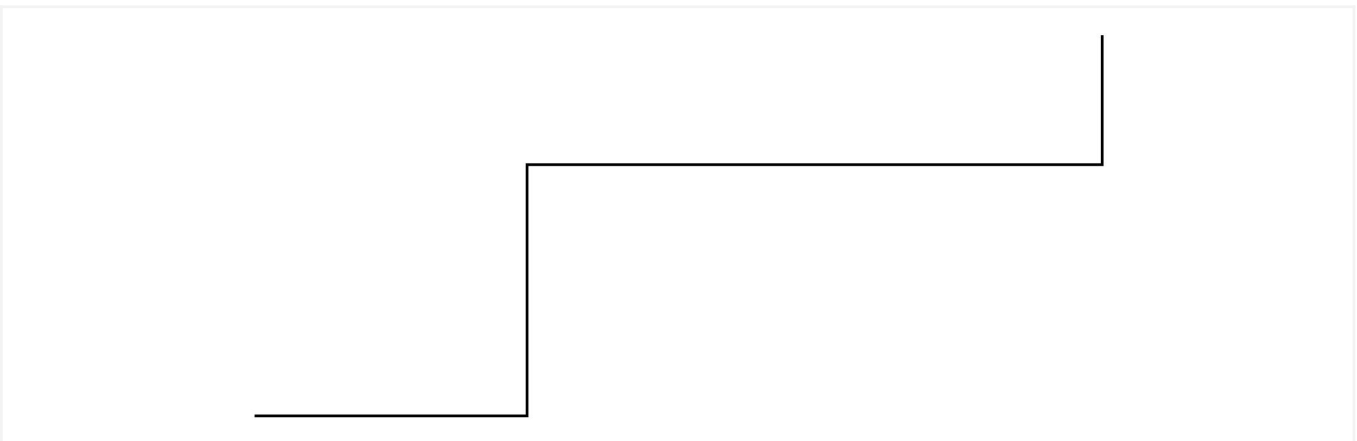
Opgave 2 Hoeveel centimeter en millimeter is de lijn? _____ cm en _____ mm



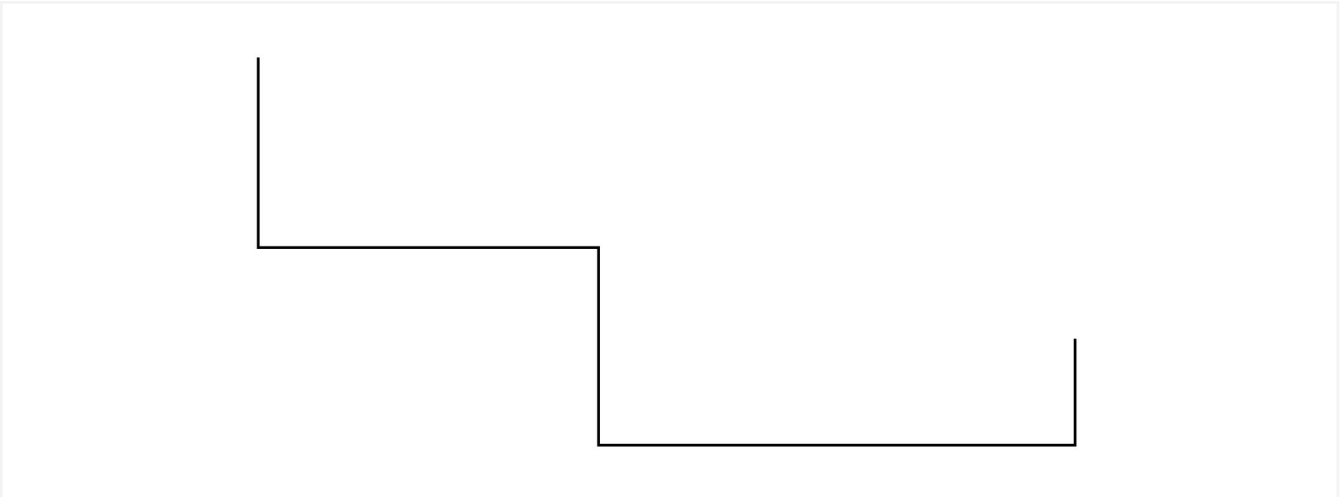
Opgave 3 Hoeveel millimeter is de lijn? _____ mm



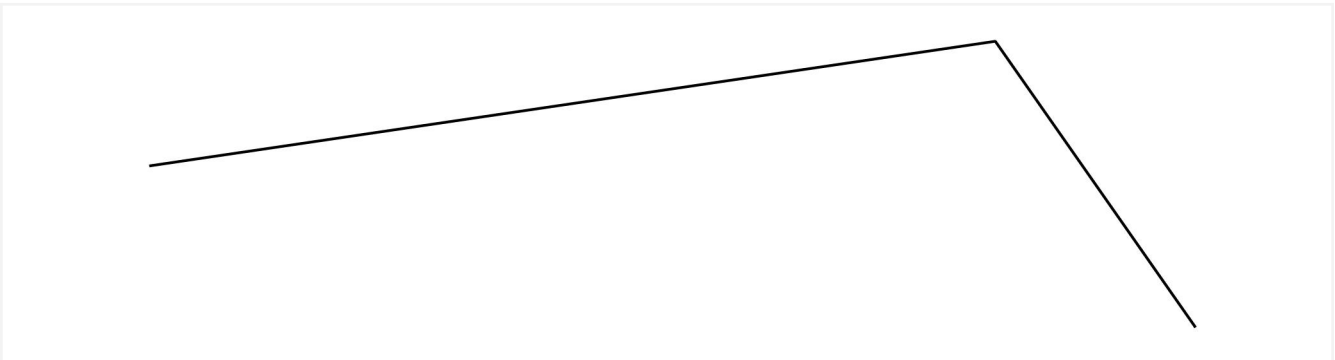
Opgave 4 Hoeveel centimeter en millimeter is de lijn? _____ cm en _____ mm



Opgave 5 Hoeveel millimeter is de lijn? _____ mm



Opgave 6 Hoeveel centimeter en millimeter is de lijn? _____ cm en _____ mm



Opgave 7 Hoeveel millimeter is de lijn? _____ mm



Opgave 8 Hoeveel centimeter en millimeter is de lijn? _____ cm en _____ mm



Opgave 9 Hoeveel millimeter is de lijn? _____ mm



Opgave 10 Hoeveel millimeter is de lijn? _____ mm
Hoeveel centimeter is dat? _____ cm

