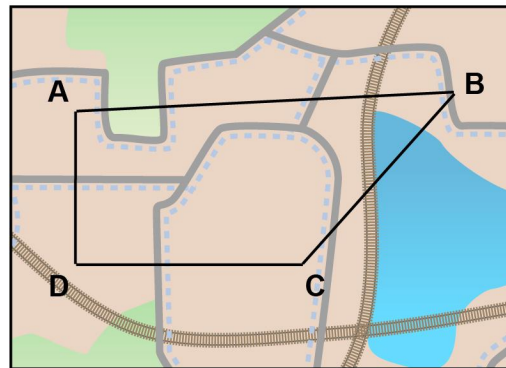


Meten 12A

Eiland: Schaal
Doel: Maken van een afstandstabel via opmeten met schaal



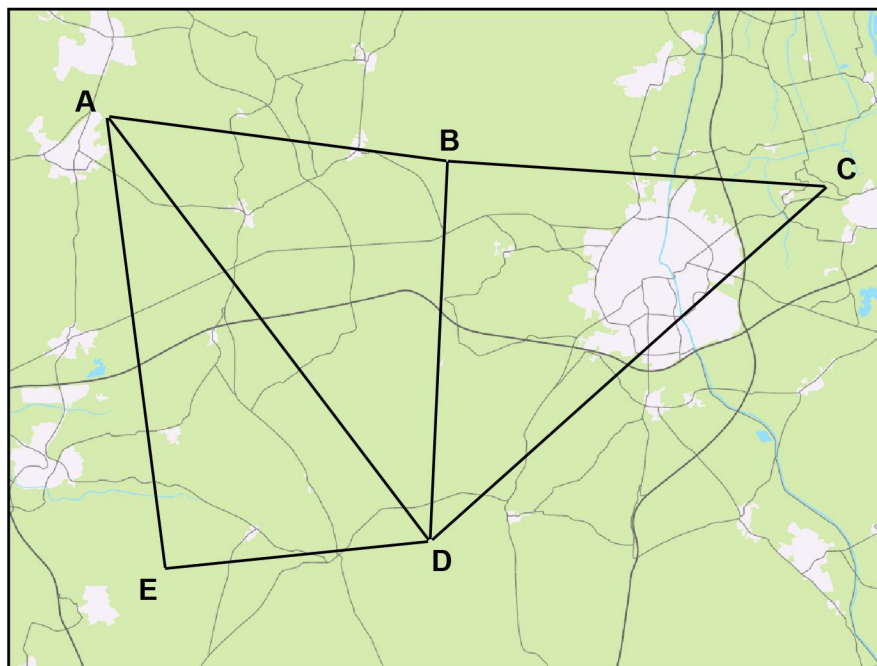
Opgave 1 Maak een afstandstabel. Kies steeds de kortste route.



2 km

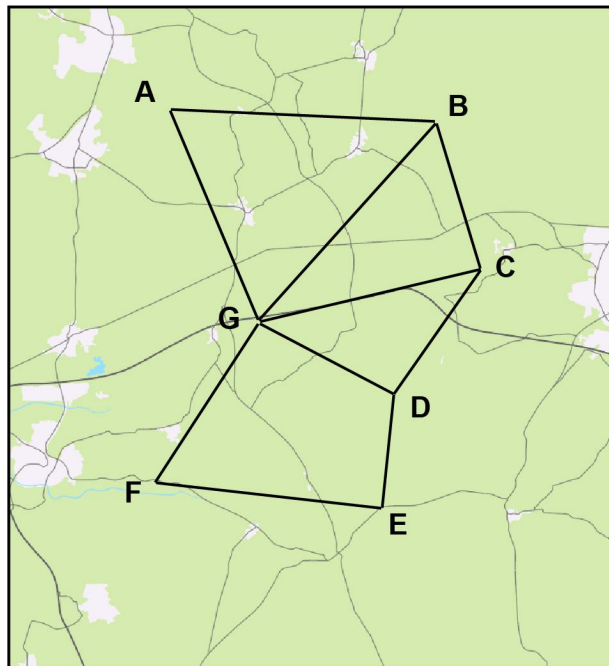
	A	B	C	D
A	X	km	km	km
B	km	X	km	km
C	km	km	X	km
D	km	km	km	X

Opgave 2 Maak een afstandstabel. Kies steeds de kortste route.



	A	B	C	D	E
A	X	km	km	km	km
B	km	X	km	km	km
C	km	km	X	km	km
D	km	km	km	X	km
E	km	km	km	km	X

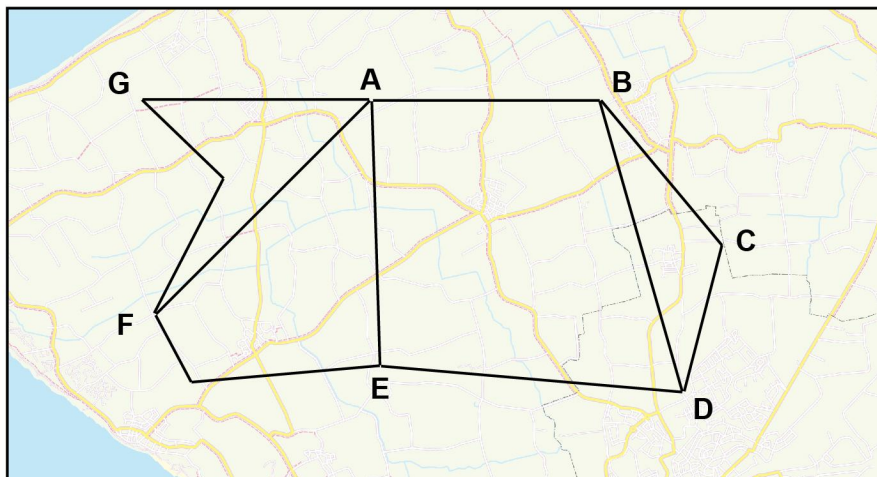
Opgave 3 Maak een afstandstabel. Kies steeds de kortste route.



schaal 1 : 200 000

	A	B	C	D	E	F	G
A	X	km	km	km	km	km	km
B	km	X	km	km	km	km	km
C	km	km	X	km	km	km	km
D	km	km	km	X	km	km	km
E	km	km	km	km	X	km	km
F	km	km	km	km	km	X	km
G	km	km	km	km	km	km	X

Opgave 4 Maak een afstandstabel. Kies steeds de kortste route.



schaal 1 : 400 000

	A	B	C	D	E	F	G
A	X	km	km	km	km	km	km
B	km	X	km	km	km	km	km
C	km	km	X	km	km	km	km
D	km	km	km	X	km	km	km
E	km	km	km	km	X	km	km
F	km	km	km	km	km	X	km
G	km	km	km	km	km	km	X