

## Topografie - Regio's van Nederland - Oefenblad

**Eiland:** Land

**Leerdoel:** Regio's

**Opdracht:** Leer de namen van de regio's uit je hoofd.



A. Schiermonnikoog

B. Ameland

C. Terschelling

D. Vlieland

E. Texel

F. Afsluitdijk

G. Haarlemmermeer

H. Schiphol

I. Randstad

J. Biesbosch

K. Zeeuws-Vlaanderen

L. Vaalserberg

M. Veluwe

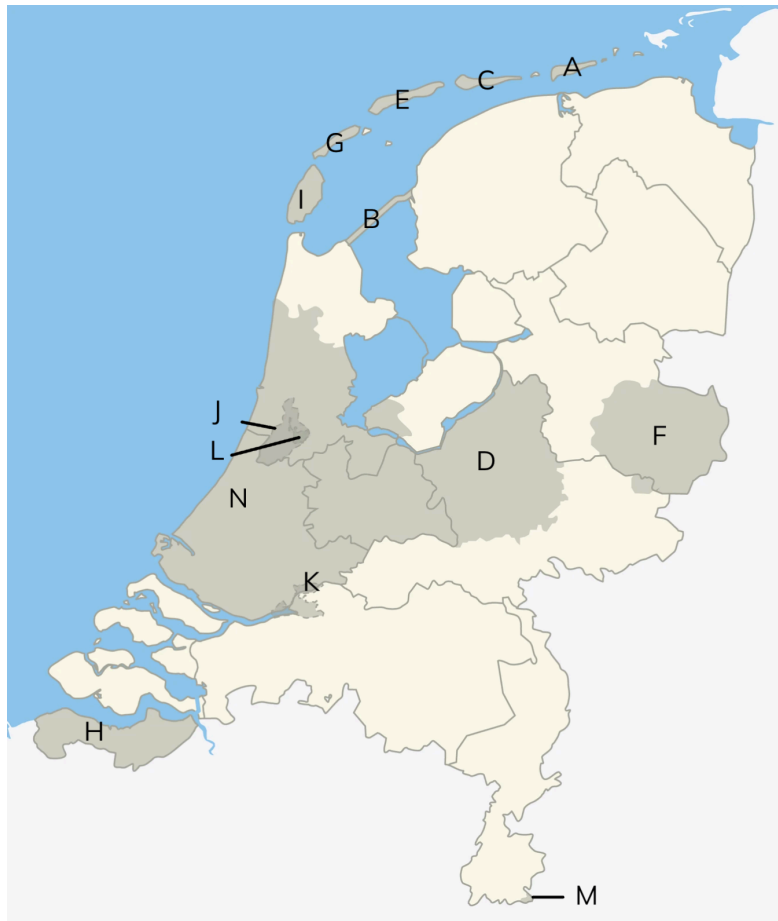
N. Twente

## Topografie - Regio's van Nederland - Werkblad versie A

Eiland: Land

Leerdoel: Regio's

**Opdracht:** Schrijf bij iedere letter de juiste regio op.



A. \_\_\_\_\_

H. \_\_\_\_\_

B. \_\_\_\_\_

I. \_\_\_\_\_

C. \_\_\_\_\_

J. \_\_\_\_\_

D. \_\_\_\_\_

K. \_\_\_\_\_

E. \_\_\_\_\_

L. \_\_\_\_\_

F. \_\_\_\_\_

M. \_\_\_\_\_

G. \_\_\_\_\_

N. \_\_\_\_\_

## Topografie - Regio's van Nederland - Antwoordblad versie A

Eiland: Land

Leerdoel: Regio's

### Antwoorden:

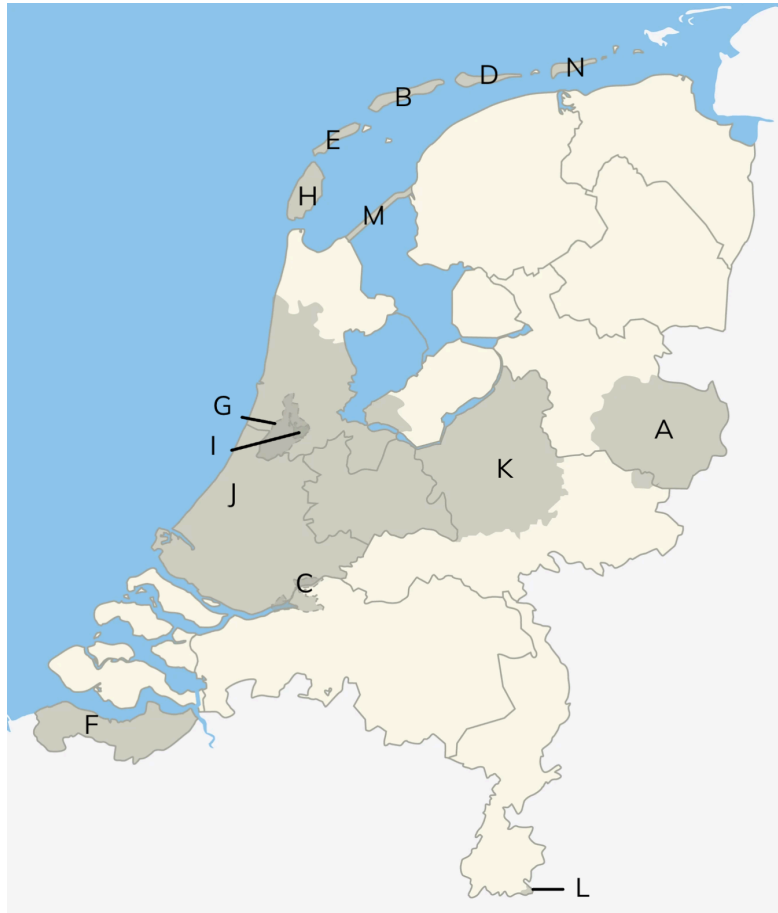
- |                    |                      |
|--------------------|----------------------|
| A. Schiermonnikoog | H. Zeeuws-Vlaanderen |
| B. Afsluitdijk     | I. Texel             |
| C. Ameland         | J. Haarlemmermeer    |
| D. Veluwe          | K. Biesbosch         |
| E. Terschelling    | L. Schiphol          |
| F. Twente          | M. Vaalserberg       |
| G. Vlieland        | N. Randstad          |

## Topografie - Regio's van Nederland - Werkblad versie B

Eiland: Land

Leerdoel: Regio's

**Opdracht:** Schrijf bij iedere letter de juiste regio op.



A. \_\_\_\_\_

H. \_\_\_\_\_

B. \_\_\_\_\_

I. \_\_\_\_\_

C. \_\_\_\_\_

J. \_\_\_\_\_

D. \_\_\_\_\_

K. \_\_\_\_\_

E. \_\_\_\_\_

L. \_\_\_\_\_

F. \_\_\_\_\_

M. \_\_\_\_\_

G. \_\_\_\_\_

N. \_\_\_\_\_

## Topografie - Regio's van Nederland - Antwoordblad versie B

Eiland: Land

Leerdoel: Regio's

### Antwoorden:

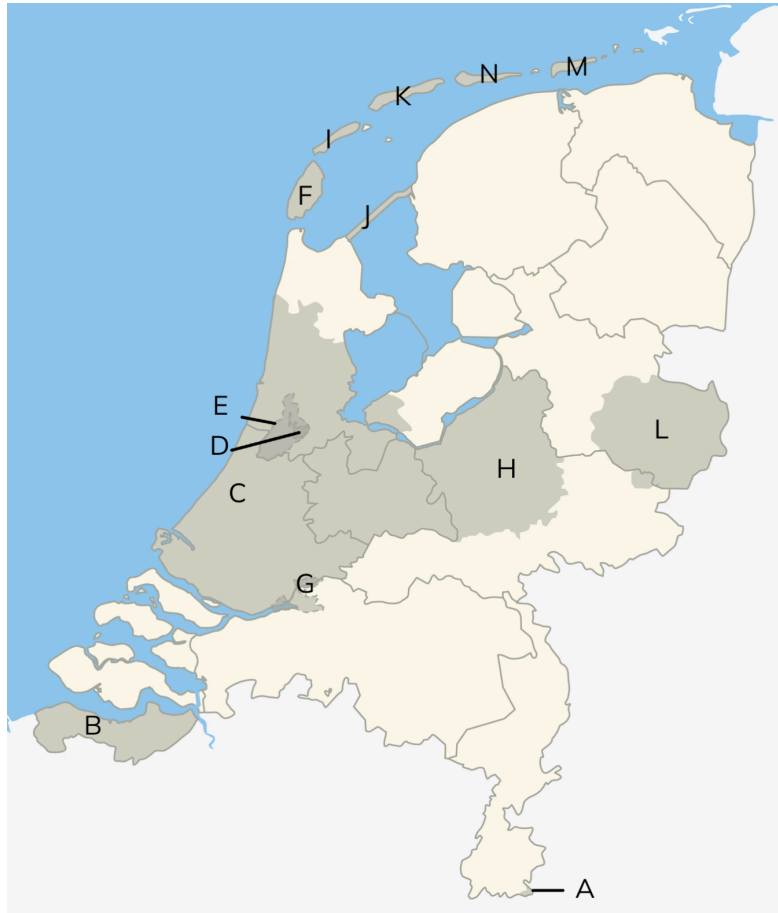
- |                      |                    |
|----------------------|--------------------|
| A. Twente            | H. Texel           |
| B. Terschelling      | I. Schiphol        |
| C. Biesbosch         | J. Randstad        |
| D. Ameland           | K. Veluwe          |
| E. Vlieland          | L. Vaalserberg     |
| F. Zeeuws-Vlaanderen | M. Afsluitdijk     |
| G. Haarlemmermeer    | N. Schiermonnikoog |

## Topografie - Regio's van Nederland - Werkblad versie C

Eiland: Land

Leerdoel: Regio's

**Opdracht:** Schrijf bij iedere letter de juiste regio op.



A. \_\_\_\_\_

H. \_\_\_\_\_

B. \_\_\_\_\_

I. \_\_\_\_\_

C. \_\_\_\_\_

J. \_\_\_\_\_

D. \_\_\_\_\_

K. \_\_\_\_\_

E. \_\_\_\_\_

L. \_\_\_\_\_

F. \_\_\_\_\_

M. \_\_\_\_\_

G. \_\_\_\_\_

N. \_\_\_\_\_

## Topografie - Regio's van Nederland - Antwoordblad versie C

**Eiland:** Land

**Leerdoel:** Regio's

### Antwoorden:

- |                      |                    |
|----------------------|--------------------|
| A. Vaalserberg       | H. Veluwe          |
| B. Zeeuws-Vlaanderen | I. Vlieland        |
| C. Randstad          | J. Afsluitdijk     |
| D. Schiphol          | K. Terschelling    |
| E. Haarlemmermeer    | L. Twente          |
| F. Texel             | M. Schiermonnikoog |
| G. Biesbosch         | N. Ameland         |