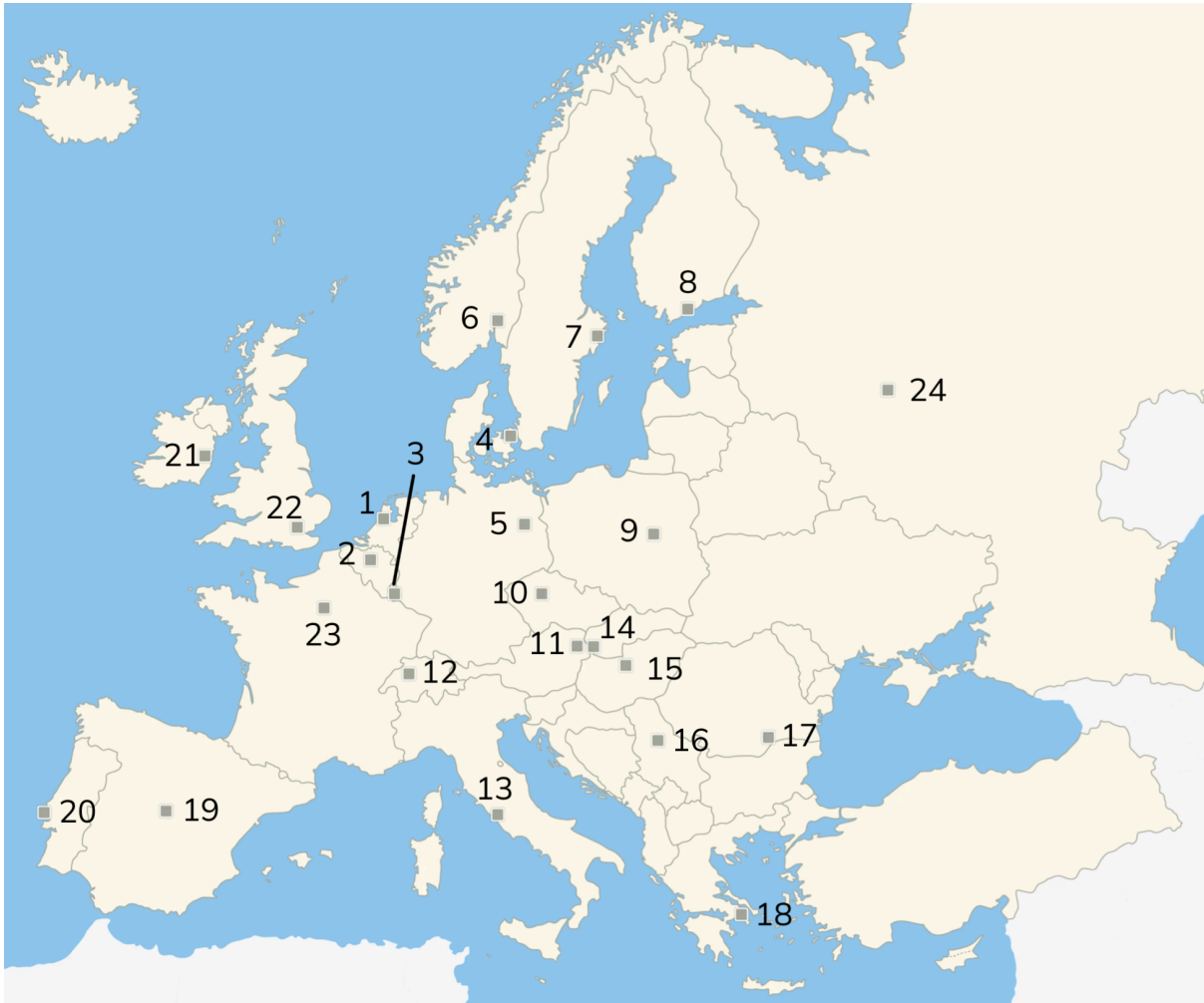


Topografie - Hoofdsteden van Europa - Oefenblad

Eiland: Werelddeel

Leerdoel: Hoofdsteden

Opdracht: Leer de namen van de hoofdsteden uit je hoofd.



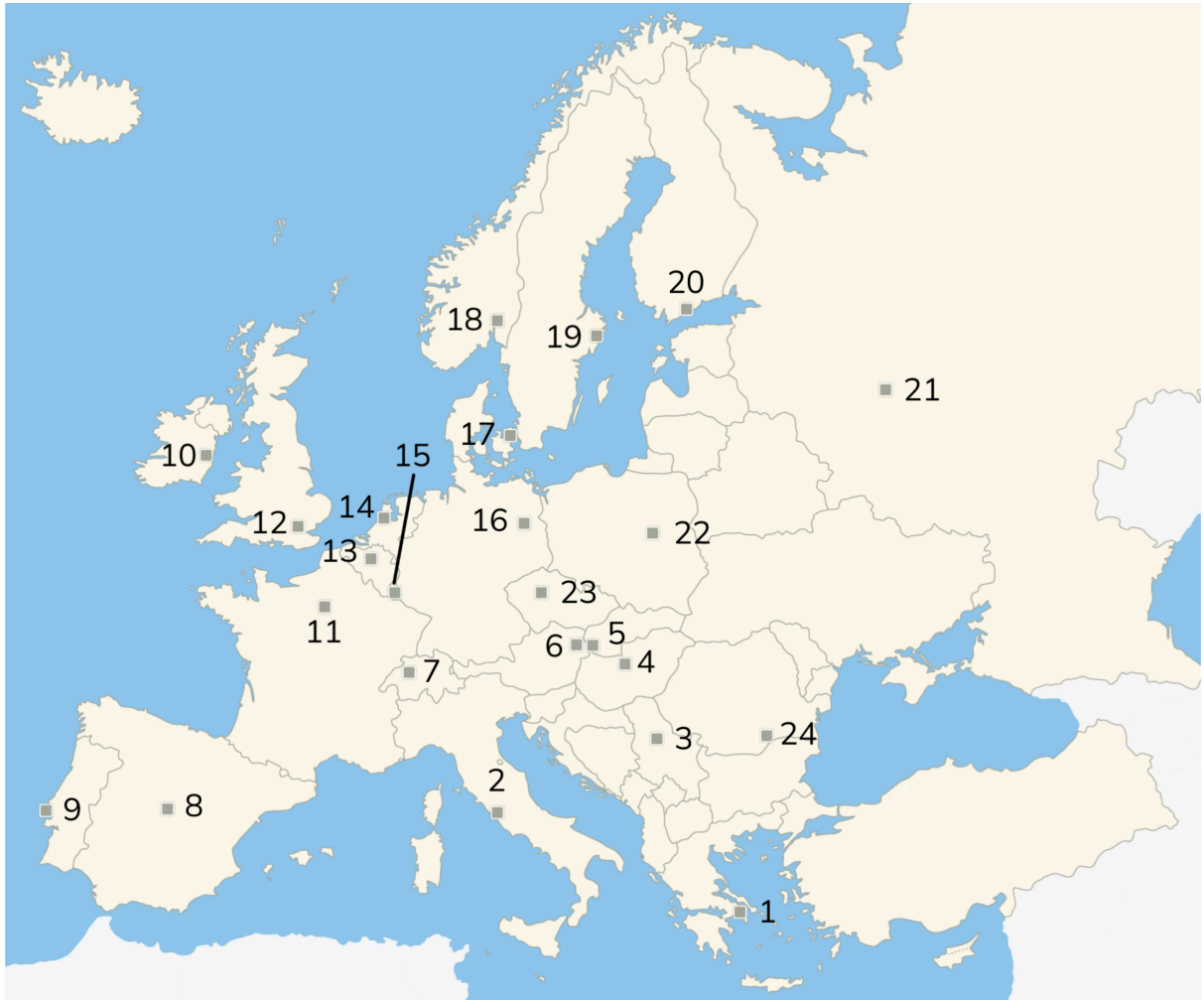
- | | | |
|---------------|----------------|---------------|
| 1. Amsterdam | 9. Warschau | 17. Boekarest |
| 2. Brussel | 10. Praag | 18. Athene |
| 3. Luxemburg | 11. Wenen | 19. Madrid |
| 4. Kopenhagen | 12. Bern | 20. Lissabon |
| 5. Berlijn | 13. Rome | 21. Dublin |
| 6. Oslo | 14. Bratislava | 22. Londen |
| 7. Stockholm | 15. Boedapest | 23. Parijs |
| 8. Helsinki | 16. Belgrado | 24. Moskou |

Topografie - Hoofdsteden van Europa - Werkblad versie A

Eiland: Werelddeel

Leerdoel: Hoofdsteden

Opdracht: Schrijf bij ieder nummer de juiste hoofdstad op.



1. _____

2. _____

3. _____

4. _____

5. _____

6. _____

7. _____

8. _____

9. _____

10. _____

11. _____

12. _____

13. _____

14. _____

15. _____

16. _____

17. _____

18. _____

19. _____

20. _____

21. _____

22. _____

23. _____

24. _____

Topografie - Hoofdsteden van Europa - Antwoordblad versie A

Eiland: Werelddeel

Leerdoel: Hoofdsteden

Antwoorden:

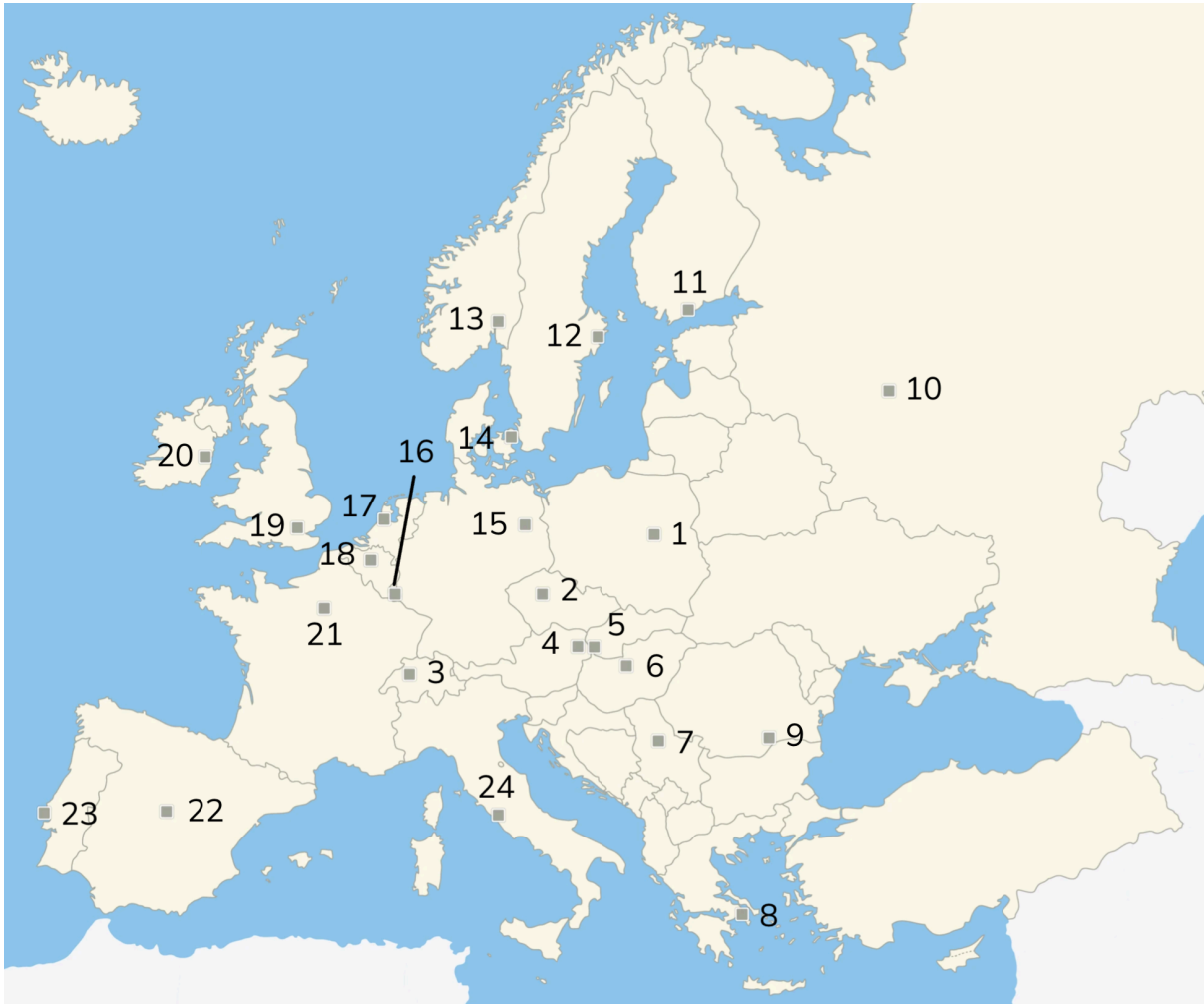
- | | |
|---------------|----------------|
| 1. Athene | 13. Brussel |
| 2. Rome | 14. Amsterdam |
| 3. Belgrado | 15. Luxemburg |
| 4. Boedapest | 16. Berlijn |
| 5. Bratislava | 17. Kopenhagen |
| 6. Wenen | 18. Oslo |
| 7. Bern | 19. Stockholm |
| 8. Madrid | 20. Helsinki |
| 9. Lissabon | 21. Moskou |
| 10. Dublin | 22. Warschau |
| 11. Parijs | 23. Praag |
| 12. Londen | 24. Boekarest |

Topografie - Hoofdsteden van Europa - Werkblad versie B

Eiland: Werelddeel

Leerdoel: Hoofdsteden

Opdracht: Schrijf bij ieder nummer de juiste hoofdstad op.



1. _____

2. _____

3. _____

4. _____

5. _____

6. _____

7. _____

8. _____

9. _____

10. _____

11. _____

12. _____

13. _____

14. _____

15. _____

16. _____

17. _____

18. _____

19. _____

20. _____

21. _____

22. _____

23. _____

24. _____

Topografie - Hoofdsteden van Europa - Antwoordblad versie B

Eiland: Werelddeel

Leerdoel: Hoofdsteden

Antwoorden:

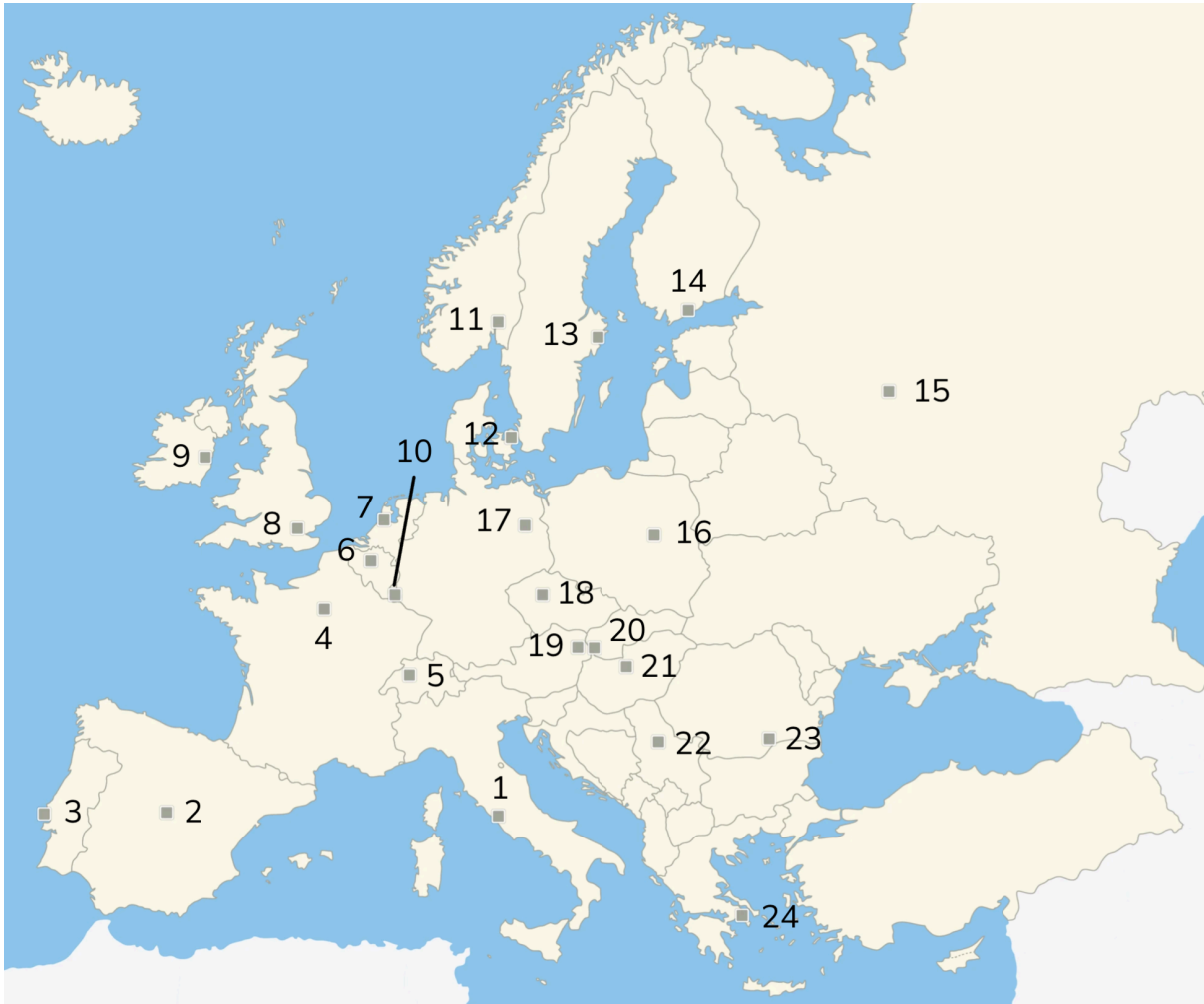
- | | |
|---------------|----------------|
| 1. Warschau | 13. Oslo |
| 2. Praag | 14. Kopenhagen |
| 3. Bern | 15. Berlijn |
| 4. Wenen | 16. Luxemburg |
| 5. Bratislava | 17. Amsterdam |
| 6. Boedapest | 18. Brussel |
| 7. Belgrado | 19. Londen |
| 8. Athene | 20. Dublin |
| 9. Boekarest | 21. Parijs |
| 10. Moskou | 22. Madrid |
| 11. Helsinki | 23. Lissabon |
| 12. Stockholm | 24. Rome |

Topografie - Hoofdsteden van Europa - Werkblad versie C

Eiland: Werelddeel

Leerdoel: Hoofdsteden

Opdracht. Schrijf bij ieder nummer de juiste hoofdstad op.



1. _____

2. _____

3. _____

4. _____

5. _____

6. _____

7. _____

8. _____

9. _____

10. _____

11. _____

12. _____

13. _____

14. _____

15. _____

16. _____

17. _____

18. _____

19. _____

20. _____

21. _____

22. _____

23. _____

24. _____

Topografie - Hoofdsteden van Europa - Antwoordblad versie C

Eiland: Werelddeel

Leerdoel: Hoofdsteden

Antwoorden:

- | | |
|----------------|----------------|
| 1. Rome | 13. Stockholm |
| 2. Madrid | 14. Helsinki |
| 3. Lissabon | 15. Moskou |
| 4. Parijs | 16. Warschau |
| 5. Bern | 17. Berlijn |
| 6. Brussel | 18. Praag |
| 7. Amsterdam | 19. Wenen |
| 8. Londen | 20. Bratislava |
| 9. Dublin | 21. Boedapest |
| 10. Luxemburg | 22. Belgrado |
| 11. Oslo | 23. Boekarest |
| 12. Kopenhagen | 24. Athene |