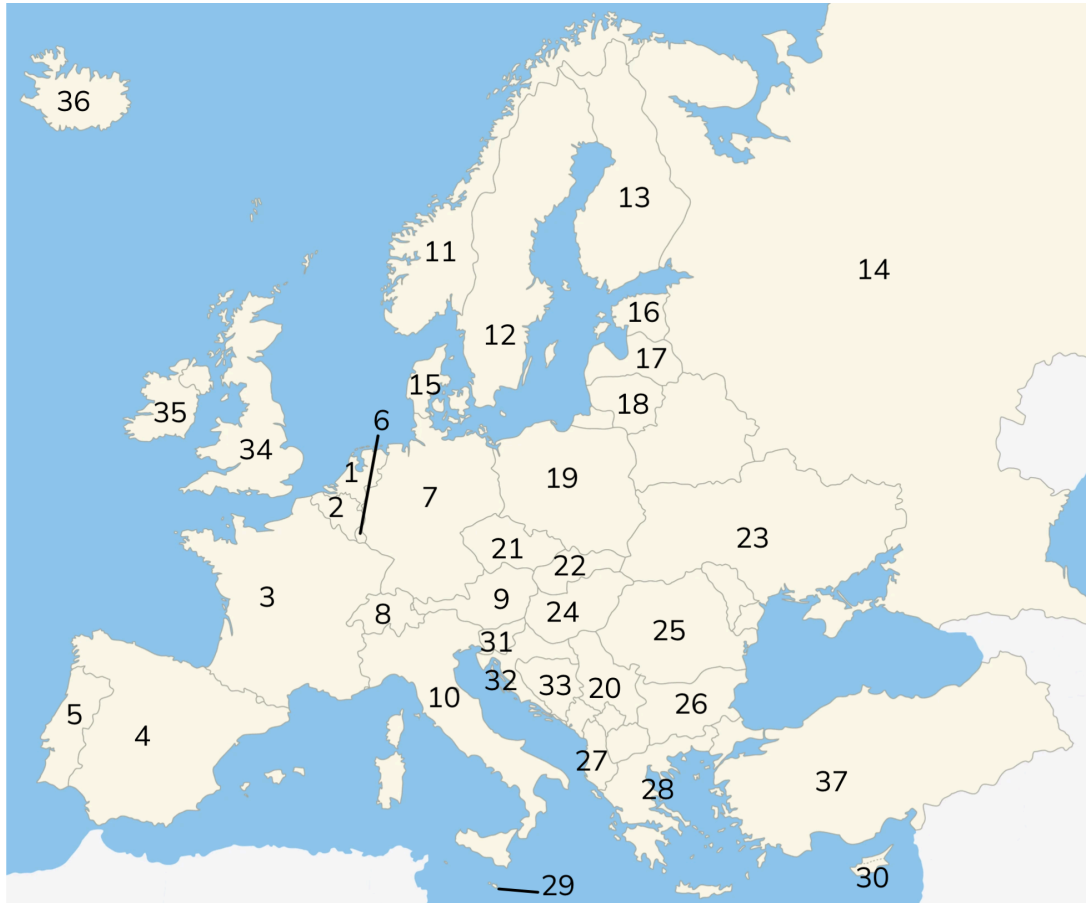


## Topografie - Landen van Europa - Oefenblad

**Eiland:** Werelddeel

**Leerdoel:** Landen

**Opdracht:** Leer de namen van de landen uit je hoofd.



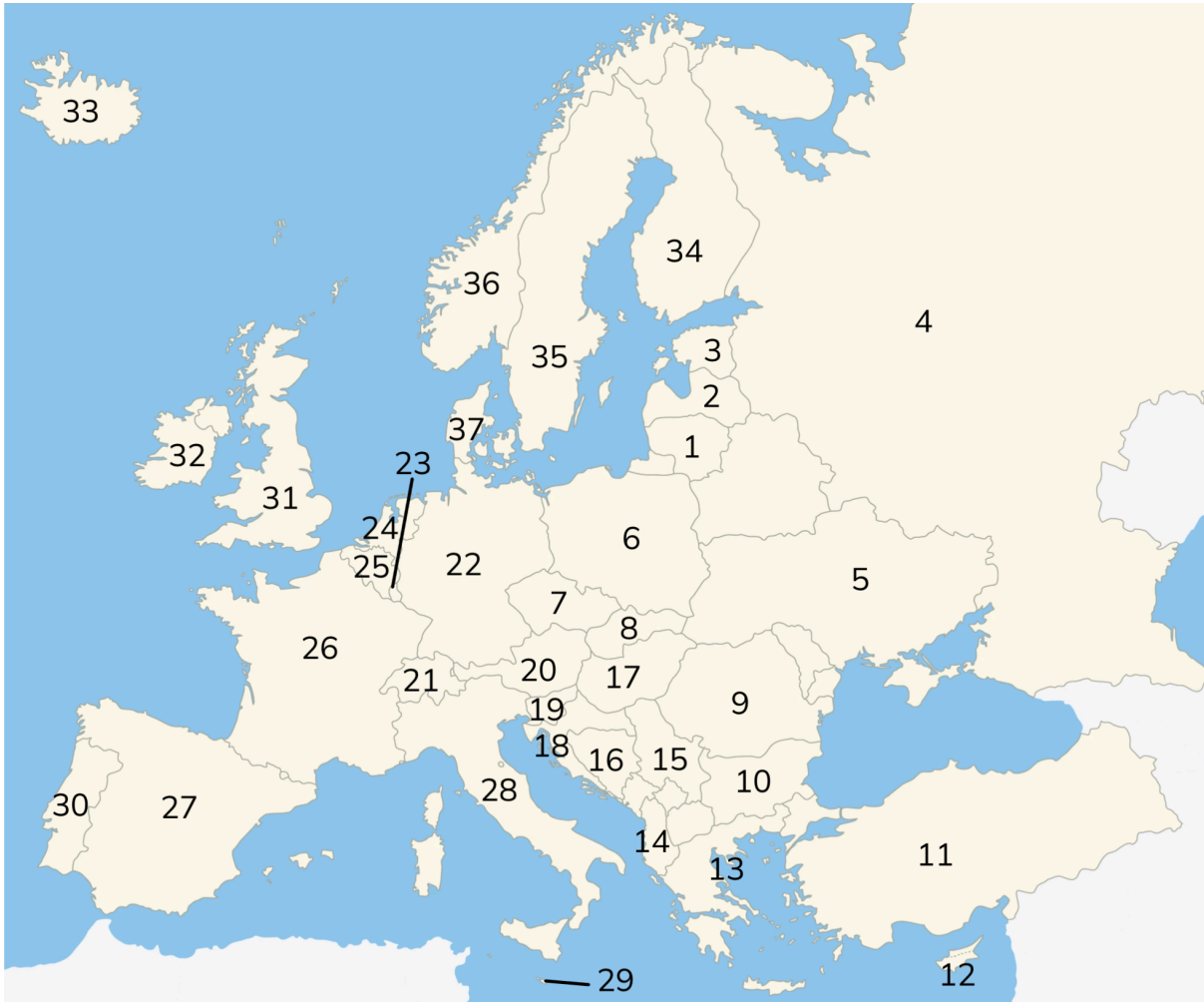
- |                |                |                           |
|----------------|----------------|---------------------------|
| 1. Nederland   | 14. Rusland    | 26. Bulgarije             |
| 2. België      | 15. Denemarken | 27. Albanië               |
| 3. Frankrijk   | 16. Estland    | 28. Griekenland           |
| 4. Spanje      | 17. Letland    | 29. Malta                 |
| 5. Portugal    | 18. Litouwen   | 30. Cyprus                |
| 6. Luxemburg   | 19. Polen      | 31. Slovenië              |
| 7. Duitsland   | 20. Servië     | 32. Kroatië               |
| 8. Zwitserland | 21. Tsjechië   | 33. Bosnië en Herzegovina |
| 9. Oostenrijk  | 22. Slowakije  | 34. Verenigd Koninkrijk   |
| 10. Italië     | 23. Oekraïne   | 35. Ierland               |
| 11. Noorwegen  | 24. Hongarije  | 36. IJsland               |
| 12. Zweden     | 25. Roemenië   | 37. Turkije               |
| 13. Finland    |                |                           |

## Topografie - Landen van Europa - Werkblad versie A

Eiland: Werelddeel

Leerdoel: Landen

**Opdracht:** Schrijf bij ieder nummer het juiste land op.



1. \_\_\_\_\_

2. \_\_\_\_\_

3. \_\_\_\_\_

4. \_\_\_\_\_

5. \_\_\_\_\_

6. \_\_\_\_\_

7. \_\_\_\_\_

8. \_\_\_\_\_

9. \_\_\_\_\_

10. \_\_\_\_\_

11. \_\_\_\_\_

12. \_\_\_\_\_

13. \_\_\_\_\_

14. \_\_\_\_\_

15. \_\_\_\_\_

16. \_\_\_\_\_

17. \_\_\_\_\_

18. \_\_\_\_\_

19. \_\_\_\_\_

20. \_\_\_\_\_

21. \_\_\_\_\_

22. \_\_\_\_\_

23. \_\_\_\_\_

24. \_\_\_\_\_

25. \_\_\_\_\_

26. \_\_\_\_\_

27. \_\_\_\_\_

28. \_\_\_\_\_

29. \_\_\_\_\_

30. \_\_\_\_\_

31. \_\_\_\_\_

32. \_\_\_\_\_

33. \_\_\_\_\_

34. \_\_\_\_\_

35. \_\_\_\_\_

36. \_\_\_\_\_

37. \_\_\_\_\_

## Topografie - Landen van Europa - Antwoordblad versie A

**Eiland:** Werelddeel

**Leerdoel:** Landen

### Antwoorden:

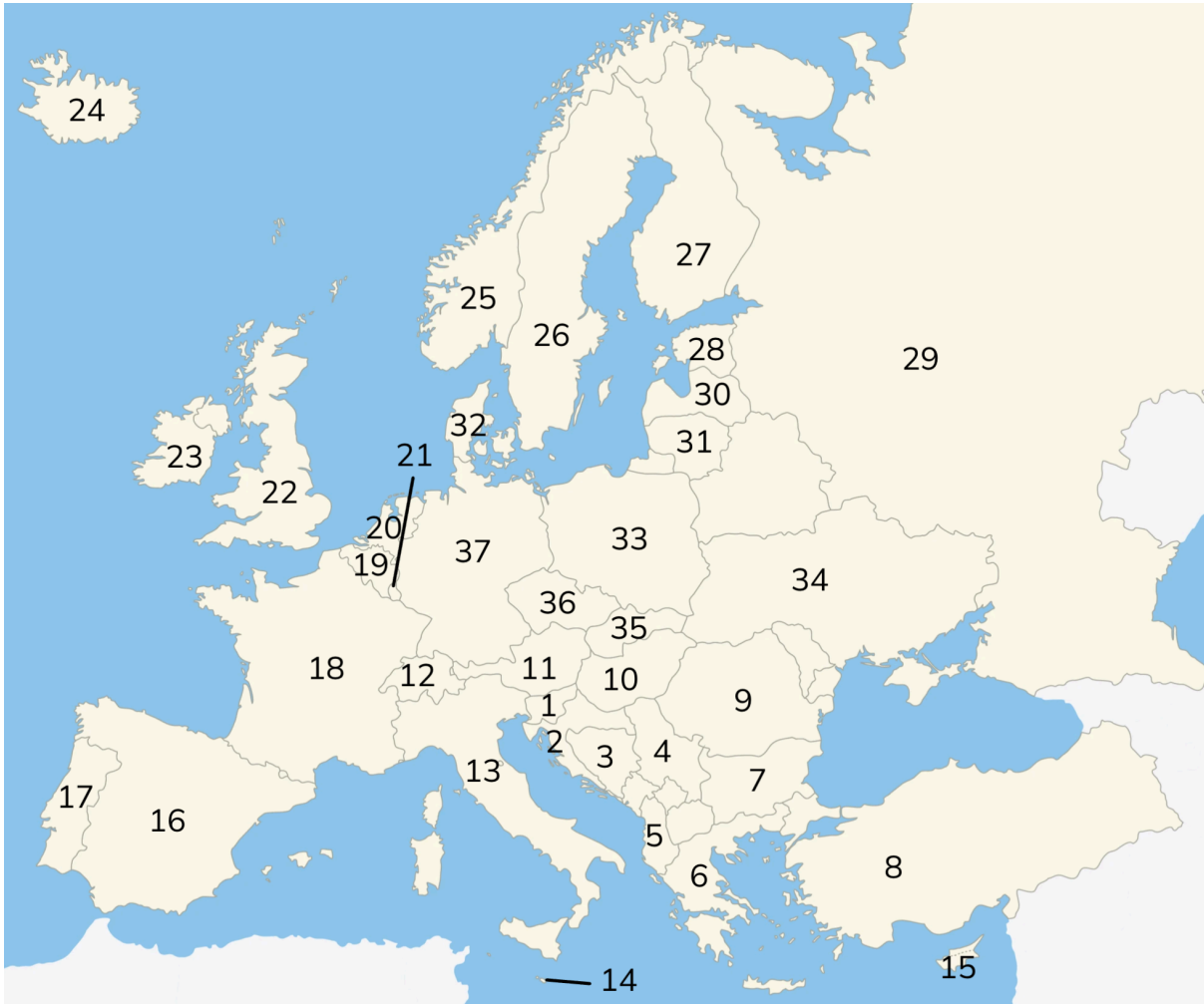
1. Litouwen
2. Letland
3. Estland
4. Rusland
5. Oekraïne
6. Polen
7. Tsjechië
8. Slowakije
9. Roemenië
10. Bulgarije
11. Turkije
12. Cyprus
13. Griekenland
14. Albanië
15. Servië
16. Bosnië en Herzegovina
17. Hongarije
18. Kroatië
19. Slovenië
20. Oostenrijk
21. Zwitserland
22. Duitsland
23. Luxemburg
24. Nederland
25. België
26. Frankrijk
27. Spanje
28. Italië
29. Malta
30. Portugal
31. Verenigd Koninkrijk
32. Ierland
33. IJsland
34. Finland
35. Zweden
36. Noorwegen
37. Denemarken

## Topografie - Landen van Europa - Werkblad versie B

Eiland: Werelddeel

Leerdoel: Landen

**Opdracht:** Schrijf bij ieder nummer het juiste land op.



1. \_\_\_\_\_

2. \_\_\_\_\_

3. \_\_\_\_\_

4. \_\_\_\_\_

5. \_\_\_\_\_

6. \_\_\_\_\_

7. \_\_\_\_\_

8. \_\_\_\_\_

9. \_\_\_\_\_

10. \_\_\_\_\_

11. \_\_\_\_\_

12. \_\_\_\_\_

13. \_\_\_\_\_

14. \_\_\_\_\_

15. \_\_\_\_\_

16. \_\_\_\_\_

17. \_\_\_\_\_

18. \_\_\_\_\_

19. \_\_\_\_\_

20. \_\_\_\_\_

21. \_\_\_\_\_

22. \_\_\_\_\_

23. \_\_\_\_\_

24. \_\_\_\_\_

25. \_\_\_\_\_

26. \_\_\_\_\_

27. \_\_\_\_\_

28. \_\_\_\_\_

29. \_\_\_\_\_

30. \_\_\_\_\_

31. \_\_\_\_\_

32. \_\_\_\_\_

33. \_\_\_\_\_

34. \_\_\_\_\_

35. \_\_\_\_\_

36. \_\_\_\_\_

37. \_\_\_\_\_

## Topografie - Landen van Europa - Antwoordblad versie B

**Eiland:** Werelddeel

**Leerdoel:** Landen

### Antwoorden:

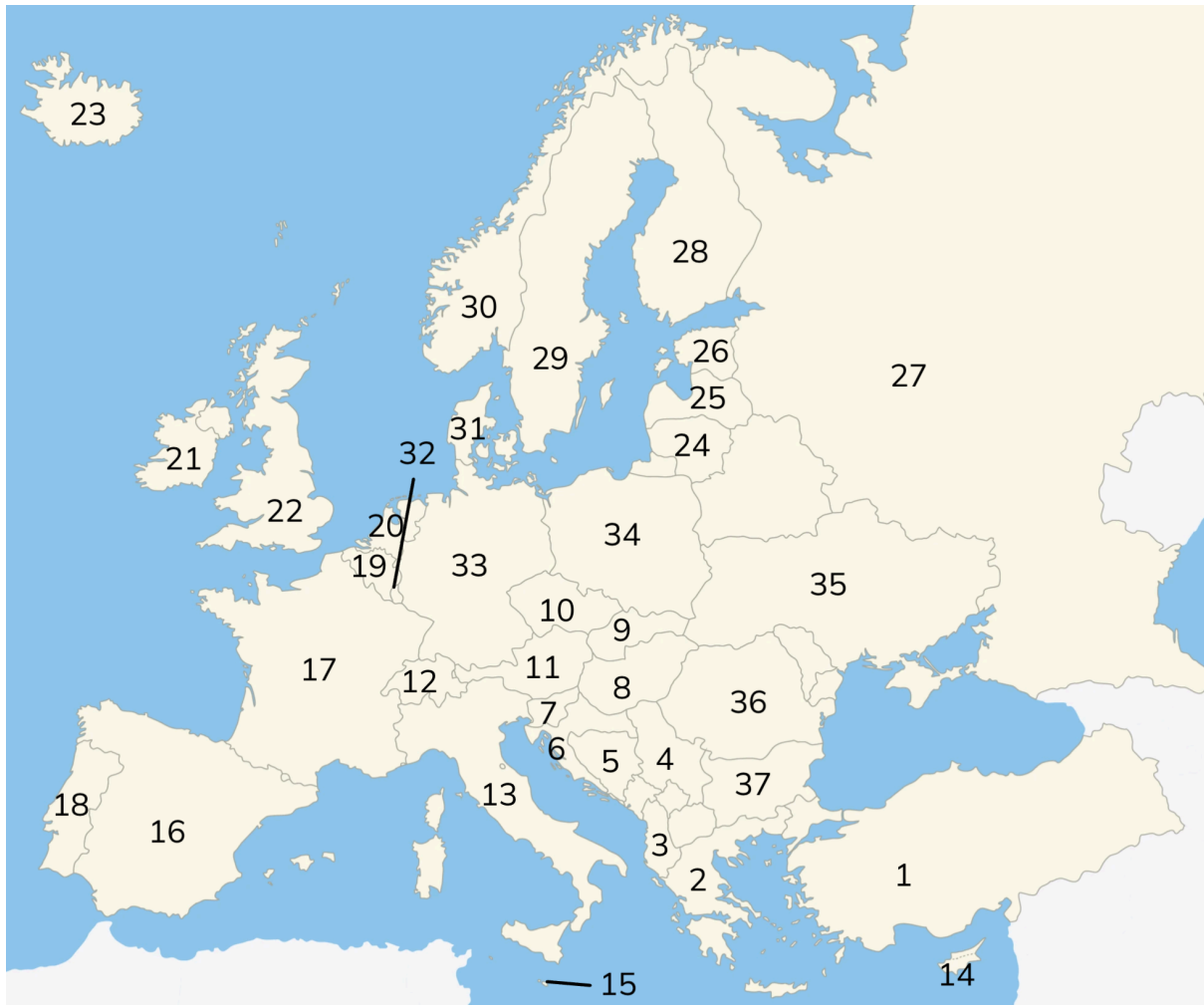
1. Slovenië
2. Kroatië
3. Bosnië en Herzegovina
4. Servië
5. Albanië
6. Griekenland
7. Bulgarije
8. Turkije
9. Roemenië
10. Hongarije
11. Oostenrijk
12. Zwitserland
13. Italië
14. Malta
15. Cyprus
16. Spanje
17. Portugal
18. Frankrijk
19. België
20. Nederland
21. Luxemburg
22. Verenigd koninkrijk
23. Ierland
24. IJsland
25. Noorwegen
26. Zweden
27. Finland
28. Estland
29. Rusland
30. Letland
31. Litouwen
32. Denemarken
33. Polen
34. Oekraïne
35. Slowakije
36. Tsjechië
37. Duitsland

## Topografie - Landen van Europa - Werkblad versie C

Eiland: Werelddeel

Leerdoel: Landen

**Opdracht.** Schrijf bij ieder nummer het juiste land op.





1. \_\_\_\_\_

2. \_\_\_\_\_

3. \_\_\_\_\_

4. \_\_\_\_\_

5. \_\_\_\_\_

6. \_\_\_\_\_

7. \_\_\_\_\_

8. \_\_\_\_\_

9. \_\_\_\_\_

10. \_\_\_\_\_

11. \_\_\_\_\_

12. \_\_\_\_\_

13. \_\_\_\_\_

14. \_\_\_\_\_

15. \_\_\_\_\_

16. \_\_\_\_\_

17. \_\_\_\_\_

18. \_\_\_\_\_

19. \_\_\_\_\_

20. \_\_\_\_\_

21. \_\_\_\_\_

22. \_\_\_\_\_

23. \_\_\_\_\_

24. \_\_\_\_\_

25. \_\_\_\_\_

26. \_\_\_\_\_

27. \_\_\_\_\_

28. \_\_\_\_\_

29. \_\_\_\_\_

30. \_\_\_\_\_

31. \_\_\_\_\_

32. \_\_\_\_\_

33. \_\_\_\_\_

34. \_\_\_\_\_

35. \_\_\_\_\_

36. \_\_\_\_\_

37. \_\_\_\_\_

## Topografie - Landen van Europa - Antwoordblad versie C

**Eiland:** Werelddeel

**Leerdoel:** Landen

### Antwoorden:

1. Turkije
2. Griekenland
3. Albanië
4. Servië
5. Bosnië en Herzegovina
6. Kroatië
7. Slovenië
8. Hongarije
9. Slowakije
10. Tsjechië
11. Oostenrijk
12. Zwitserland
13. Italië
14. Cyprus
15. Malta
16. Spanje
17. Frankrijk
18. Portugal
19. België
20. Nederland
21. Ierland
22. Verenigd Koninkrijk
23. IJsland
24. Litouwen
25. Letland
26. Estland
27. Rusland
28. Finland
29. Zweden
30. Noorwegen
31. Denemarken
32. Luxemburg
33. Duitsland
34. Polen
35. Oekraïne
36. Roemenië
37. Bulgarije