

## Procenten, Breuken & Verhoudingen 6C

**Eiland:** Kennismaken met percentages  
**Leerdoel:** Weergeven van een percentage in een figuur




Liniaal




Kleurpotloden

### Opgave 1 Kleur 20%.



### Opgave 2 Kleur 50% van het vierkant.



### Opgave 3 Kleur 25% van de rechthoek.



### Opgave 4 Kleur 40% van het stuk grond oranje.

*De gemeente heeft een stuk grond gekocht. 40% van dit stuk grond wordt bebouwd met huizen.*

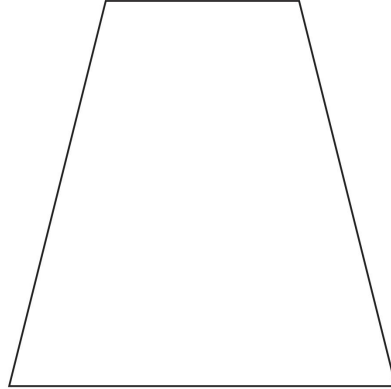


**Opgave 5** Kleur 33,33% van de fles.

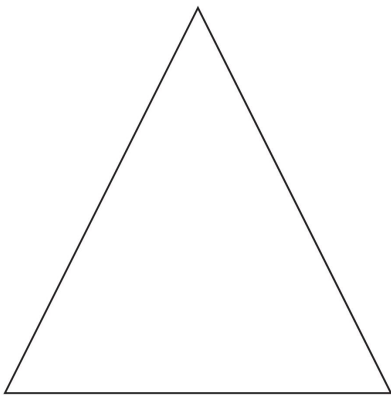


**Opgave 6** Kleur 66,67% van deze plattegrond groen.

*Dit is een plattegrond van een park. In het park is 66,67% gras.*



**Opgave 7** Kleur 25% van de driehoek.



**Opgave 8** Kleur 75% van de fles.



**Opgave 9** Kleur 33,33% op 3 verschillende manieren.



**Opgave 10** Kleur 66,67%.

